




کُد کنترل

121

A



121A

آزمون شماره:

۹

سراسری ۱۴۰۲
نوبت دوم - داخل

دفترچه شماره:

۱

اگر دانشگاه اصلاح شود مملکت اصلاح می‌شود.
امام خمینی (ره)

آزمون اختصاصی (سراسری) ورودی دانشگاه‌ها و مؤسسات آموزش عالی نوبت دوم - تیرماه سال ۱۴۰۲

گروه آزمایشی علوم ریاضی و فنی

ردیف	مواد امتحانی	تعداد سؤال	از شماره	تا شماره	زمان پاسخگویی
۱	ریاضیات	۴۰	۱	۴۰	۷۰ دقیقه

استفاده از ماشین حساب ممنوع می‌باشد.

این آزمون نمره منفی دارد.

* داوطلب گرامی، عدم درج مشخصات و امضا در مندرجات جدول زیر، به منزله عدم حضور شما در جلسه آزمون است.

اینجانب با شماره داوطلبی با آگاهی کامل، یکسان بودن شماره صندلی خود را با شماره داوطلبی مندرج در بالای کارت ورود به جلسه، بالای پاسخنامه و دفترچه سؤالات، نوع و کد کنترل درج شده بر روی دفترچه سؤالات تأیید می‌نمایم.

امضا:

۱- اگر جملات یک دنباله هندسی با قدر نسبت r را نصف کنید، دنباله‌ای حسابی با قدر نسبت d خواهید داشت. مقدار $r + d$ کدام است؟

(۱) صفر (۲) ۱ (۳) $\sqrt{2}$ (۴) $\frac{1}{2}$

۲- نقاط $A(3, y)$ و $B(-5, y)$ روی یک سهمی واقع شده‌اند و عرض رأس سهمی برابر ۱ است. اگر این سهمی، محور x ها را در نقاطی با طول‌های α و β قطع کند و $\alpha^2 + \beta^2 = 5$ باشد، این سهمی محور y ها را در نقطه‌ای با کدام عرض قطع می‌کند؟

(۱) $-\frac{1}{3}$ (۲) $-\frac{2}{3}$ (۳) $\frac{1}{3}$ (۴) $\frac{2}{3}$

۳- برای مجموعه‌های $A = \{a - 2, 6, 2b + 1, c\}$ و $B = \{\sqrt{d}, 5, -1\}$ ، فرض کنید $A \times B = B \times A$ باشد، در چند حالت مقدار $a + b + c = 9$ است؟

(۱) ۱ (۲) ۲ (۳) ۳ (۴) صفر

۴- مطابق با جدول ارزش درستی گزاره‌های زیر، کدام گزاره مرکب می‌تواند هم‌ارز منطقی گزاره X باشد؟

p	q	r	X
د	د	د	ن
د	د	ن	ن
د	ن	د	د
د	ن	ن	ن
ن	د	د	ن
ن	د	ن	د
ن	ن	د	د
ن	ن	ن	ن

(۱) $(q \Rightarrow (p \vee r)) \Rightarrow ((p \vee \sim p) \wedge (\sim q \wedge r))$

(۲) $(r \Rightarrow (p \vee q)) \Rightarrow ((p \vee \sim p) \wedge (q \wedge \sim r))$

(۳) $[p \Rightarrow ((q \vee r) \Rightarrow (q \wedge r))] \Rightarrow (\sim (p \vee r) \wedge q)$

(۴) $(r \Rightarrow (p \vee q)) \Rightarrow [((p \Rightarrow r) \Rightarrow (\sim p \wedge r)) \wedge q]$

محل انجام محاسبات

۵- اگر α و β ریشه‌های متمایز معادله $ax^2 - ax - b = 0$ و $17 = 20\beta - 20\alpha + 40\beta^2$ باشد، اختلاف ریشه‌های

این معادله کدام است؟

(۱) $\frac{1}{5}$ (۲) $\frac{2}{5}$ (۳) $\frac{1}{\sqrt{5}}$ (۴) $\frac{2}{\sqrt{5}}$

۶- مجموع ریشه‌های معادله $\frac{1}{x^2} + \frac{1}{(1-x)^2} = \frac{16}{9}$ کدام است؟

(۱) ۱ (۲) $1/75$ (۳) ۲ (۴) $2/25$

۷- نقطه $(2, 4/5)$ رأس یک مستطیل است که دو ضلع آن منطبق بر خطوط $4x + y = 3$ و $x - 4y = 5$ هستند.

بیشترین فاصله وسط قطر از اضلاع کدام است؟

(۱) $\frac{\sqrt{17}}{2}$ (۲) $\frac{\sqrt{17}}{4}$ (۳) $2\sqrt{17}$ (۴) $\sqrt{17}$

۸- وارون تابع $f(x) = \sqrt{x - 2\sqrt{mx} - 1}$ در دامنه محدود، خط $y = 12 - x$ را در نقطه‌ای به عرض 10° قطع می‌کند.

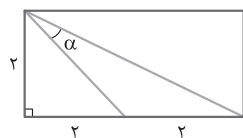
مقدار $f(m + 4)$ کدام است؟

(۱) $\frac{1}{2}$ (۲) $\frac{1}{4}$ (۳) ۲ (۴) ۱

۹- مقداری از یک عنصر موجود است. اگر عنصر در هر ساعت $\frac{1}{9}$ از جرم باقی‌مانده را از دست بدهد، پس از چند

دقیقه $\frac{1}{6}$ از جرم عنصر باقی خواهد ماند؟ ($\log_3 5 = 1/4$ و $\log_2 5 = 2/4$)

(۱) ۳۸۰ (۲) ۳۶۰ (۳) ۴۴۰ (۴) ۴۲۰



۱۰- در شکل زیر، مقدار $\cot \alpha$ کدام است؟

(۱) ۱ (۲) ۳ (۳) $\frac{1}{3}$ (۴) $\frac{1}{2}$

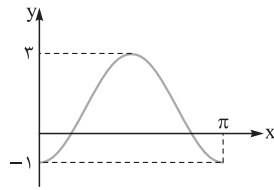
۱۱- مثلث ABC ، با اضلاع $\sqrt{3}$ ، ۶ و α (زاویه بین آنها) قابل رسم است. اگر مساحت این مثلث $4/5$ باشد،

بیشترین مقدار α چند برابر کم‌ترین مقدار α است؟

(۱) ۲ (۲) ۳ (۳) ۴ (۴) ۵

محل انجام محاسبات

۱۲- اگر شکل زیر، قسمتی از نمودار تابع $f(x) = a + b \sin(cx - \frac{3\pi}{4}) \cos(cx - \frac{3\pi}{4})$ باشد، اختلاف صفرهای



تابع f در بازه $[0, \pi]$ ، کدام است؟

$$\frac{\pi}{4} \quad (۲)$$

$$\frac{\pi}{6} \quad (۱)$$

$$\frac{2\pi}{3} \quad (۴)$$

$$\frac{\pi}{2} \quad (۳)$$

۱۳- در معادله مثلثاتی $\sqrt{6} \sin(2x) = \sqrt{6} (\cos x - \sin x) - 3\sqrt{6} \sin(x)$ اگر $\cos(x + \frac{\pi}{4}) = \frac{1}{\sqrt{3}}$ باشد، مقدار m کدام است؟

$$۳ \quad (۴)$$

$$۶ \quad (۳)$$

$$-۳ \quad (۲)$$

$$-۶ \quad (۱)$$

۱۴- تابع f اکیداً نزولی و دامنه آن مجموعه‌ای از مقادیر منفی است. اگر $f(m^2 - m - 5) < f(-3 + 2m - m^2)$ باشد،

m دارای چند مقدار صحیح است؟

$$\text{صفر} \quad (۴)$$

$$۳ \quad (۳)$$

$$۲ \quad (۲)$$

$$۱ \quad (۱)$$

۱۵- تابع f هموگرافیک، $g(x) = \frac{1}{f(x)}$ و $\lim_{x \rightarrow -\infty} \frac{f(x)}{g^{-1}(x)} = \lim_{x \rightarrow +\infty} \frac{g^{-1}(x)}{g(x)}$ است، کدام عدد می‌تواند حاصل

$\lim_{x \rightarrow 0^+} f^{-1}(x)$ باشد؟

$$۲ \quad (۴)$$

$$۱ \quad (۳)$$

$$\frac{1}{2} \quad (۲)$$

$$\text{صفر} \quad (۱)$$

۱۶- برای مقدار مشخص k ، تابع $f(x) = \begin{cases} |x - [-x]| & \text{زوج } [x] \\ x - [x] + k & \text{فرد } [x] \end{cases}$ در $x = n$ و $x = -n$ پیوسته است. کدام مورد در

خصوص $n \in \mathbb{N}$ صحیح است؟

$$n \text{ فرد} \quad (۲)$$

$$n \text{ زوج} \quad (۱)$$

(۴) برای هیچ مقداری از n پیوسته نیست.

(۳) برای جميع مقادیر n پیوسته است.

۱۷- اگر $f(x) = \left(\frac{-1 + \sin x}{1 + \sin x}\right)^2$ و $f(x) = xg(x) + 1$ باشد، حاصل $\lim_{x \rightarrow 0} g(x)$ کدام است؟

$$-۲ \quad (۴)$$

$$-۴ \quad (۳)$$

$$۲ \quad (۲)$$

$$۴ \quad (۱)$$

محل انجام محاسبات

۱۸- خط d موازی محور x ها، قرینه سهمی $y = x^2 + 1$ نسبت به محور x ها را در دو نقطه قطع می کند و مماس های رسم شده در این نقاط بر هم عمودند. فاصله خط d از مبدأ مختصات کدام است؟

- (۱) $1/25$ (۲) $3/25$ (۳) $0/75$ (۴) $2/75$

۱۹- به ازای چند مقدار صحیح و منفی k ، نقطه عطف منحنی $y = kx^3 + (k+1)x^2$ در ناحیه دوم محورهای مختصات قرار دارد؟

- (۱) ۱ (۲) ۲ (۳) بیش از ۲ (۴) صفر

۲۰- کمترین فاصله نقاط واقع بر منحنی $y = \sqrt{x - [x^2]}$ از خط $2x - y + 2 = 0$ کدام است؟

- (۱) $\frac{\sqrt{5}}{5}$ (۲) $\frac{3\sqrt{5}}{8}$ (۳) $\frac{\sqrt{5}}{10}$ (۴) $\frac{3\sqrt{5}}{10}$

۲۱- ۴ وزیر هر کدام با یک معاون به چند طریق می توانند روی ۸ صندلی در دو ردیف روبه روی هم بنشینند به طوری که هر وزیر دقیقاً روبه روی معاونش قرار بگیرد؟

- (۱) ۲۴ (۲) ۳۲ (۳) ۴۸ (۴) ۶۴

۲۲- در یک گروه ۱۵۰ نفری دانش آموزی، ۴۰ نفر فقط بلیت فیلم «الف» و ۷۵ نفر فقط بلیت فیلم «ب» را خریداری کرده اند. اگر $P(A)$ و $P(B)$ به ترتیب احتمال خرید بلیت فیلم های «الف» و «ب» باشند، بیشترین مقدار $\frac{P(A)}{P(B)}$ کدام است؟

- (۱) $\frac{15}{29}$ (۲) $\frac{38}{45}$ (۳) $\frac{8}{15}$ (۴) $\frac{15}{22}$

۲۳- اعداد ۹ تا ۱۹ در اختیار است. دو عدد دلخواه از بین این اعداد را حذف نموده و با مقدار اختلاف آن دو عدد جایگزین می شود. این روند تا جایی ادامه می یابد که همه اعداد زوج، غیر تکراری و با بیشترین میانگین ممکن باشند، انحراف معیار داده های جدید کدام است؟

- (۱) $\sqrt{10}$ (۲) $\sqrt{11}$ (۳) $\sqrt{21}$ (۴) $\sqrt{28}$

محل انجام محاسبات

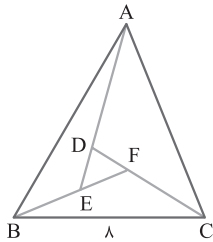
۲۴- یک دستگاه طوری طراحی شده که به تصادف یکی از دو حرف A یا B را از ورودی می‌گیرد و پس از طی سه مرحله، حرفی را در خروجی چاپ می‌کند. در هر مرحله حرف ورودی با احتمال $\frac{1}{3}$ بدون تغییر به مرحله بعد می‌رود یا به شکل حرف دیگری درآمده و به مرحله بعدی وارد می‌شود. اگر احتمال انتخاب حرف A، ۲ برابر حرف B باشد، با کدام احتمال، حرف «A» چاپ شده توسط دستگاه با حرف ورودی یکسان است؟

$$\frac{17}{41} \text{ (۴)} \quad \frac{9}{41} \text{ (۳)} \quad \frac{21}{23} \text{ (۲)} \quad \frac{14}{23} \text{ (۱)}$$

۲۵- در یک لوزی هر ضلع واسطه هندسی دو قطر لوزی است. اندازه زاویه کوچک‌تر در هر مثلث حاصل از رسم قطرهای این لوزی چند درجه است؟

$$15 \text{ (۲)} \quad 10 \text{ (۱)} \\ 45 \text{ (۴)} \quad 30 \text{ (۳)}$$

۲۶- در شکل زیر، $\hat{A}BF = \hat{C}AE = \hat{B}CD$ ، $DF = \frac{2}{5}$ و $EF = 3$ است. طول AB کدام است؟



$$8/6 \text{ (۱)} \\ 7/5 \text{ (۲)} \\ 10/5 \text{ (۳)} \\ 9/6 \text{ (۴)}$$

۲۷- در یک مستطیل، خط‌هایی از دو رأس مقابل بر یک قطر عمود می‌شوند و آن قطر به سه قسمت طوری تقسیم می‌شود که قسمت وسط دو برابر هر یک از قسمت‌های کناری است. مساحت این مستطیل چند برابر مساحت کوچک‌ترین مثلث ایجاد شده در مستطیل است؟

$$8 \text{ (۴)} \quad 12 \text{ (۳)} \quad 16 \text{ (۲)} \quad 24 \text{ (۱)}$$

۲۸- در مثلث ABC، میانه‌های رسم شده از رأس‌های B و C بر هم عمودند. اگر طول میانه رسم شده از رأس C برابر $4/5$ و مساحت این مثلث برابر ۱۸ باشد، نسبت طول میانه‌های رسم شده از دو رأس B و C کدام است؟

$$\frac{4}{3} \text{ (۴)} \quad \frac{5}{3} \text{ (۳)} \quad \frac{19}{9} \text{ (۲)} \quad \frac{17}{9} \text{ (۱)}$$

محل انجام محاسبات

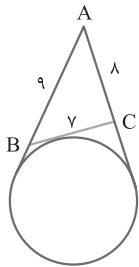
۲۹- یک پنج ضلعی در یک دایره محاط شده است. هر ضلع این پنج ضلعی، وتر رو به یک زاویه محاطی است. مجموع این زوایای محاطی کدام است؟

۳۶۰ (۴)

۷۲۰ (۳)

۱۸۰ (۲)

۵۴۰ (۱)



۳۰- در شکل زیر، از نقطه A دو مماس رسم شده است. شعاع دایره کدام است؟

۷/۲√۲ (۱)

۴/۸√۵ (۲)

۳/۶√۲ (۳)

۲/۴√۵ (۴)

۳۱- در بین مثلث‌هایی با مساحت ۳۰ واحد مربع که در ضلعی به اندازه ۱۵ واحد مشترک هستند، کم‌ترین مقدار محیط کدام است؟

۳۶ (۴)

۳۴ (۳)

۳۲ (۲)

۳۰ (۱)

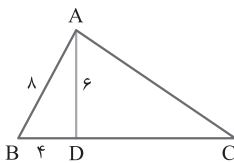
۳۲- در شکل زیر، اگر $\widehat{D\hat{A}C} = 3\widehat{B\hat{A}D}$ باشد، طول ضلع AC کدام است؟

۱۶/۸ (۲)

۱۹/۲ (۱)

۱۵/۴ (۴)

۱۸/۶ (۳)



۳۳- اگر $A = \begin{bmatrix} \log_6 3 & \log_6 2 \\ \log_6 2 & \log_6 3 \end{bmatrix}$ و $B = \begin{bmatrix} 6|A| & 2|A| \\ 3|A| & 36|A| \end{bmatrix}$ باشد، مقدار دترمینان B کدام است؟

۱۵/۸ (۴)

۹/۸ (۳)

۱۵/۴ (۲)

۹/۴ (۱)

۳۴- نمودار سهمی با مختصات رأس $(-1, -1)$ ، از نقطه $(1, 1)$ می‌گذرد. اگر از دو سر وتری که از کانون بر محور سهمی عمود است، دو خط موازی با محور سهمی بر خط هادی عمود کنیم، یک مستطیل رسم می‌شود. قطر مستطیل حاصل کدام است؟

√۳ (۴)

۳√۲ (۳)

√۵ (۲)

۵√۲ (۱)

محل انجام محاسبات

۳۵- فرض کنید \bar{a} و \bar{b} بردارهای ناصفری هستند که ضرب داخلی آن‌ها، $-\frac{3}{5}$ حاصل ضرب اندازه‌های دو بردار است.

مساحت مثلثی را که توسط بردارهای $(\frac{\bar{a}}{|\bar{a}|} - \frac{\bar{b}}{|\bar{b}|})$ و $(\frac{3\bar{a}}{|\bar{a}|} + \frac{2\bar{b}}{|\bar{b}|})$ ساخته می‌شود، کدام است؟

- ۱) $\frac{6}{4}$ ۲) $\frac{4}{8}$ ۳) $\frac{3}{2}$ ۴) $\frac{1}{6}$

۳۶- خط d به معادله $y - x = 0$ ، عمودمنصف خط‌المركزین دو دایره است که شعاع یکی ۲ برابر دیگری است. اگر

خط d بر دایره کوچک‌تر به معادله $x^2 + y^2 + 6x - 2y = r$ مماس باشد، حاصل ضرب طول نقاط برخورد دو دایره

کدام است؟

- ۱) $\frac{5}{2}$ ۲) $\frac{5}{4}$ ۳) $\frac{65}{32}$ ۴) $\frac{65}{64}$

۳۷- با قراردادن عدد سه‌رقمی $\overline{3(a \circ a)}$ بین دو رقم مشابه a ، عدد جدید ساخته می‌شود. حداکثر چند عدد اول

می‌تواند a را بشمارد؟

- ۱) صفر ۲) ۱ ۳) ۲ ۴) ۳

۳۸- مجموع ارقام کوچک‌ترین عدد طبیعی سه‌رقمی x که در معادله $63x + 77y = 273$ صدق می‌کند، کدام است؟

- ۱) ۴ ۲) ۵ ۳) ۸ ۴) ۹

۳۹- حداقل چند زوج مرتب با مؤلفه‌هایی از اعداد طبیعی انتخاب کنیم تا به طور قطع، لااقل در دو جفت انتخاب‌شده،

هر کدام از مجموع مؤلفه‌های اول و مجموع مؤلفه‌های دوم، مضرب ۵ باشند؟

- ۱) ۱۳ ۲) ۱۴ ۳) ۲۵ ۴) ۲۶

۴۰- حاصل ضرب درجه رأس‌های گراف G ، ۴۸ است. اگر تعداد رأس‌ها با درجه رأس یک حداقل باشد، حاصل

$\Delta(\bar{G}) + q(\bar{G})$ کدام است؟

- ۱) ۱۷ ۲) ۱۱ ۳) ۱۹ ۴) ۱۳

محل انجام محاسبات