



آدینه‌ی ۳



فارسی




آدینه ۳

۱ دلبندم تمیز و با دقت ادامه بده.



۲ به تعداد بخش‌های هر شکل گردی بکش.



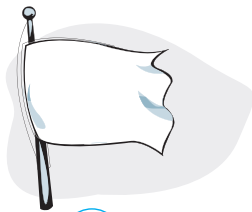
۳ شکل‌هایی را که اول آن‌ها مثل هم است، علامت ✓ بزن.





شکل‌هایی را که آخر آن‌ها مثل هم است، علامت ✓ بزن.

۴





آدینه‌ی ۳



ریاضی



۳

آدینه




۱ الگوها را ادامه بده.

1. الگوها را ادامه بده.

Row 1: □ □ ▲ □ □ ▲

Row 2: ○ □ ○ □

۲ با توجه به تعداد شکل‌ها در جدول، خانه‌ها را رنگ بزن.




▲	○	🕯️	☾	★	□

۳ اگر به شکل‌های سمت چپ ۲ تا اضافه کنیم، در هر ردیف چند تا می‌شود؟ شکل بکش.

Row 1: 2 cupcakes → 2 cupcakes → [cloud]

Row 2: 3 cupcakes → 2 cupcakes → [cloud]





سال اوّل

آدینه

جدول شگفت‌انگیز را کامل کن. ۴

○	○○	○○○	○○○○
○○○		○○	
○○	○	○○○○	
	○○○		○○





آدینه‌ی ۳




علوم


۳

آدینه

۱ برای دیدن و شنیدن از چه عضوهایی استفاده می‌شود؟ شکل بکش.



شنیدن





دیدن

۲ کدام گرم است؟ علامت ✓ بزن.



۳ بوی کدامیک ما را ناراحت می‌کند؟





۴ گرمی و سردی اجسام را با چه عضوی از بدن خود تشخیص می‌دهیم؟



۵ بدن کدام یک از حیوانات زیر زبر است؟



خیلی خوب



خوب



قابل قبول




نیازمند تلاش بیشتر





آدینه‌ی ۴



فارسی

آدینه ۴

۱ عزیزم زیبا بنویس.



.....



.....



.....



.....




.....






.....

۲ به تعداد بخش‌های هر شکل، از گردی‌ها رنگ بزن.



۳ گردی شکل‌هایی را که صدای آخر آن‌ها مثل هم است، رنگ کن.





سال اوّل

آدینه

۴ عزیزم در جای خالی تصویر مناسب بکش.

است.

مانند صدای اوّل



صدای اوّل





آدینه‌ی ۴



ریاضی



۴

آدینه



شکل‌های دو دسته روی هم چندتا هستند؟ با چوب خط نشان بده.

۱




با توجه به چوب خط، در جای خالی شکل بکش.

۲



در جدول پایین به دلخواه الگو بساز و ادامه بده.

۳






۴ به تعداد شکل‌ها چوب خط بکش.



۵ به تعداد شکل‌های سمت چپ، در سمت راست شکل بکش و رنگ کن.




۶



۶



۶





آدینه‌ی ۴





علوم

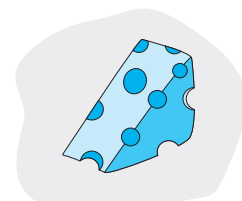

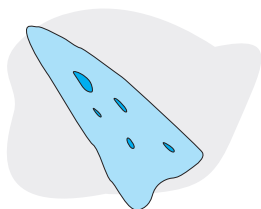
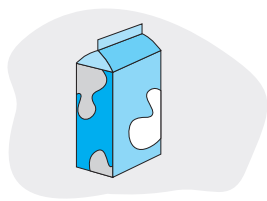
۴

آدینه



۱ کدام شکل‌ها، به زیر آب فرو نمی‌روند؟



۲ خوراکی‌هایی را که از جانوران به دست آمده است علامت ✓ بزن.

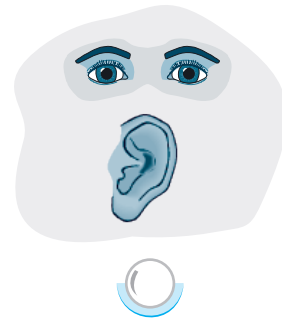



۳ از شکل‌های زیر، آن را که بی‌مزه است، مشخص کن.






۴ در هنگام دیدن تلویزیون از کدام اندام‌های خود استفاده می‌کنیم؟



۵ کدام یک از جانوران زیر حسّ بویایی قوی‌تر دارد؟



— عزیزم، یک نقاشی به دلخواه خودت بکش.

خیلی خوب



خوب



قابل قبول



نیازمند تلاش بیشتر

