



## فصل ۱

# دنیای زنده

پروانه‌های موناک یکی از شگفت‌انگیزترین مهاجرت‌ها را به نمایش می‌گذارند. جمعیت این پروانه‌ها هر سال هزاران کیلومتر را از مکزیک تا جنوب کانادا و بالعکس می‌پیماید. چگونه پروانه‌های موناک مسیر خود را پیدا می‌کنند و راه را به اشتباه نمی‌روند؟ زیست‌شناسان پس از سال‌ها پژوهش، به تازگی این معما را حل کرده‌اند. آنان در بدن پروانه موناک، یاخته‌های عصبی (نورون‌هایی) یافته‌اند که پروانه‌ها با استفاده از آنها، جایگاه خورشید در آسمان و جهت مقصد را تشخیص می‌دهند و به سوی آن پرواز می‌کنند.

آیا علم زیست‌شناسی قادر است همه رازهای حیات را بیابد؟ زیست‌شناسان علاوه بر تلاش برای پی‌بردن به رازهای آفرینش، سعی می‌کنند یافته‌های خود را در بهبود زندگی انسان به کار برند.

موجودات زنده چه ویژگی‌هایی دارند که آنها را از موجودات غیرزنده متمایز می‌کند. در این فصل به پاسخ چنین پرسش‌هایی می‌پردازیم.



- چگونه می‌توان گیاهانی پرورش داد که در مدتی کوتاه‌تر، مواد غذایی بیشتری تولید کنند؟
  - چرا باید تنوع زیستی حفظ شود؟ چرا باید حیات وحش حفظ شود؟
  - چرا بعضی از یاخته‌های بدن انسان سرطانی می‌شوند؟ چگونه می‌توان یاخته‌های سرطانی را در مراحل اولیه سرطانی شدن شناسایی و نابود کرد؟
  - چگونه می‌توان سوخت‌های زیستی مانند الکل را جانشین سوخت‌های فسیلی، مانند مواد نفتی کرد؟
  - چگونه می‌توان از بیماری‌های ارثی، پیشگیری، و یا آنها را درمان کرد؟
- اینها فقط چند پرسش از میان انبوه پرسش‌هایی است که زیست‌شناسان تلاش می‌کنند پاسخ‌های آنها را بیابند تا علاوه بر پی‌بردن به رازهای آفرینش، به حل مسائل و مشکلات زندگی انسان امروزی نیز کمک کنند و در این راه به موفقیت‌هایی هم رسیده‌اند. زیست‌شناسی، شاخه‌ای از علوم تجربی است که به بررسی علمی جانداران و فرایندهای زیستی می‌پردازد.

## فعالیت ۱

یک روزنامه خبری معمولی تهیه کنید. خبرهای مربوط به زیست‌شناسی را انتخاب کنید (برای تعیین خبرهای مربوط به زیست‌شناسی از معلم خود کمک بخواهید).

در روزنامه‌ای که انتخاب کرده‌اید، چند درصد از خبرها به زیست‌شناسی مربوط است؟ از این خبرها، چند خبر خوب و چند خبر بد هستند؟

می‌توانید به جای روزنامه از وبگاه‌های خبری در بازه زمانی خاصی استفاده و درصد خبرهای زیستی آن را پیدا کنید.



## محدوده علم زیست‌شناسی

امروزه بسیاری از بیماری‌ها مانند بیماری قند و افزایش فشارخون که حدود صد سال پیش به مرگ منجر می‌شدند، مهار شده‌اند و به علت روش‌های درمانی و داروهای جدید، دیگر مرگ‌آور نیستند. ممکن است با مشاهده پیشرفت‌ها و آثار علم زیست‌شناسی، این تصور در ذهن ما شکل بگیرد که این علم به اندازه‌ای توانا و گسترده است که می‌تواند به همه پرسش‌های انسان پاسخ دهد و همه مشکلات زندگی ما را حل کند؛ درحالی‌که این تصور نیست. به‌طور کلی علم تجربی، محدودیت‌هایی دارد و نمی‌تواند به همه پرسش‌های ما پاسخ دهد و از حل برخی مسائل بشری ناتوان است.

دانشمندان و پژوهشگران علوم تجربی فقط در جست‌وجوی علت‌های پدیده‌های طبیعی و قابل مشاهده‌اند. مشاهده، اساس علوم تجربی است؛ بنابراین، در زیست‌شناسی، فقط ساختارها و یا

فرایندهایی را بررسی می‌کنیم که برای ما به طور مستقیم یا غیر مستقیم قابل مشاهده و اندازه‌گیری اند. پژوهشگران علوم تجربی نمی‌توانند دربارهٔ زشتی و زیبایی، خوبی و بدی، ارزش‌های هنری و ادبی نظر بدهند.

## فعالیت ۲

مجری یک برنامهٔ تلویزیونی گفته است «زیست‌شناسان ثابت کرده‌اند که شیر، مایعی خوشمزه است». این گفته درست است یا نادرست؟

### زیست‌شناسی نوین

امروزه زیست‌شناسی ویژگی‌هایی دارد که آن را به رشته‌ای مترقی، توانا، پویا و امیدبخش تبدیل کرده است. در ادامه به این ویژگی‌ها می‌پردازیم.

**کل‌نگری:** جورچینی (پازلی) را در نظر بگیرید که از قطعات بسیار زیادی تشکیل شده است. ممکن است هر یک از قطعات آن به تنهایی بی‌معنی به نظر آید؛ اما اگر قطعه‌های آن را یکی یکی در جای درست در کنار همدیگر قرار دهیم، مشاهده می‌کنیم که اجزای جورچین، به تدریج نمایی بزرگ، کلی و معنی‌دار پیدا می‌کنند و تصویری از شیئی آشنا به ما نشان می‌دهند.

پیکر هر یک از جانداران نیز از اجزای بسیاری تشکیل شده است. هر یک از این اجزا، بخشی از یک سامانهٔ بزرگ را تشکیل می‌دهد که در نمای کلی برای ما معنی پیدا می‌کند. بنابراین، جانداران را نوعی سامانه می‌دانند که اجزای آن باهم ارتباط دارند؛ به همین علت ویژگی‌های سامانه را نمی‌توان فقط از طریق مطالعهٔ اجزای سازندهٔ آن توضیح داد و ارتباط بین اجزا نیز مانند خود اجزا در تشکیل جاندار، مؤثر و کلی سامانه، چیزی بیشتر از مجموع اجزای آن است.

**نگرش بین‌رشته‌ای:** زیست‌شناسان امروزی برای شناخت هر چه بیشتر سامانه‌های زنده از اطلاعات رشته‌های دیگر نیز کمک می‌گیرند؛ مثلاً برای بررسی ژن‌های جانداران، علاوه بر اطلاعات زیست‌شناختی، از فنون و مفاهیم مهندسی، علوم رایانه، آمار و بسیاری رشته‌های دیگر هم استفاده می‌کنند.

**فناوری‌های نوین:** این فناوری‌ها نقش مهمی در پیشرفت علم زیست‌شناسی داشته و دارند. در ادامه به نمونه‌هایی از این فناوری‌ها می‌پردازیم.

**فناوری‌های اطلاعاتی و ارتباطی:** امروزه بیشتر از هر زمان دیگر به جمع‌آوری، بایگانی و تحلیل اطلاعات حاصل از پژوهش‌های زیست‌شناختی نیاز داریم؛ دستاوردها و تحولات بیست‌سالهٔ اخیر فناوری اطلاعات و ارتباطات در پیشرفت زیست‌شناسی، تأثیر بسیاری داشته است. این فناوری‌ها امکان انجام محاسبات را در کوتاه‌ترین زمان ممکن فراهم کرده‌اند (شکل ۱).

### بیشتر بدانید

#### زیست‌شناسی مصنوعی

زیست‌شناسی مصنوعی موضوع‌های مختلفی، مانند زیست‌فناوری، زیست‌شناسی مولکولی، زیست‌شناسی سامانه‌ها، مهندسی رایانه و مهندسی ژنتیک را به هم مرتبط می‌کند. متخصصان این علم می‌کوشند سامانه‌هایی طراحی و اجرا کنند که به‌طور طبیعی یافت نمی‌شوند. طراحی و تولید آنزیم‌هایی با کارایی بهینه و کاربرد آنها مثلاً برای تولید مواد پاک‌کننده، یک نمونه از کاربردهای این رشته است. رعایت اخلاق زیستی در زیست‌شناسی مصنوعی، اهمیت فراوان دارد.



شکل ۱- راست: انتقال حافظه ۵ مگابایتی شرکت آی بی ام، پیشرفته‌ترین سخت افزار روز جهان در سال ۱۹۵۶؛ این حافظه را از نظر اندازه، ظرفیت و قیمت با حافظه‌های امروزی مقایسه کنید. چپ: یک حافظه ۲ ترابایتی امروزی

**مهندسی ژنتیک:** مدت‌هاست که زیست‌شناسان می‌توانند با استفاده از مهندسی ژنتیک در جانداران تغییر ایجاد کنند. **مهندسی ژنتیک** مجموعه‌ای از روش‌ها و فنون آزمایشگاهی است که به منظور تغییر در محتوای دنا جانداران و ایجاد صفت جدید به کار می‌رود. انتظار نداریم که جانوری مانند بز بتواند پروتئین تار عنکبوت بسازد، اما این کار با استفاده از مهندسی ژنتیک رخ داده است. پژوهشگران توانسته‌اند با انتقال ژن، بزهایی تولید کنند که در شیر آنها این پروتئین ساخته می‌شود که در صورت تجاری شدن تحولی در صنعت رخ خواهد داد. تار عنکبوت از مواد ارزشمند در طبیعت است و می‌تواند کاربردهای وسیعی در صنایع متفاوت داشته باشد.

**اخلاق زیستی:** پیشرفت‌های سریع علم زیست‌شناسی، به‌ویژه در مهندسی ژنتیک، زمینه سوء استفاده‌هایی را در جامعه فراهم کرده است. محرمانه بودن اطلاعات ژنی و نیز اطلاعات پزشکی افراد و حقوق جانوران از موضوع‌های اخلاق زیستی هستند.

یکی از سوء استفاده‌ها از علم زیست‌شناسی، تولید سلاح‌های زیستی است. چنین سلاحی مثلاً می‌تواند عامل بیماری‌زایی باشد که نسبت به داروهای رایج مقاوم است یا فراورده‌های غذایی و دارویی با عواقب زیانبار برای افراد باشند. بنابراین وضع قوانین جهانی برای جلوگیری از چنین سوء استفاده‌هایی از علم زیست‌شناسی ضروری است.

## **زیست‌شناسی در خدمت انسان**

امروزه با مسائل فراوانی در زمینه‌های متفاوت مواجه هستیم. زیست‌شناسی به حل این مسائل چه کمکی می‌تواند بکند؟ در ادامه مروری بر نقش زیست‌شناسی در حل این مسائل داریم.

**تأمین غذای سالم و کافی:** گفته می‌شود که هم اکنون حدود یک میلیارد نفر در جهان از گرسنگی و سوء تغذیه رنج می‌برند؛ چگونه غذای سالم و کافی برای جمعیت‌های رو به افزایش انسانی فراهم کنیم؟

می‌دانیم غذای انسان به‌طور مستقیم یا غیرمستقیم از گیاهان به دست می‌آید؛ پس شناخت بیشتر گیاهان یکی از راه‌های تأمین غذای بیشتر و با مواد مغذی بیشتر است.


از راه‌های افزایش کمیّت و کیفیت غذای انسان، شناخت روابط گیاهان و محیط زیست است. گیاهان مانند همه جانداران دیگر در محیطی پیچیده، شامل عوامل غیرزنده مانند دما، رطوبت، نور



و عوامل زنده شامل باکتری‌ها، قارچ‌ها، حشرات و مانند آنها رشد می‌کنند و محصول می‌دهند. بنابراین، شناخت بیشتر تعامل‌های سودمند یا زیانمند بین این عوامل و گیاهان، به افزایش محصول کمک می‌کند.

**حفاظت از بوم‌سازگان‌ها، ترمیم و بازسازی آنها:** انسان، جزئی از دنیای زنده است و لذا نمی‌تواند بی‌نیاز و جدا از موجودات زنده دیگر و در تنهایی به زندگی ادامه دهد. به‌طورکلی منابع و سودهایی را که هر بوم‌سازگان دربردارد، خدمات بوم‌سازگان می‌نامند. میزان خدمات هر بوم‌سازگان به میزان تولیدکنندگان آن بستگی دارد. پایدار کردن بوم‌سازگان‌ها به‌طوری که حتی در صورت تغییر اقلیم، تغییر چندانی در مقدار تولیدکنندگی آنها روی ندهد، موجب ارتقای کیفیت زندگی انسان می‌شود.

شکل ۲- یکی از بوم‌سازگان‌های آسیب‌دیده ایران، دریاچه ارومیه است.



### بیشتر بدانید

#### دریاچه ارومیه

دریاچه ارومیه بزرگ‌ترین دریاچه داخلی ایران است و در سال ۱۳۵۲ در فهرست پارک‌های ملی ایران به ثبت رسیده است. پارک ملی دریاچه ارومیه از زیستگاه‌های طبیعی ایران است. بررسی تصاویر ماهواره‌ای نشان می‌دهد که این دریاچه تا سال ۱۳۹۴ مقدار زیادی از مساحت خود را از دست داده است. خشکسالی، حفر بی‌حساب‌چاه‌های کشاورزی در اطراف آن، بی‌توجهی به قوانین طبیعت، احداث بزرگراه روی دریاچه، استفاده غیرعلمی از آب‌های رودخانه‌هایی که به این دریاچه می‌ریزند و سدسازی در مسیر این رودها، از عوامل این خشکی هستند.

دریاچه ارومیه چندین سال است که در خطر خشک شدن قرار گرفته است. زیست‌شناسان کشورمان با استفاده از اصول علمی بازسازی بوم‌سازگان‌ها، راهکارهای لازم را برای احیای آن ارائه کرده‌اند و امید دارند که در آینده از نابودی این میراث طبیعی جلوگیری کنند (شکل ۲).

قطع درختان جنگل‌ها برای استفاده از چوب یا زمین جنگل، مسئله محیط‌زیستی امروز جهان است. پژوهش‌ها نشان داده‌اند که در سال‌های اخیر، مساحت بسیار گسترده‌ای از جنگل‌های ایران و جهان تخریب و بی‌درخت شده‌اند. از بین رفتن جنگل‌ها پیامدهای بسیار بدی برای سیاره زمین دارد. تغییر آب‌وهوا، سیل، کاهش تنوع زیستی و فرسایش خاک از آن جمله‌اند.

**تأمین انرژی‌های تجدیدپذیر:** نیاز مردم جهان به انرژی در حال افزایش است. بیشترین نیاز کنونی جهان به انرژی از منابع فسیلی، مانند نفت، گاز و بنزین تأمین می‌شود؛ اما می‌دانیم که سوخت‌های فسیلی موجب افزایش کربن دی‌اکسید جو، آلودگی هوا و درنهایت باعث گرمایش زمین

## بیشتر بدانید

### نانوفناوری در خدمت بینایی انسان

بیماری تحلیل شبکیه چشم، یکی از علت‌های نابینایی کهن سالان است. در این بیماری که ممکن است از ۶۵ سالگی به بعد در افراد ظاهر شود، یاخته‌های حساس به نور در شبکیه به تدریج از بین می‌روند، یا نمی‌توانند به درستی کار کنند. برای کمک به این بیماران، شبکیه مصنوعی ساخته شده است. می‌توان عصب‌هایی را که از یاخته‌های عصبی مسئول بینایی در شبکیه خارج می‌شوند و به مغز می‌روند به ریزتراشه‌هایی شامل مجموعه‌ای از چشم‌های الکترونیکی میکروسکوپی متصل کرد که می‌توانند اثر نور را به پیام عصبی تبدیل کنند، در نتیجه، بیماران که نابینا هستند، می‌توانند اشیاء را ببینند و خطوط درشت روزنامه‌ها را بخوانند.

## واژه‌شناسی

### دنا (DNA / دی.ان.ای)

دنا اکسی‌ریبونوکلئیک اسید با نام اختصاری DNA و تلفظ دی.ان.ای شناخته می‌شود. فرهنگستان زبان و ادب فارسی به جای حروف تک تک (د) و (ن) و (ا) کلمه «دنا» را معرفی می‌کند که در تلفظ و ترکیب سهل‌تر و خوش‌آوا تر است.

می‌شوند. بدین لحاظ، انسان باید در پی منابع پایدار، مؤثرتر و پاک‌تر انرژی برای کاهش وابستگی به سوخت‌های فسیلی باشد. زیست‌شناسان می‌توانند به بهبود و افزایش تولید سوخت‌های زیستی مانند گازوئیل زیستی که از دانه‌های روغنی به دست می‌آید، کمک کنند.

## فعالیت ۳

اگرچه سوخت‌های فسیلی نیز منشأ زیستی دارند و از تجزیه پیکر جانداران به وجود آمده‌اند؛ اما امروزه سوخت زیستی به سوخت‌هایی می‌گویند که از جانداران امروزی به دست می‌آیند. مزایا و زیان‌های سوخت‌های فسیلی و زیستی را از دید محیط زیستی با هم مقایسه کنید. درباره امکان استفاده از پسماند مزارعی مانند نیشکر در تهیه سوخت‌های زیستی اطلاعاتی جمع‌آوری کنید و در کلاس ارائه دهید.

**سلامت و درمان بیماری‌ها:** به‌تازگی، روشی برای تشخیص و درمان بیماری‌ها در حال گسترش است که پزشکی شخصی نام دارد. پزشکان در پزشکی شخصی برای تشخیص و درمان بیماری‌ها علاوه بر بررسی وضعیت بیمار، با بررسی اطلاعاتی که در دنا (DNA) هر فرد وجود دارد، روش‌های درمانی و دارویی خاص هر فرد را طراحی می‌کنند.

## فعالیت ۴

با مراجعه به منابع معتبر درباره زمینه‌های فعالیت زیست‌شناسان در ایران و جهان اطلاعاتی جمع‌آوری و در کلاس ارائه دهید.

## بیشتر بدانید

### پرهیز از پیش‌داوری

استفاده از تجربه و آزمایش برای بررسی درستی نظریه‌های علمی، تاریخی دیرینه دارد. ابن‌هیثم دانشمند مسلمان قرن چهارم هجری، شواهد تجربی را لازمه استدلال برای پذیرش نظریه‌های علمی می‌دانست و آنها را با انجام آزمایش و ساختن ابزار مورد بررسی قرار می‌داد. همچنین بر این باور بود که محقق در استخراج نتایج از شواهد تجربی و استدلال عقلی، باید با احتیاط عمل کند. او در مطالعه و انجام تحقیقات بر رعایت انصاف، پرهیز از پیش‌داوری و حقیقت‌جویی تأکید داشت. ابن‌هیثم براساس همین باور با انجام مشاهده و آزمایش، توصیفی مبتنی بر واقعیت از سازوکار بینایی ارائه داد.

تعریف حیات بسیار دشوار است و شاید حتی غیرممکن باشد. در علم زیست‌شناسی به جای تعریف حیات، ویژگی‌های آن و یا ویژگی‌های جانداران را بررسی می‌کنیم. گستره حیات زمینی از یاخته شروع می‌شود و با زیست‌کره پایان می‌یابد.

جانداران همه این هفت ویژگی زیر را باهم دارند:

**نظم و ترتیب:** یکی از ویژگی‌های جالب حیات، سطوح سازمان‌یابی آن است (شکل ۳). همه جانداران، سطحی از سازمان‌یابی دارند و منظم‌اند.

**هم‌ایستایی (هومئوستازی):** محیط جانداران همواره در تغییر است؛ اما جاندار می‌تواند وضع درونی پیکر خود را در محدوده ثابتی نگه دارد؛ مثلاً وقتی سدیم خون افزایش می‌یابد، دفع آن از طریق ادرار زیاد می‌شود. مجموعه اعمالی را که برای پایدار نگه داشتن وضعیت درونی جاندار انجام می‌شود **هم‌ایستایی (هومئوستازی)** می‌نامند.

**رشد و نمو:** جانداران رشد و نمو می‌کنند. رشد به معنی بزرگ شدن و شامل افزایش برگشت‌ناپذیر ابعاد یا تعداد یاخته‌هاست. نمو به معنی عبور از مرحله‌ای به مرحله دیگری از زندگی است؛ مثلاً تشکیل گل در گیاه، نمونه‌ای از نمو است.

**فرایند جذب و استفاده از انرژی:** جانداران انرژی می‌گیرند؛ از آن برای انجام فعالیت‌های زیستی خود استفاده می‌کنند و بخشی از آن را به صورت گرما از دست می‌دهند؛ مثلاً گنجشک غذا می‌خورد و از انرژی آن برای گرم کردن بدن و نیز برای پرواز و جست‌وجوی غذا استفاده می‌کند.

**تولیدمثل:** جانداران موجوداتی کم و بیش شبیه خود را به وجود می‌آورند. یوزپلنگ همیشه از یوزپلنگ زاده می‌شود.

**پاسخ به محیط:** همه جانداران به محرک‌های محیطی پاسخ می‌دهند؛ مثلاً ساقه گیاهان به سمت نور خم می‌شود.

**سازش با محیط:** این ویژگی باعث می‌شود جمعیتی از جانداران با محیطی که در آن زندگی می‌کنند، متناسب و در آن ماندگار باشند؛ مثلاً گیاهانی که بومی مناطق خشک هستند، برای حفظ آب، برگ‌هایی با پوستک ضخیم دارند. مثال دیگر موهای سفید خرس قطبی است که به استتار این جانور در محیط برفی کمک می‌کند.



### یادآوری تعریف گونه

همان طور که می‌دانید گونه به گروهی از جانداران می‌گویند که به هم شبیه‌اند و می‌توانند از طریق تولیدمثل زاده‌هایی شبیه خود با قابلیت زنده ماندن و تولید مثل به وجود آورند.

شکل ۳- سطوح سازمان‌یابی حیات

- ۱- یاخته پایین‌ترین سطح سازمان‌یابی حیات است. همه جانداران از یاخته تشکیل شده‌اند.
- ۲- تعدادی یاخته یک بافت را به وجود می‌آورند.
- ۳- هر اندام از چند بافت مختلف تشکیل می‌شود؛ مانند استخوانی که در اینجا نشان داده شده است.
- ۴- هر دستگاه از چند اندام تشکیل شده است؛ مثلاً دستگاه حرکتی از ماهیچه‌ها و استخوان‌ها تشکیل شده است.
- ۵- جاندارانی مانند این گوزن، فردی از جمعیت گوزن‌هاست.
- ۶- افراد یک گونه که در زمان و مکانی خاص زندگی می‌کنند، یک جمعیت را به وجود می‌آورند.
- ۷- جمعیت‌های گوناگونی که با هم تعامل دارند، یک اجتماع را به وجود می‌آورند.
- ۸- عوامل زنده (اجتماع) و غیرزنده محیط و تأثیرهایی که بر هم می‌گذارند، بوم‌سازگان را می‌سازند.
- ۹- زیست‌بوم از چند بوم‌سازگان تشکیل می‌شود که از نظر اقلیم (آب و هوا) و پراکنندگی جانداران مشابه‌اند.
- ۱۰- زیست‌کره شامل همه زیست‌بوم‌های زمین است.

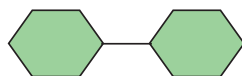
### مولکول‌های زیستی

کربوهیدرات‌ها، لیپیدها، پروتئین‌ها و نوکلئیک‌اسیدها چهار گروه اصلی مولکول‌های تشکیل‌دهنده یاخته‌اند و در جانداران ساخته می‌شوند. این مولکول‌ها را **مولکول‌های زیستی** می‌نامند. در ادامه به بررسی آنها می‌پردازیم.



## کربوهیدرات‌ها

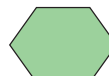
این مولکول‌ها از سه عنصر کربن (C)، هیدروژن (H) و اکسیژن (O) ساخته شده‌اند. **مونوساکاریدها** ساده‌ترین کربوهیدرات‌ها هستند. گلوکز و فروکتوز مونوساکاریدهایی با شش کربن‌اند. ریبوز مونوساکاریدی با پنج کربن است (شکل ۴).



مالتوز



ریبوز



گلوکز

شکل ۴- مونوساکارید واحد ساختاری قندهاست.

شکل ۵- مالتوز نوعی دی‌ساکارید است.


**دی‌ساکاریدها** از ترکیب دو مونوساکارید تشکیل می‌شوند. شکر و قندی که می‌خوریم، دی‌ساکاریدی به نام ساکارز هستند. ساکارز از پیوند بین گلوکز و فروکتوز تشکیل می‌شود. مالتوز دی‌ساکارید دیگری است که از دو گلوکز تشکیل می‌شود. این قند در جوانه گندم و جو وجود دارد (شکل ۵). لاکتوز دی‌ساکارید دیگری است که به قند شیر نیز معروف است.

**پلی‌ساکاریدها** از ترکیب چندین مونوساکارید ساخته می‌شوند. نشاسته، سلولز و گلیکوژن پلی‌ساکاریدند. این پلی‌ساکاریدها از تعداد فراوانی مونوساکارید گلوکز تشکیل شده‌اند؛ مثلاً نشاسته در سیب‌زمینی و غلات وجود دارد. آیا روش تشخیص نشاسته را به یاد می‌آورید؟ سلولز از پلی‌ساکاریدهای مهم در طبیعت است. سلولز ساخته شده در گیاهان در کاغذسازی و تولید انواعی از پارچه‌ها به کار می‌رود.


## بیشتر بدانید




دانه‌های نشاسته در سیب‌زمینی




نشاسته



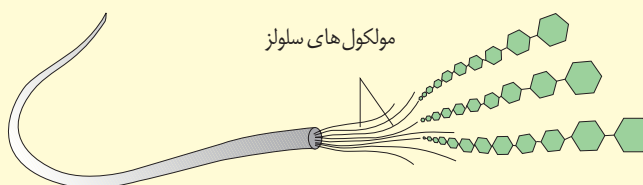
دانه‌های گلیکوژن در بافت ماهیچه‌ای



گلیکوژن



دیواره یاخته‌ای در گیاه



مولکول‌های سلولز

سه پلی‌ساکارید نشاسته، گلیکوژن و سلولز

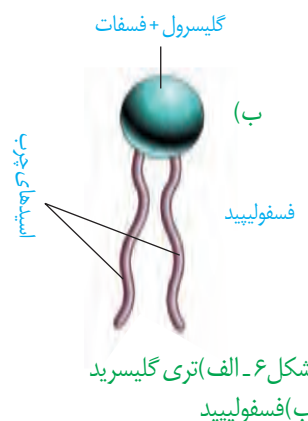
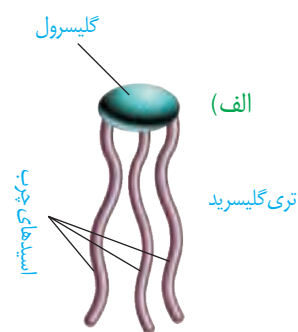
گلیکوژن در جانوران و قارچ‌ها ساخته می‌شود. این پلی ساکارید در کبد و ماهیچه وجود دارد و منبع ذخیره گلوکز در جانوران است.

## لیپیدها

این ترکیبات نیز از سه عنصر کربن، هیدروژن و اکسیژن ساخته شده‌اند؛ گرچه نسبت این عناصر در لیپیدها با نسبت آنها در کربوهیدرات‌ها فرق می‌کند. در ادامه با برخی لیپیدها آشنا می‌شویم. **تری گلیسریدها** از انواع لیپیدها هستند. هر تری گلیسرید از یک مولکول **گلیسرول** و سه **اسید چرب** تشکیل شده است (شکل ۶-الف). روغن‌ها و چربی‌ها انواعی از تری گلیسریدها هستند. تری گلیسریدها در ذخیره انرژی نقش مهمی دارند. انرژی تولید شده از یک گرم تری گلیسرید حدود دو برابر انرژی تولید شده از یک گرم کربوهیدرات است.

**فسفولیپیدها** گروه دیگری از لیپیدها و بخش اصلی تشکیل دهنده غشای یاخته‌ای هستند. ساختار فسفولیپیدها شبیه تری گلیسریدها است، با این تفاوت که مولکول گلیسرول در فسفولیپیدها به دو اسید چرب و یک گروه فسفات متصل می‌شود (شکل ۶-ب).

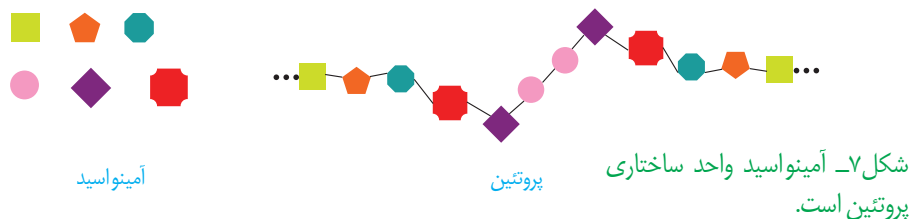
**کلسترول** لیپید دیگری است که در ساخت غشای یاخته‌های جانوری و نیز انواعی از هورمون‌ها شرکت می‌کند.



شکل ۶-الف) تری گلیسرید  
ب) فسفولیپید

## پروتئین‌ها

این مولکول‌ها علاوه بر کربن، هیدروژن و اکسیژن، نیتروژن (N) نیز دارند. پروتئین‌ها از به هم پیوستن واحدهایی به نام آمینواسید، تشکیل می‌شوند (شکل ۷).



پروتئین‌ها کارهای متفاوتی انجام می‌دهند. انقباض ماهیچه، انتقال مواد در خون و کمک به عبور مواد از غشای یاخته و عملکرد آنزیمی از کارهای پروتئین‌هاست. آنزیم‌ها مولکول‌های پروتئینی‌اند که سرعت واکنش‌های شیمیایی را افزایش می‌دهند.

## نوکلئیک اسیدها

این مولکول‌ها علاوه بر کربن، هیدروژن و اکسیژن، نیتروژن و فسفر نیز دارند. مولکول دنا (DNA) که در سال‌های قبل با آن آشنا شده‌اید، یک نوع نوکلئیک اسید است. اطلاعات وراثتی در دنا ذخیره می‌شود (شکل ۸).



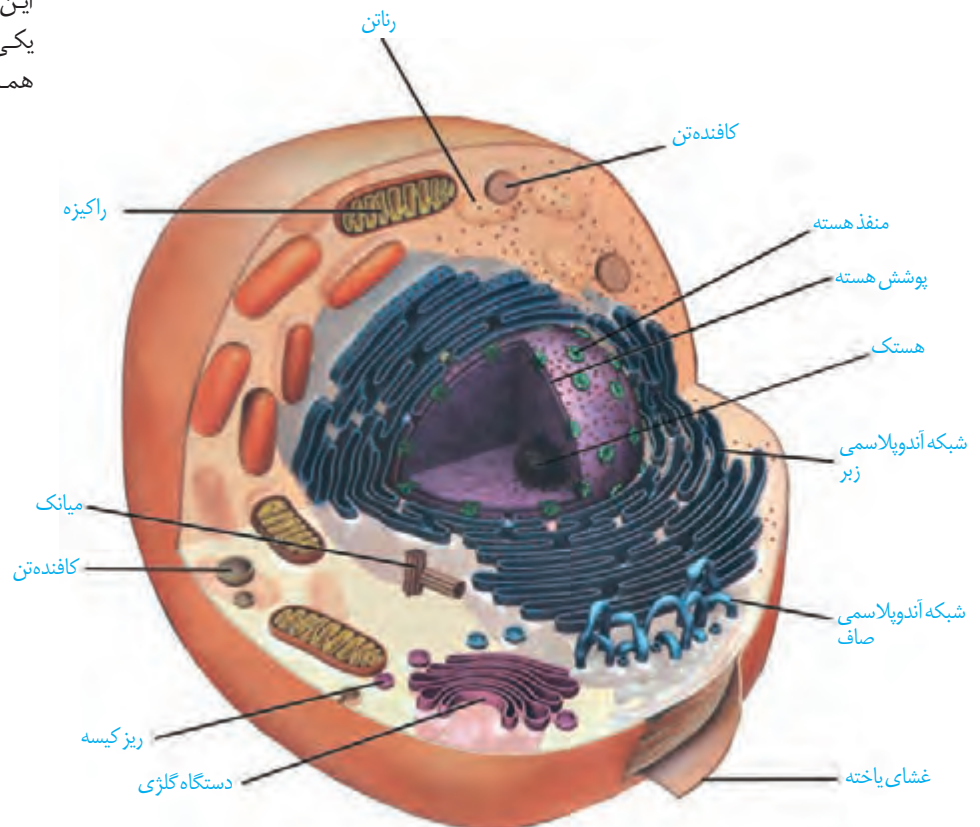
شکل ۸-دنا

## واژه‌شناسی

## یاخته (Cell / سلول)

به واحد ساختاری و کارکردی جانداران سلول گفته می‌شود. کلمه سلول به معنای خانه است. برای این کلمه، یاخته انتخاب شده که یکی از معانی آن در لغت‌نامه دهخدا همان خانه است.

یاخته، واحد ساختار و عملکرد در جانداران است. در شکل ۹ بخش‌های تشکیل دهنده یک یاخته جانوری را می‌بینید. هر یک از بخش‌های یاخته چه کاری انجام می‌دهند؟ می‌توان به سادگی گفت که این یاخته از سه بخش هسته، سیتوپلاسم و غشا تشکیل شده است.



شکل ۹- یاخته جانوری و اندامک‌های آن:

رناتن (ریبوزوم): کار آن ساختن پروتئین است.

شبکه آندوپلاسمی: شبکه‌ای از لوله‌ها و کیسه‌ها که در سراسر سیتوپلاسم گسترش دارند و بر دو نوع زبر (دارای رناتن) و صاف (بدون رناتن) است. شبکه آندوپلاسمی زبر در ساختن پروتئین‌ها و شبکه آندوپلاسمی صاف در ساختن لیپیدها نقش دارد.

دستگاه گلژی: از کیسه‌هایی تشکیل شده است که روی هم قرار می‌گیرند. در بسته‌بندی مواد و ترشح آنها به خارج از یاخته نقش دارد.

راکیزه (میتوکندری): دو غشا دارد و کار آن تأمین انرژی برای یاخته است.

کافنده تن (لیبوزوم): کیسه‌ای است که انواعی از آنزیم‌ها برای تجزیه مواد دارد.

میانک (سانتریول): ساختار استوانه‌ای شکلی است که در سلول به تعداد دو عدد عمود برهم دیده می‌شود و نقش آنها در تقسیم سلولی است.

ریزکیسه (وزیکول): کیسه‌ای است که در جابه‌جایی مواد در یاخته نقش دارد.

## هسته

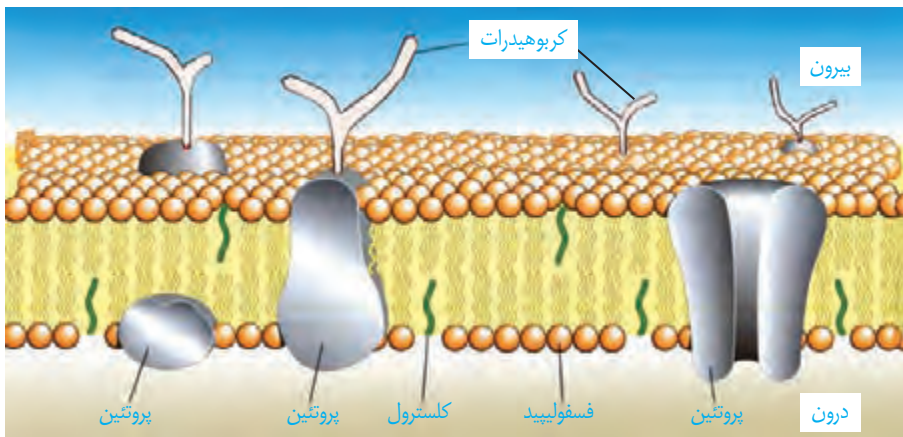
هسته شکل، اندازه و کار یاخته را مشخص و فعالیت های آن را کنترل می کند. در هسته، دنا قرار دارد. دنا دارای اطلاعات لازم برای تعیین صفات است. هسته پوششی دو لایه (غشای داخلی، غشای بیرونی) دارد. در این پوشش منافذی وجود دارند که از طریق آنها ارتباط بین هسته و سیتوپلاسم برقرار می شود. ساختار کروی شکلی در هسته دیده می شود که هستک نام دارد. هستک در ساختن رناتن نقش دارد.

## سیتوپلاسم

سیتوپلاسم فاصله بین غشای یاخته و هسته را پر می کند. سیتوپلاسم از اندامک ها و ماده زمینه تشکیل شده است. ماده زمینه شامل آب و مواد دیگر است. هر یک از اندامک ها در سیتوپلاسم کار ویژه ای دارند (شکل ۹). در سال های بعد با بعضی از این اندامک ها بیشتر آشنا می شوید.

## غشای یاخته ای

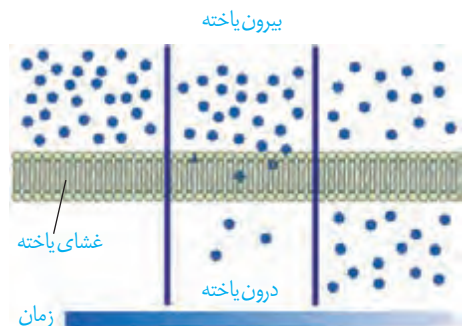
اطراف یاخته را غشای یاخته ای احاطه کرده است. این غشا مرز بین درون یاخته و بیرون آن است. مواد گوناگون برای ورود به یاخته یا خروج از آن باید از این غشا عبور کنند. غشای یاخته، نفوذپذیری انتخابی یا تراوایی نسبی دارد؛ یعنی فقط برخی از مواد می توانند از آن عبور کنند. غشای یاخته از دو لایه مولکول های فسفولیپید تشکیل شده است که در آن مولکول های پروتئین و کلسترول قرار دارند. همچنین انواعی از کربوهیدرات ها به مولکول های فسفولیپیدی و پروتئینی متصل اند (شکل ۱۰). این ترکیبات را به ترتیب گلیکولیپید و گلیکوپروتئین نامیده اند.



شکل ۱۰- غشای یاخته

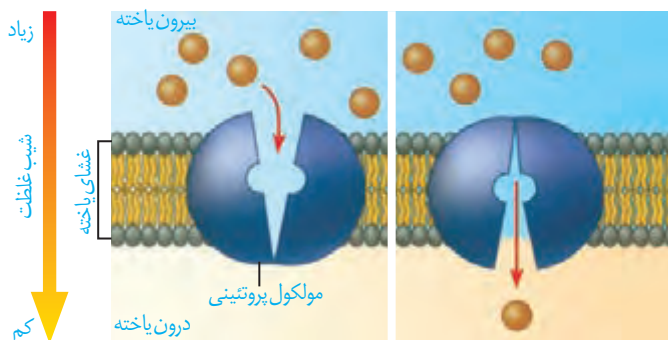
## ورود مواد به یاخته و خروج از آن

**انتشار ساده:** جریان مولکول ها از جای پر غلظت به جای کم غلظت (در جهت شیب غلظت) انتشار نام دارد. نتیجه نهایی انتشار هر ماده، یکسان شدن غلظت آن در محیط است. مولکول ها به دلیل داشتن انرژی جنبشی می توانند منتشر شوند. بنابراین در صورتی که مواد به روش انتشار از غشا عبور کنند، یاخته انرژی مصرف نمی کند. مولکول هایی مانند اکسیژن و کربن دی اکسید با این روش از غشا عبور می کنند (شکل ۱۱).



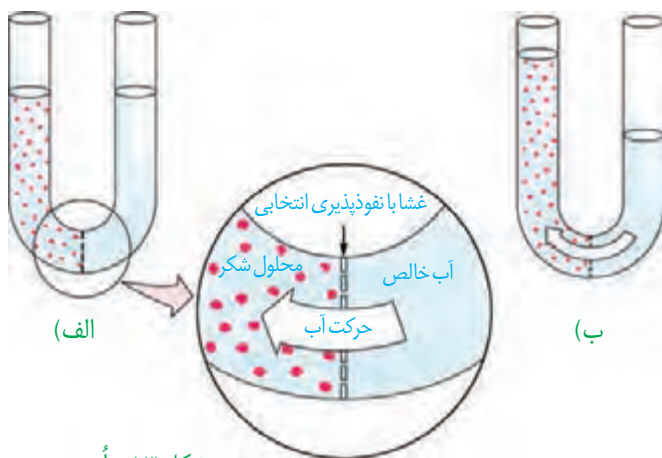
شکل ۱۱- انتشار ساده





شکل ۱۲- انتشار تسهیل شده

**انتشار تسهیل شده:** در این روش پروتئین های غشا، انتشار مواد را تسهیل می کنند و مواد را در جهت شیب غلظت آنها، از غشا عبور می دهند (شکل ۱۲).



شکل ۱۳- اُسمز

**گذردگی (اُسمز):** شکل ۱۳ را ببینید. در یک طرف غشای نازکی که نفوذ پذیری انتخابی یا تراوایی نسبی دارد، آب خالص و در طرف دیگر آن، محلول شکر وجود دارد. حجم مواد در دو طرف غشای یکسان است. فقط مولکول های آب می توانند از غشا عبور کنند؛ در این حالت، تعداد مولکول های آب در واحد حجم، در سمت راست بیشتر است و این مولکول ها بیشتر به سمت چپ منتشر می شوند. به انتشار آب از غشایی با تراوایی نسبی، اُسمز می گویند.

فشار لازم برای توقف کامل اُسمز، فشار اُسمزی محلول نام دارد. هرچه تفاوت تعداد مولکول های آب در واحد حجم، در دو سوی غشا بیشتر باشد، فشار اُسمزی بیشتر است و آب سریع تر جابه جا می شود. جابه جایی خالص آب از محیطی با فشار اُسمزی کمتر به محیطی با فشار اُسمزی بیشتر است.

همان طور که در شکل می بینید در اثر اُسمز، حجم محلول سمت چپ افزایش می یابد. آیا این پدیده برای یاخته ها در بدن ما هم رخ می دهد؟ آیا ممکن است ورود آب به درون یاخته در اثر اُسمز موجب ترکیدن یاخته های بدن ما شود؟ خیر. فشار اُسمزی مایع اطراف یاخته ها تقریباً مشابه درون آنهاست، در نتیجه آب بیش از حد وارد نمی شود و یاخته ها از خطر تورم و ترکیدن حفظ می شوند.

## فعالیت ۵

الف) در این فعالیت با چگونگی اُسمز از پرده ای با تراوایی نسبی آشنا می شوید.

**وسایل و مواد لازم:** ظرف شیشه ای (یا بشر) با دهانه کوچک، مقداری آب مقطر (یا آب جوشیده سرد شده)، نی نوشابه خوری شفاف، تخم مرغ خام، مقداری خمیر بازی، قاشق فلزی

**روش کار:**

۱-  $\frac{3}{4}$  ظرف شیشه ای را آب بریزید.

۲- با لبه قاشق، به انتهای مدور تخم مرغ آهسته ضربه بزنید و با ناخن تکه کوچکی به اندازه نوک انگشت از پوسته آهکی را

جدا کنید. مراقب باشید که پرده نازک زیر پوسته آسیب نبیند.

۳- تخم مرغ را روی ظرف شیشه‌ای طوری قرار دهید که پوسته نازک آن با آب در تماس باشد.  
 ۴- در طرف مقابل تخم مرغ، سوراخی به اندازه قطر نی ایجاد کنید و نی را تا ۲/۵ سانتیمتر درون سوراخ و غشای نازک زیر آن فرو ببرید.

۵- فضای بین نی و پوسته تخم مرغ را با خمیر بازی پر کنید.

۶- ظرف را یک شب در جای مناسبی قرار دهید و پس از آن، تغییرات درون نی را مشاهده کنید.

۷- مشاهده‌های خود را یادداشت کنید، و در صورت امکان از آنها عکس تهیه کنید.

توضیح دهید چرا مایع درون نی حرکت می‌کند؟

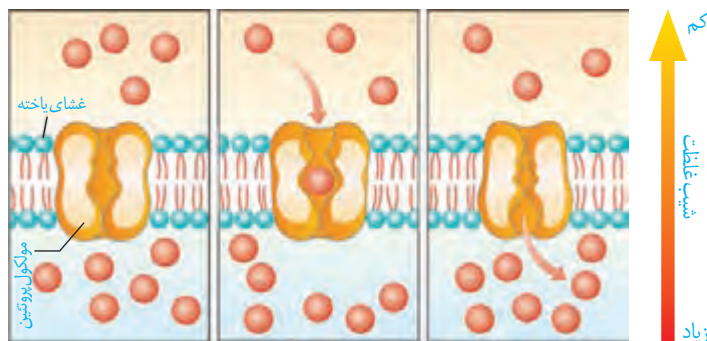
ب) اگر پوسته آهکی یک تخم مرغ را با قرار دادن آن در سرکه از بین ببریم و تخم مرغ بدون پوسته را یک بار در آب مقطر و

بار دیگر در محلول نمک غلیظ قرار دهیم، پیش بینی کنید چه تغییری در تخم مرغ ایجاد می‌شود؟ با توجه به آنچه آموختید برای

پیش بینی خود دلیل بیاورید.

### انتقال فعال: فرایندی که در آن، یاخته، مواد را برخلاف شیب غلظت منتقل

می‌کند، انتقال فعال نام دارد. در این فرایند، مولکول‌های پروتئین با صرف انرژی، ماده‌ای را برخلاف شیب غلظت منتقل می‌کنند (شکل ۱۴). این انرژی می‌تواند از مولکول «ATP» به دست آید. مولکول ATP شکل رایج انرژی در یاخته است.



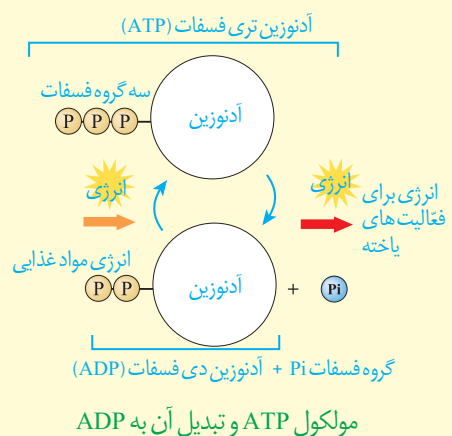
شکل ۱۴- انتقال فعال

### درون بری (آندوسیتوز) و برون رانی (اگزوسیتوز): بعضی یاخته‌ها

می‌توانند ذره‌های بزرگ را با فرایندی به نام درون بری جذب کنند. برون رانی فرایند خروج ذره‌های بزرگ از یاخته است. این فرایندها با تشکیل ریز کیسه‌ها همراه است و به انرژی ATP نیاز دارد (شکل ۱۵).

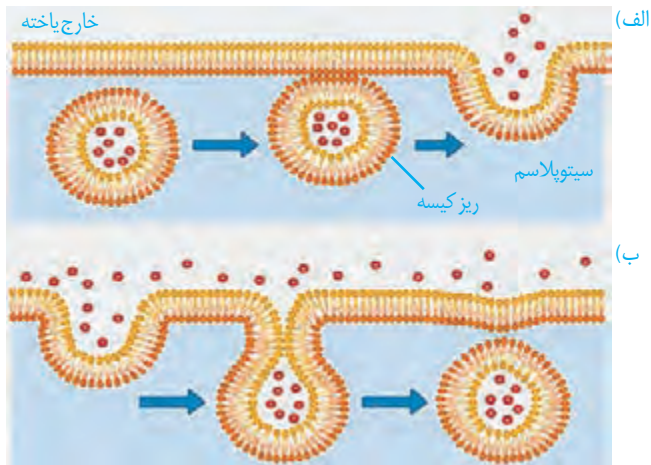
### بیشتر بدانید

در پیوندهای شیمیایی مولکول‌هایی مانند نشاسته، گلیکوژن و لیپید، انرژی وجود دارد. یاخته از این انرژی برای ساخت مولکول ATP (آدنوزین تری فسفات) استفاده می‌کند. همان‌طور که در شکل می‌بینید، مولکول ATP از سه بخش تشکیل شده است. یاخته ATP را به ADP (آدنوزین دی فسفات) تبدیل می‌کند و انرژی ذخیره شده در این مولکول آزاد می‌شود تا یاخته از آن استفاده کند.



## واژه‌شناسی

واژه درون‌بری برای آندوسیتوز (endocytosis) و واژه برون‌رانی برای اگزوسیتوز (exocytosis) انتخاب شده‌اند. در آندوسیتوز، آندو به معنای درون و سیتوز به یاخته اشاره می‌کند. اگزو نیز در اگزوسیتوز به معنای بیرون است.



شکل ۱۵- الف) برون‌رانی، ب) درون‌بری

## بافت‌های بدن انسان

می‌دانید بافت‌های بدن انسان را می‌توان به چهار نوع پوششی، پیوندی، ماهیچه‌ای و عصبی دسته‌بندی کرد. در اندام‌ها و دستگاه‌های بدن انواع بافت‌ها به نسبت‌های متفاوت وجود دارند.

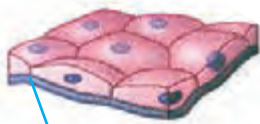
**بافت پوششی:** بافت پوششی، سطح بدن و سطح حفره‌ها و مجاری درون بدن (مانند دهان، معده، روده‌ها و رگ‌ها) را می‌پوشاند. یاخته‌های این بافت، به یکدیگر بسیار نزدیک‌اند و بین آنها فضای بین یاخته‌ای اندکی وجود دارد. در زیر یاخته‌های این بافت، بخشی به نام **غشای پایه** وجود دارد که این یاخته‌ها را به یکدیگر و به بافت‌های زیر آن، متصل نگه می‌دارد. غشای پایه، شبکه‌ای از رشته‌های پروتئینی و گلیکوپروتئینی است. یاخته‌های بافت پوششی به شکل‌های متفاوتی مانند سنگ‌فرشی، مکعبی و استوانه‌ای در یک یا چند لایه سازمان می‌یابند (شکل ۱۶).

**بافت پیوندی:** بافت پیوندی از انواع یاخته‌ها، رشته‌های پروتئینی، مانند رشته‌های کلاژن و رشته‌های کشسان (ارتجاعی) و ماده‌ی زمینه‌ای تشکیل شده است. ماده‌ی زمینه‌ای بافت پیوندی، ممکن است مایع، جامد و یا نیمه جامد باشد. در ادامه به انواع بافت پیوندی می‌پردازیم.

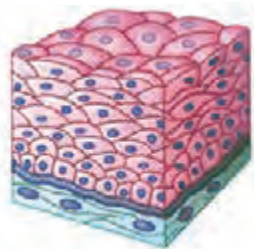
**در بافت پیوندی سست ماده‌ی زمینه‌ای شفاف، بی‌رنگ، چسبنده و مخلوطی از انواع مولکول‌های درشت، مانند گلیکوپروتئین است.** این بافت معمولاً بافت پوششی را پشتیبانی می‌کند. **در بافت پیوندی متراکم میزان رشته‌های کلاژن از بافت پیوندی سست بیشتر، تعداد یاخته‌های آن کمتر و ماده‌ی زمینه‌ای آن نیز اندک است؛ بنابراین مقاومت این بافت از بافت پیوندی سست بیشتر است.** در زردپی و رباط بافت پیوندی متراکم وجود دارد. **بافت چربی** نیز نوعی بافت پیوندی است که در آن یاخته‌های سرشار از چربی فراوان است. این بافت بزرگ‌ترین ذخیره انرژی در بدن است. بافت چربی نقش ضربه‌گیری دارد و به عنوان عایق حرارتی نیز عمل می‌کند. خون، بافت‌های استخوانی و غضروفی، انواع دیگر بافت پیوندی هستند که به تدریج با آنها آشنا می‌شوید.



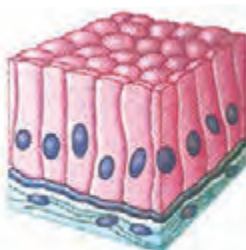
مکعبی یک لایه‌ای گردبزه (فرون)



غشای پایه  
سنگ‌فرشی یک لایه‌ای (دیواره‌ی مویز)



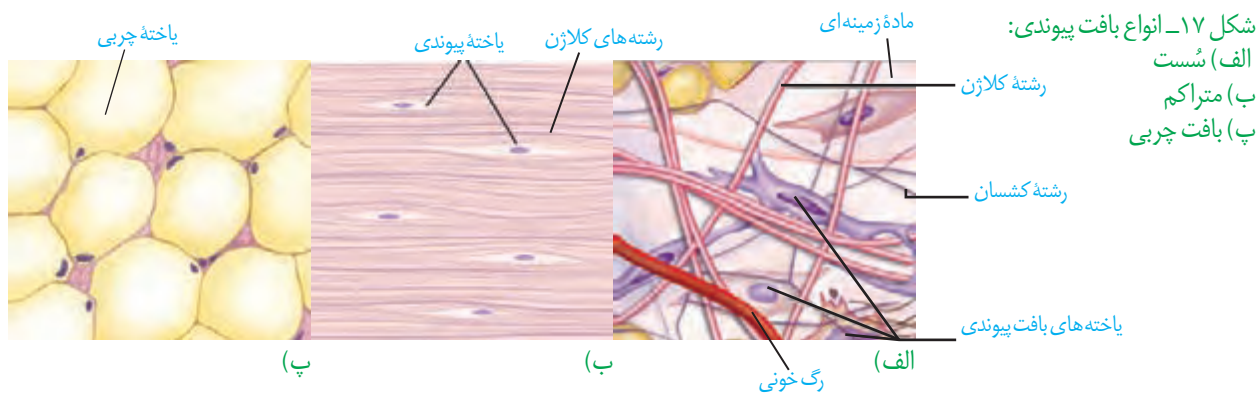
سنگ‌فرشی چند لایه‌ای (مری)



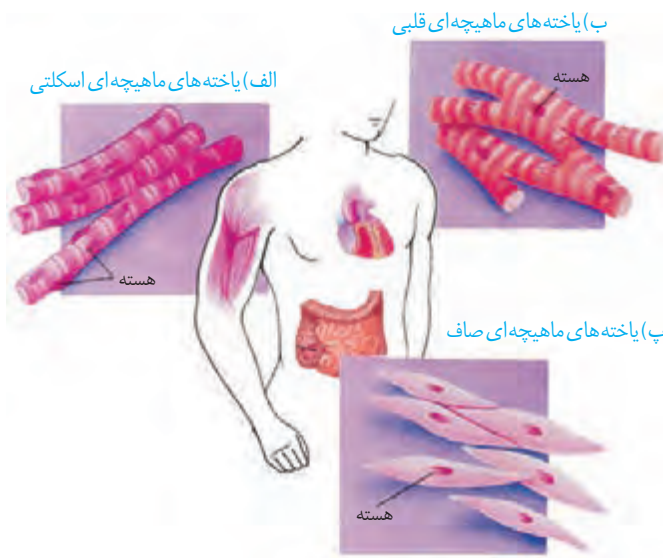
استوانه‌ای یک لایه‌ای (روده)

شکل ۱۶- انواع بافت پوششی

شکل ۱۷- انواع بافت پیوندی:



**بافت ماهیچه‌ای:** در گذشته، با انواع بافت‌های ماهیچه‌ای در بدن انسان آشنا شدید (شکل ۱۸).

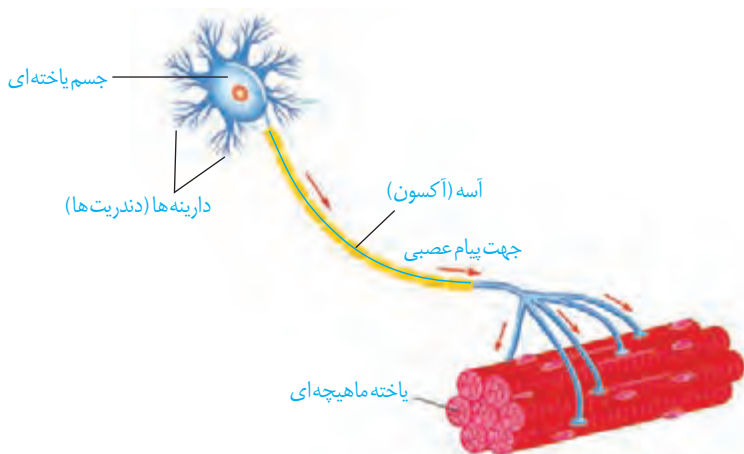


شکل ۱۸- انواع بافت ماهیچه‌ای:  
الف) مخطط (اسکلتی)  
ب) قلبی  
پ) صاف

## فعالیت ۶

ساختار و کار انواع بافت‌های ماهیچه‌ای بدن را در یک جدول فهرست کنید.

**بافت عصبی:** می‌دانید بافت‌های عصبی (نورون‌ها)، بافت‌های اصلی بافت عصبی هستند (شکل ۱۹). این بافت‌ها با بافت‌های بافت‌های دیگر مانند بافت‌های ماهیچه‌ای ارتباط دارند. بافت‌های عصبی بافت‌های ماهیچه‌ای را تحریک می‌کنند تا منقبض شوند.



شکل ۱۹- بافت عصبی





تصویر ریز پرز روده باریک با میکروسکوپ الکترونی

## فصل ۲

# گوارش و جذب مواد

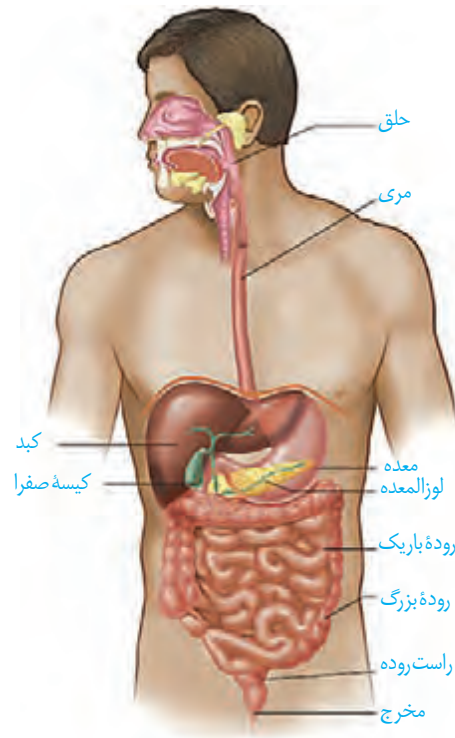
غذا خوردن یکی از لذت‌های زندگی است؛ اما فراتر از آن، غذایی که می‌خوریم، در گذر از دستگاه گوارش به شکلی در می‌آید که می‌تواند مواد و انرژی لازم برای سالم ماندن، درست عمل کردن و رشد و نمو یاخته‌های بدن را فراهم کند. البته غذای نامناسب و یا اضافه بر نیاز، مشکلاتی را برای بدن ایجاد می‌کند. اضافه وزن و چاقی، یکی از مسائلی است که سلامت جمعیت کنونی و آینده ما را به خطر می‌اندازد.

- بدن ما چگونه انواع غذاها را برای ورود به یاخته‌ها آماده می‌کند؟
  - اضافه وزن چگونه به وجود می‌آید و چه مشکلاتی را برای بدن ایجاد می‌کند؟
  - چرا برخی افراد با اینکه غذای کافی و گوناگون می‌خورند، دچار کمبود مواد مغذی هستند؟
  - گوارش در سایر جانداران چه شباهت‌ها و تفاوت‌هایی با گوارش انسان دارد؟
- برای پاسخ به این پرسش‌ها، با دستگاه گوارش آشنا می‌شویم و عملکرد آن را در انسان و برخی جانوران بررسی می‌کنیم.

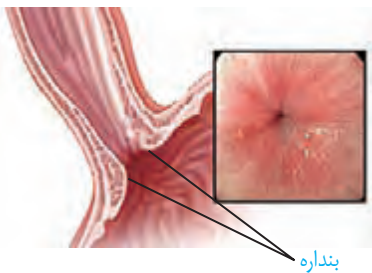


در گذشته آموختید دستگاه گوارش از لوله گوارش و اندام‌های دیگر مرتبط با آن تشکیل شده است. لوله گوارش چه قسمت‌هایی دارد (شکل ۱)؟

لوله گوارش، لوله پیوسته‌ای است که از دهان تا مخرج ادامه دارد. در قسمت‌هایی از لوله گوارش ماهیچه‌های حلقوی به نام **بنداره** (اسفنکتر) وجود دارد. بنداره‌ها در تنظیم عبور مواد نقش دارند (شکل ۲).



شکل ۱- لوله گوارش و اندام‌های مرتبط با آن

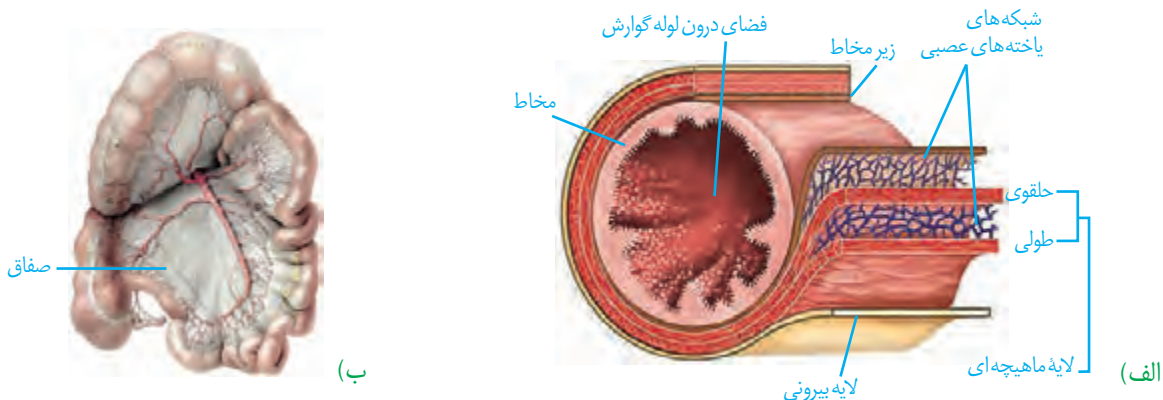


شکل ۲- بنداره انتهایی مری

غده‌های بزاقی؛ پانکراس (لوزالمعده)، کبد (جگر) و کیسه صفرا با لوله گوارش مرتبط‌اند و در گوارش غذا نقش دارند.

**ساختار لوله گوارش:** دیواره بخش‌های مختلف لوله گوارش، ساختار تقریباً مشابهی دارند. این لوله از خارج به داخل، چهار لایه دارد: لایه بیرونی، ماهیچه‌ای، زیرمخاطی و مخاطی. هر لایه، از انواع بافت‌ها تشکیل شده است (شکل ۳- الف). در همه این لایه‌ها بافت پیوندی سست وجود دارد. **لایه بیرونی** در ناحیه شکمی بخشی از صفاق است. صفاق پرده‌ای است که اندام‌های درون شکم را به هم وصل می‌کند (شکل ۳- ب).

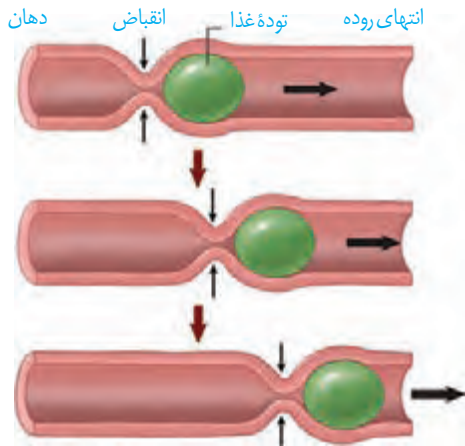
شکل ۳- الف) ساختار لایه‌های لوله گوارش (ب) بخشی از صفاق مربوط به روده‌ها



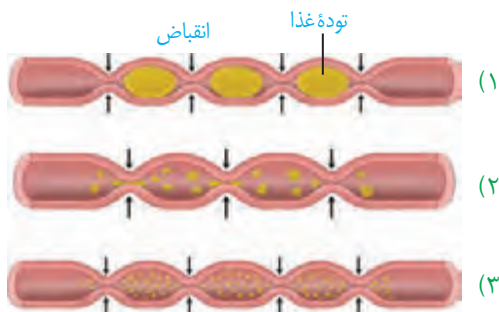
## واژه‌شناسی

### بنداره (Sphincter / اسفنکتر)

اسفنکتر به معنای ماهیچه حلقوی شکل گرداگرد یک دهانه است که با انقباض خود سبب بسته یا تنگ شدن آن می‌شود. برای آن در فارسی کلمه بنداره (صفت بندار + پسوند ه) انتخاب شده است. بنداره به معنای بند آورنده است.



شکل ۴- حرکات کرمی



شکل ۵- حرکت‌های قطعه‌قطعه کننده

## واژه‌شناسی

آمیلاز از ترکیب واژه آمیلوم (به معنای نشاسته) و آز (پسوند نشان دهنده آنزیم) تشکیل شده است. لیپاز و پروتئاز هم به ترتیب آنزیم‌های تجزیه کننده لیپید و پروتئین هستند.

لایه ماهیچه‌ای در دهان، حلق، ابتدای مری و بنداره خارجی مخرج از نوع مخطط است. این لایه در بخش‌های دیگر لوله گوارش شامل یاخته‌های ماهیچه‌ای صاف است که به شکل حلقوی و طولی سازمان یافته‌اند. دیواره معده یک لایه ماهیچه‌ای موّب نیز دارد.

**زیر مخاط (لایه زیر مخاطی)** موجب می‌شود مخاط، روی لایه ماهیچه‌ای بچسبد و به راحتی روی آن بلغزد یا چین بخورد. در لایه ماهیچه‌ای و زیر مخاط، شبکه‌ای از یاخته‌های عصبی وجود دارد.

**مخاط (لایه مخاطی)** یاخته‌هایی از بافت پوششی دارد که در بخش‌های مختلف لوله گوارش، کارهای متفاوتی مثل جذب و ترشح را انجام می‌دهند.

**حرکات لوله گوارش:** انقباض ماهیچه‌های دیواره لوله گوارش، حرکات منظمی را در آن به وجود می‌آورد. لوله گوارش، دو حرکت کرمی و قطعه‌قطعه کننده دارد.

در حرکات کرمی، ورود غذا لوله گوارش را گشاد و یاخته‌های عصبی دیواره لوله را تحریک می‌کند. یاخته‌های عصبی، ماهیچه‌های دیواره را به انقباض وادار می‌کنند. در نتیجه، یک حلقه انقباضی در لوله ظاهر می‌شود که غذا را به حرکت درمی‌آورد (شکل ۴).

حرکات کرمی نقش مخلوط‌کنندگی نیز دارند؛ به ویژه وقتی که حرکت محتویات لوله با برخورد به یک بنداره، متوقف شود؛ مثل وقتی که محتویات معده به پیلور برخورد می‌کنند. پیلور بنداره بین معده و روده باریک است. در این حالت، حرکات کرمی فقط می‌توانند محتویات لوله را مخلوط کنند.

- در حرکات قطعه‌قطعه کننده بخش‌هایی از لوله به صورت یک در میان منقبض می‌شوند. سپس این بخش‌ها از حالت انقباض خارج و بخش‌های دیگر منقبض می‌شوند. تداوم این حرکات در لوله گوارش موجب می‌شود محتویات لوله، ریزتر و بیشتر با شیرهای گوارشی مخلوط شوند (شکل ۵).

## فعالیت ۱

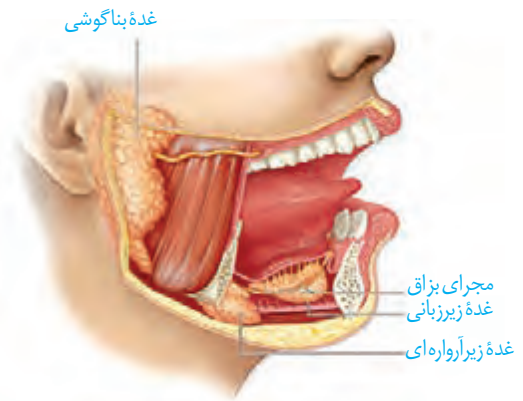
مری یک گوسفند یا گاو را تهیه و لایه‌های آن را مشاهده کنید.

## گوارش غذا

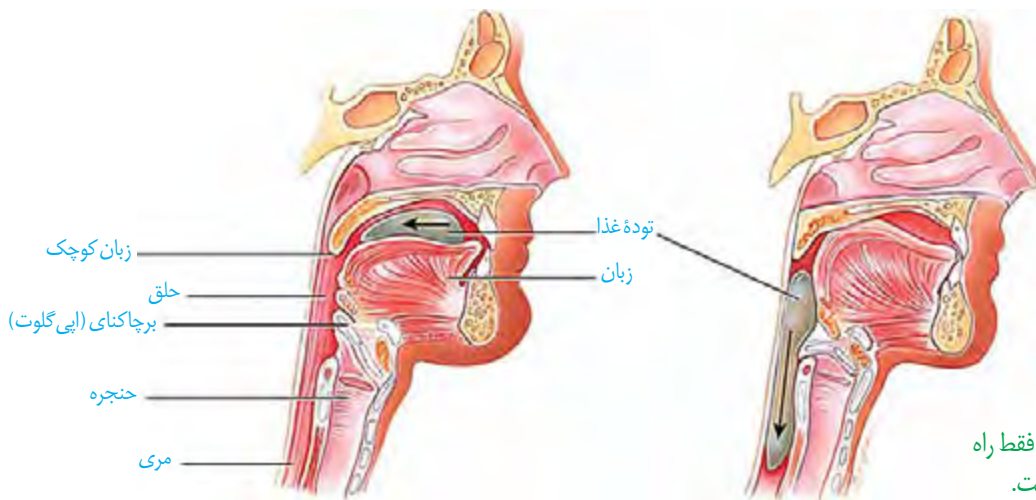
دستگاه گوارش طی فرایند گوارش مکانیکی، غذا را آسیاب می‌کند و با فرایند گوارش شیمیایی، مولکول‌های بزرگ را به مولکول‌های کوچک تبدیل می‌کند. این فرایندها چگونه انجام می‌شوند؟ چه عواملی در آنها نقش دارند؟



**گوارش در دهان:** با ورود غذا به دهان، جویدن غذا و گوارش مکانیکی آن آغاز می‌شود. آسیاب شدن غذا به ذره‌های بسیار کوچک برای فعالیت بهتر آنزیم‌های گوارشی، و اثر بزاق بر آن لازم است. سه جفت غده بزاقی بزرگ و غده‌های بزاقی کوچک، بزاق ترشح می‌کنند (شکل ۶). بزاق، ترکیبی از آب، یون‌ها، انواعی از آنزیم‌ها و موسین است. آنزیم آمیلاز بزاق به گوارش نشاسته کمک می‌کند. لیپوزیم، آنزیمی است که در از بین بردن باکتری‌های درون دهان نقش دارد. موسین، گلیکوپروتئینی است که آب فراوانی جذب و ماده مخاطی ایجاد می‌کند. ماده مخاطی دیواره لوله گوارش را از خراشیدگی حاصل از تماس غذا یا آسیب شیمیایی (بر اثر اسید یا آنزیم) حفظ می‌کند و ذره‌های غذایی را به هم می‌چسباند و آنها را به توده لغزنده‌ای تبدیل می‌کند.



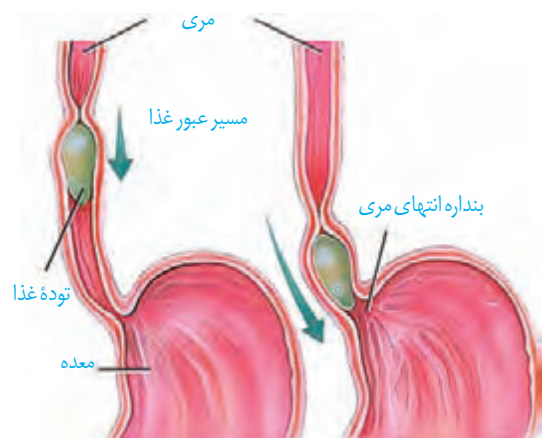
شکل ۶- غده‌های بناگوشی، زیرآرواره‌ای و زیربانی، بزاق ترشح می‌کنند.



شکل ۷- الف) هنگام بلع فقط راه مری برای عبور غذا باز است.

**بلع غذا:** هنگام بلع با فشار زبان، توده غذا به عقب دهان و داخل حلق رانده می‌شود. با رسیدن غذا به حلق، بلع به شکل غیرارادی، ادامه پیدا می‌کند. همان طور که می‌دانید حلق را به چهارراه تشبیه می‌کنند. با استفاده از شکل ۷- الف، توضیح دهید هنگام بلع چگونه راه‌های دیگر حلق بسته می‌شوند؟

در ادامه دیواره ماهیچه‌ای حلق منقبض می‌شود و حرکت کرمی آن، غذا را به مری می‌راند. حرکت کرمی در مری ادامه پیدا می‌کند و با شل شدن بنداره انتهایی مری، غذا وارد معده می‌شود (شکل ۷- ب). غده‌های مخاط مری، ماده مخاطی ترشح می‌کنند تا حرکت غذا آسان تر شود.

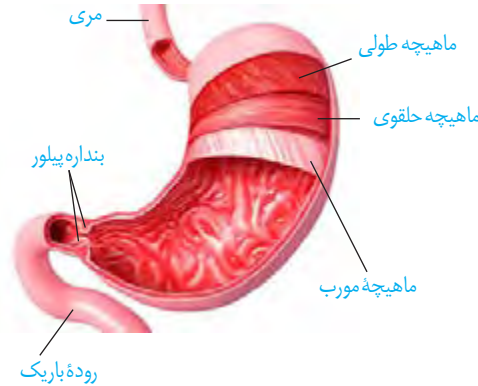


شکل ۷- ب) حرکات کرمی، غذا را در طول مری حرکت می‌دهند.

**گوارش در معده:** معده، بخش کیسه‌ای شکل لوله گوارش است. دیواره معده، چین خوردگی‌هایی دارد که با پرشدن معده باز می‌شوند تا غذای بلع شده در آن انبار شود. گوارش غذا در معده در اثر شیرۀ



معدۀ و حرکات آن انجام می‌شود. در پایان گوارش در معدۀ مخلوط حاصل از گوارش که **کیموس** نام دارد، با باز شدن بندارۀ پیلور وارد ابتدای رودۀ باریک می‌شود (شکل ۸). به ابتدای رودۀ باریک **دوازدهه** می‌گویند.



**شیرۀ معدۀ:** یاخته‌های پوششی مخاط معدۀ در بافت پیوندی زیرین فرو رفته‌اند و حفره‌های معدۀ را به وجود می‌آورند. مجاری غده‌های معدۀ، به این حفره‌ها راه دارند. یاخته‌های پوششی سطحی مخاط معدۀ و برخی از یاخته‌های غده‌های آن، ماده مخاطی فراوان ترشح می‌کنند که به شکل

شکل ۸- حرکات معدۀ در اثر انقباض ماهیچه‌های آن ایجاد می‌شوند. یاخته‌های لایۀ ماهیچه‌ای دیوارۀ معدۀ در سه جهت طولی، حلقوی و مورب قرار گرفته‌اند.

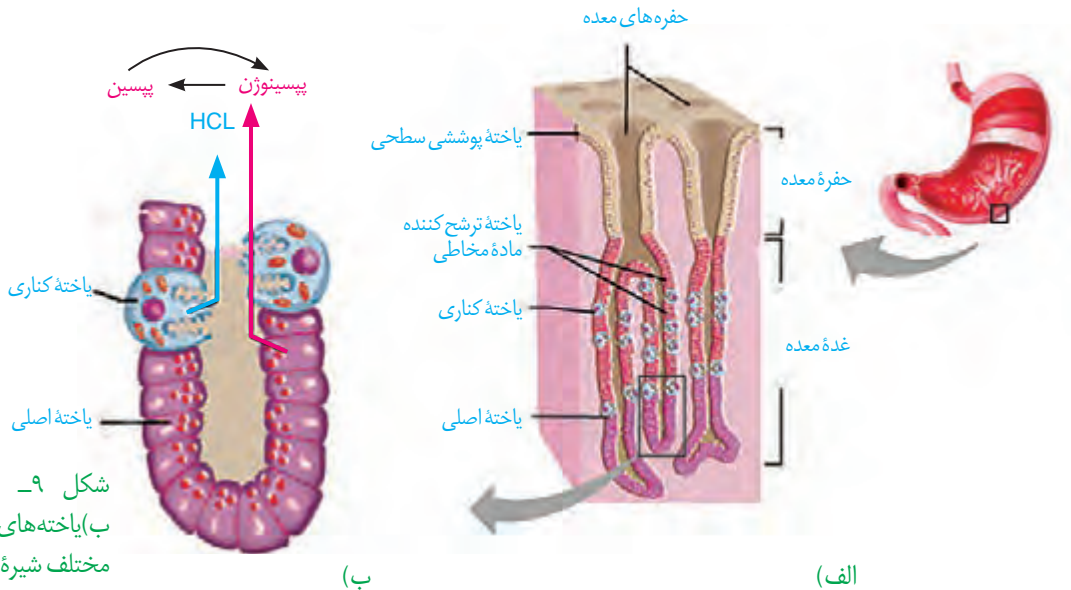
### بیشتر بدانید

#### فرصت شناسی یک پژوهشگر

دکتر بومون در قرن ۱۹ میلادی، جوانی را درمان کرد که پهلویش با گلوله سوراخ شده بود. طی التیام زخم، سوراخ کوچکی در بدن جوان باقی ماند که داخل معدۀ را نشان می‌داد. بومون از این سوراخ، چین‌های سطح معدۀ و ماده‌ی مخاطی روی سطح آن را مشاهده و با لوله‌ای لاستیکی مقداری از اسید معدۀ را خارج کرد. او با آزمایش غذاهای گوناگون، نتیجه گرفت معدۀ با ترشح اسید، به غذای بلع شده پاسخ می‌دهد. بومون نتایج آزمایش‌های خود را در کتابی منتشر کرد.

لایۀ ژله‌ای چسبناکی، مخاط معدۀ را می‌پوشاند. یاخته‌های پوششی سطحی، بیکربنات ( $\text{HCO}_3^-$ ) نیز ترشح می‌کنند که لایۀ ژله‌ای حفاظتی را قلیایی می‌کند (شکل ۹). به این ترتیب سد حفاظتی محکمی در مقابل اسید و آنزیم به وجود می‌آید.

یاخته‌های اصلی غده‌ها، آنزیم‌های معدۀ را ترشح می‌کنند. پیش ساز پروتئازهای معدۀ را به طور کلی **پپسینوژن** می‌نامند. پپسینوژن بر اثر کلریدریک اسید به **پپسین** تبدیل می‌شود. پپسین خود با اثر بر پپسینوژن، تولید پپسین را بیشتر می‌کند (شکل ۹). آنزیم پپسین، پروتئین‌ها را به مولکول‌های کوچک‌تر تجزیه می‌کند. یاخته‌های کناری غده‌های معدۀ، کلریدریک اسید و عامل (فاکتور) داخلی معدۀ ترشح می‌کنند. **عامل داخلی معدۀ**، برای ورود ویتامین  $\text{B}_{12}$  به یاخته‌های رودۀ باریک ضروری است. اگر این یاخته‌ها تخریب شوند یا معدۀ برداشته شود، علاوه بر ساخته نشدن کلریدریک اسید، فرد به کم‌خونی خطرناکی دچار می‌شود؛ زیرا ویتامین  $\text{B}_{12}$  که برای ساختن گویچه‌های قرمز در مغز استخوان لازم است، جذب نمی‌شود و زندگی فرد به خطر می‌افتد.



شکل ۹- الف) غده‌های معدۀ ب) یاخته‌های غده‌های معدۀ، مواد مختلف شیرۀ معدۀ را ترشح می‌کنند.

## بیشتر بدانید

### زخم پپتیک

ترشح بیش از حد اسید و آنزیم در شیره گوارشی و کاهش توانایی سد حفاظتی ماده مخاطی در مخاط معده یا دوازدهه، زخم پپتیک ایجاد می‌کند. بسیاری از افراد مبتلا به زخم پپتیک، عفونت مزمن ناشی از نوعی باکتری به نام هلیکوباکتر پیلوری دارند. این باکتری می‌تواند سد حفاظتی ماده مخاطی را تخریب کند. از علامت‌های این بیماری، احساس درد در بخش بالایی معده است که ممکن است تا چند ساعت پس از خوردن غذا ادامه پیدا کند. تنش مداوم، سیگار کشیدن، الکل و برخی داروها مانند آسپرین نیز ماده مخاطی را تخریب می‌کنند.

با ورود غذا، معده اندکی انبساط می‌یابد و انقباض‌های معده، آغاز می‌شوند. این انقباض‌ها غذا را با شیره معده می‌آمیزند که نتیجه آن تشکیل کیموس معده است. همان‌طور که گفتیم با باز شدن بنداره پیلور، کیموس وارد دوازدهه می‌شود.

**برگشت اسید معده (ریفلاکس):** اگر انقباض بنداره انتهایی مری کافی نباشد، فرد دچار برگشت اسید می‌شود. در این حالت مخاط مری به تدریج، آسیب می‌بیند؛ زیرا حفاظت دیواره آن به اندازه معده و روده باریک نیست. سیگار کشیدن، الکل، رژیم غذایی نامناسب و استفاده بیش از اندازه از غذاهای آماده، تنش و اضطراب، از عوامل برگشت اسید معده‌اند.

## فعالیت ۲

آزمایشی طراحی کنید که نشان دهد آنزیم پپسین در حضور کلریدریک اسید، پروتئین سفیده تخم مرغ را گوارش می‌دهد. توجه کنید که آنزیم‌ها در دمای ویژه‌ای فعالیت می‌کنند.

**گوارش در روده باریک:** کیموس به تدریج وارد روده باریک می‌شود تا مراحل پایانی گوارش به ویژه در دوازدهه انجام شود. صفرا، شیره‌های روده و لوزالمعده که به دوازدهه می‌ریزند به کمک حرکات روده، در گوارش نهایی کیموس نقش دارند (شکل ۱۰).

**حرکت‌های روده باریک:** حرکت‌های روده باریک، علاوه بر گوارش مکانیکی و پیش بردن کیموس در طول روده، کیموس را در سراسر مخاط روده می‌گستراند تا تماس آن با شیره‌های گوارشی و نیز یاخته‌های پوششی مخاط، افزایش یابد.

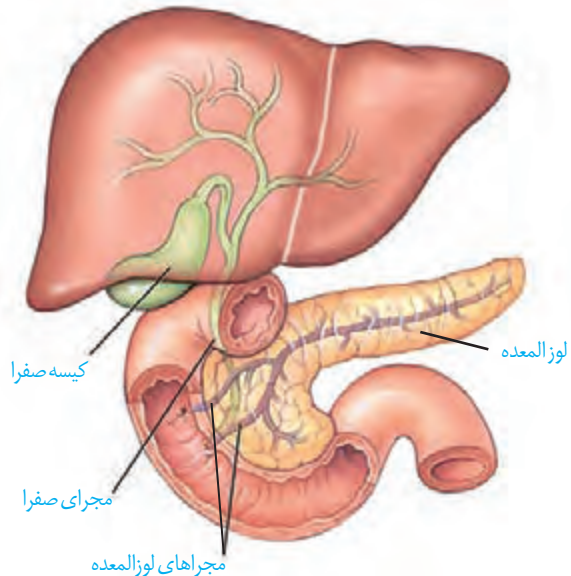
**شیره روده:** روده باریک این شیره را ترشح می‌کند. شیره روده شامل مومین، آب، یون‌های مختلف از جمله بیکرینات و آنزیم است.

**صفرا:** کبد، صفرا را می‌سازد. صفرا آنزیم ندارد و ترکیبی از نمک‌های صفراوی، بیکرینات، کلسترول و فسفولیپید است. صفرا به دوازدهه می‌ریزد و به گوارش چربی‌ها کمک می‌کند. همچنین بیکرینات صفرا به خنثی کردن حالت اسیدی کیموس معده کمک می‌کند.



گاهی ترکیبات صفرا در کیسه صفرا رسوب می‌کنند و سنگ ایجاد می‌شود. رژیم غذایی پرچرب در ایجاد سنگ کیسه صفرا نقش دارد (شکل ۱۱).

شکل ۱۱- سنگ کیسه صفرا



شکل ۱۰- صفرا از راه مجاری صفراوی کبد به یک مجرای مشترک وارد و در کیسه صفرا ذخیره می‌شود.

## بیشتر بدانید

### آنزیم‌های شیره لوزالمعده و کار آنها

نام آنزیم	مولکول مورد اثر	نتیجه کار آنزیم
تریپسین	پروتئین	تشکیل پپتید
کربوکسی پپتیداز	پروتئین و پپتید	جدا کردن آمینواسید از انتهای زنجیره
لیپاز	لیپید (چربی)	ایجاد گلیسرول و اسید چرب
فسفولیپاز	فسفولیپید	جدا کردن اسید چرب از فسفولیپید
آمیلاز	نشاسته، گلیکوژن	دی ساکارید، تری ساکارید
نوکلئاز (آنزیم تجزیه کننده نوکلئیک اسیدها)	نوکلئیک اسیدها مانند DNA	تبدیل به واحدهای سازنده

**شیره لوزالمعده:** آنزیم‌ها و بیکر بنات لوزالمعده به دوازده می‌ریزند. لوزالمعده، آنزیم‌های لازم برای گوارش شیمیایی انواع مواد را تولید می‌کند. پروتئازهای لوزالمعده درون روده باریک فعال می‌شوند. بیکر بنات اثر اسید معده را خنثی می‌کند. به این ترتیب دیواره دوازدهه از اثر اسید حفظ و محیط مناسب برای فعالیت آنزیم‌های لوزالمعده فراهم می‌شود.

## فعالیت ۳

پروتئازهای لوزالمعده قوی و متنوع اند و

می‌توانند خود لوزالمعده را نیز تجزیه کنند.

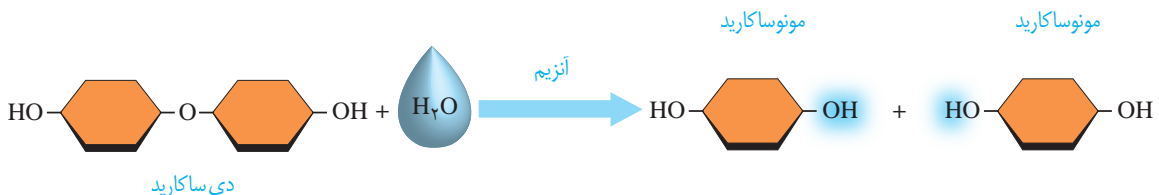
فکر می‌کنید بدن چگونه از این مسئله جلوگیری می‌کند؟

**گوارش کربوهیدرات‌ها:** رژیم غذایی ما شامل انواع گوناگون کربوهیدرات‌هاست. مونوساکاریدها بدون گوارش جذب می‌شوند. دی‌ساکاریدها و پلی‌ساکاریدها برای جذب شدن باید گوارش یابند و به مونوساکارید تبدیل شوند.

آنزیم‌های گوارشی با واکنش آب کافت (هیدرولیز)، مولکول‌های درشت را به مولکول‌های کوچک تبدیل می‌کنند. در آب کافت همراه با مصرف آب، پیوند بین مولکول‌ها شکسته می‌شود. شکل ۱۲ واکنش آب کافت را در تبدیل دی‌ساکارید به مونوساکارید نشان می‌دهد. دستگاه گوارش ما آنزیم مورد نیاز برای گوارش همه کربوهیدرات‌ها را نمی‌سازد، مثلاً آنزیم مورد نیاز برای تجزیه سلولز را نمی‌سازد.

**گوارش پروتئین‌ها:** پپسین گوارش پروتئین‌ها را در معده آغاز می‌کند. در روده باریک در نتیجه فعالیت پروتئازهای لوزالمعده و آنزیم‌های روده باریک، پروتئین‌ها به آمینواسیدها، تجزیه می‌شوند. **گوارش تری‌گلیسریدها:** فراوان‌ترین لیپیدهای رژیم غذایی، تری‌گلیسریدها هستند. آنزیم لیپاز، تری‌گلیسریدها را به واحدهای سازنده آن تجزیه می‌کند. صرفاً حرکات مخلوط‌کننده روده باریک موجب ریز شدن چربی‌ها می‌شوند. گوارش چربی‌ها، بیشتر در اثر فعالیت لیپاز لوزالمعده در دوازدهه انجام می‌شود.

شکل ۱۲- آب کافت یک دی‌ساکارید





مشاهده درون لوله گوارش

### مشاهده درون دستگاه گوارش

با استفاده از درون بینی (آندوسکوپی؛ آندو به معنای درون و اسکوپ به معنی دیدن) می‌توان درون مری، معده و دوازدهه را مشاهده کرد. درون بین (آندوسکوپ / Endoscope) لوله‌ای باریک و انعطاف‌پذیر با دوربینی بر یک سر آن است. درون بینی برای تشخیص زخم‌ها، سرطان و عفونت به کار می‌رود. درون بین در نمونه‌برداری نیز استفاده می‌شود. کولون بینی (کولونوسکوپی) روشی برای بررسی کولون یا روده بزرگ است که به کمک آن روده بزرگ را تا محل اتصال به روده باریک بررسی می‌کنند تا اختلال‌های احتمالی آن را مشاهده کنند.

### فعالیت ۴

#### اثر آمیلاز بزاق بر نشاسته

**مواد و وسایل لازم:** یک گرم نشاسته، محلول لوگول، آب، ۳ لوله آزمایش، جا لوله‌ای، سه ظرف شیشه‌ای با حجم ۱۵۰، ۱۰۰

و ۵۰ میلی لیتر، دماسنج، شعله گاز آزمایشگاه، توری و سه پایه

#### روش کار

- ۱- یکی از افراد گروه، دهان خود را دو یا سه مرتبه با آب بشوید و سپس بزاق خود را درون ظرف شیشه‌ای تمیزی بریزد.
  - ۲- در یک ظرف شیشه‌ای ۱۵۰ میلی لیتری، یک گرم نشاسته بریزید و به آن ۱۰۰ میلی لیتر آب اضافه کنید.
  - ۳- سه لوله آزمایش تمیز بردارید و آنها را شماره‌گذاری کنید.
  - ۴- در لوله آزمایش شماره ۱، دو میلی لیتر از محلول نشاسته و در لوله آزمایش شماره ۲، یک میلی لیتر بزاق بریزید؛ سپس به محتویات هر لوله، یک قطره لوگول بیفزایید.
  - ۵- در لوله آزمایش شماره ۳، دو میلی لیتر محلول نشاسته و دو میلی لیتر بزاق و یک قطره لوگول بریزید.
  - ۶- هر سه لوله آزمایش را با استفاده از حمام آب گرم، در دمای ۳۷ درجه قرار دهید.
- تغییرات را مشاهده و یادداشت کنید.
- علت تغییراتی را که مشاهده کردید، توضیح دهید.

باکتری‌های همزیست روده بزرگ و انتهای روده باریک، آنزیم آب کافت‌کننده سلولز دارند و گلوکز تولید می‌کنند، اما بافت پوششی روده بزرگ نمی‌تواند این گلوکز را جذب کند. این باکتری‌ها، انواعی از ویتامین‌های گروه B و ویتامین «K» می‌سازند که روده بزرگ می‌تواند آنها را جذب کند. بخشی از گازهای روده از فعالیت این باکتری‌ها به وجود می‌آیند. علاوه بر آن، این باکتری‌ها با ترشح مواد سمی، باکتری‌های بیماری‌زا را می‌کشند و از یاخته‌های پوششی روده بزرگ حفاظت می‌کنند. مصرف آنتی‌بیوتیک ممکن است، این باکتری‌های مفید را از بین ببرد. امروزه مواد غذایی مانند ماست، با باکتری‌های مفید غنی‌سازی شده‌اند تا تعداد این باکتری‌ها را در لوله گوارش افزایش دهند. این محصولات را **زیست‌یار** (پروبیوتیک) می‌نامند.



مواد مغذی برای رسیدن به یاخته‌های بدن باید از یاخته‌های بافت پوششی لوله گوارش عبور کنند و وارد محیط داخلی شوند. ورود مواد به محیط داخلی بدن، جذب نام دارد. خون، لنف و مایع بین یاخته‌ای محیط داخلی را تشکیل می‌دهند. در دهان و معده، جذب اندک است و جذب اصلی در روده باریک انجام می‌شود.

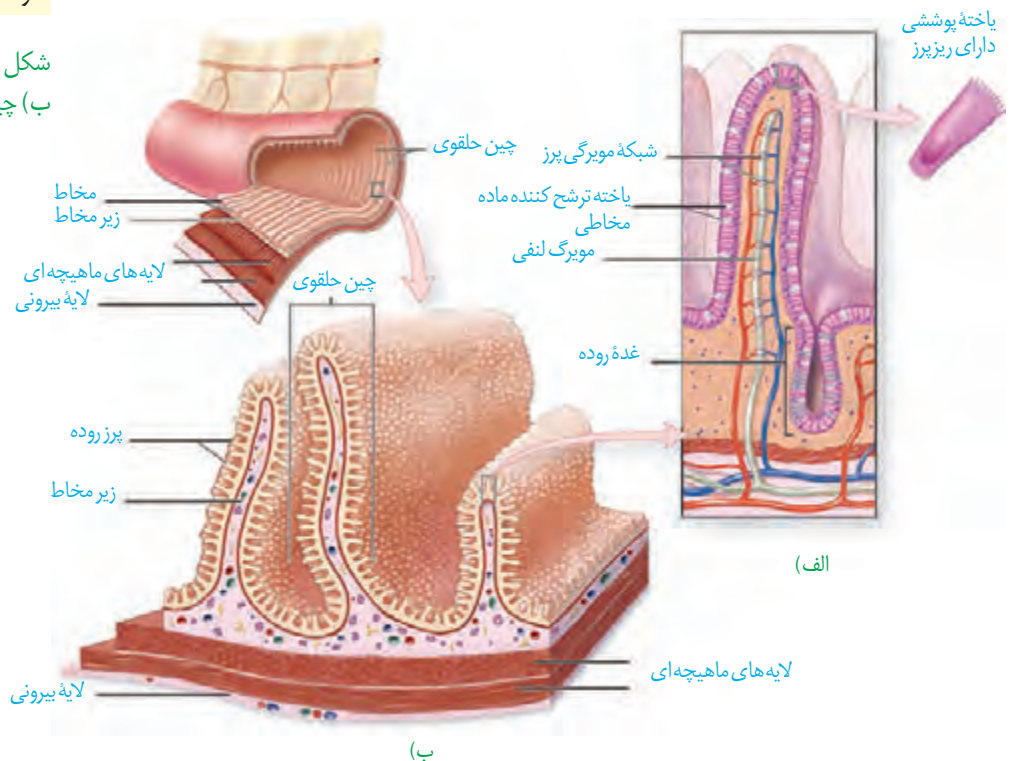
### جذب مواد در روده باریک

پس از گوارش در فضای روده باریک، مولکول‌های گوناگونی وجود دارند که باید از غشای یاخته‌های پوششی دیواره روده بگذرند و به این یاخته‌ها و پس از آن به محیط داخلی وارد شوند. در دیواره داخلی روده، چین‌های حلقوی وجود دارند؛ روی این چین‌ها، پرزهای فراوانی دیده می‌شوند. غشای یاخته‌های پوششی روده باریک نیز در سمت فضای روده، چین خورده است. به این چین‌های میکروسکوپی، ریزپرز می‌گویند. مجموعه چین‌ها، پرزها و ریزپرزها سطح داخلی روده باریک را که در تماس با کیموس است چندین برابر افزایش می‌دهند. در بیماری سلیاک بر اثر پروتئین گلوتن (که در گندم و جو وجود دارد) یاخته‌های روده تخریب می‌شوند و ریزپرزها و حتی پرزها از بین می‌روند. در نتیجه، سطح جذب مواد، کاهش شدیدی پیدا می‌کند و بسیاری از مواد مغذی مورد نیاز بدن جذب نمی‌شوند.

### بیشتر بدانید

ابوالقاسم خلف ابن العباس زهراوی نخستین کسی بود که از نخ‌های تهیه‌شده از روده جانوران، برای جراحی استفاده کرد. این نخ تنها ماده طبیعی است که بدن آن را می‌پذیرد و در بدن تجزیه می‌شود. ابوالحسن احمد بن محمد طبری، پزشک و دانشمند ایرانی سده چهارم هجری و مؤلف کتاب «المعالجات البقرایه» برای اولین بار در تاریخ پزشکی، برای شست‌وشوی معده افرادی که دچار مسمومیت می‌شدند، از لوله استفاده کرد.

شکل ۱۳- الف) پرز  
ب) چین‌های حلقوی



خلاصه‌واژه‌های لیپوپروتئین کم‌چگال و لیپوپروتئین پرچگال از سوی فرهنگستان زبان و ادب فارسی، به‌ترتیب «لیپوک» و «لیپوپ» اعلام شده‌است.

مواد گوناگون به روش‌های متفاوتی که در فصل قبل خواندید، از یاخته‌های پوششی هر پرز عبور می‌کنند و به شبکه مویرگی درون پرز و سپس جریان خون وارد می‌شوند. همان‌طور که در شکل ۱۳-الف می‌بینید، در هر پرز، مویرگ بسته لنفی نیز وجود دارد. لنف از آب و ترکیبات دیگر تشکیل شده و در رگ‌های لنفی جریان دارد. مولکول‌های حاصل از گوارش لیپیدها به مویرگ لنفی و سپس به خون وارد می‌شوند (در فصل دستگاه گردش مواد در بدن، با ساختار مویرگ خونی و لنفی بیشتر آشنا می‌شوید). این مولکول‌ها در کبد یا بافت چربی ذخیره می‌شوند. در کبد از این لیپیدها، مولکول‌های لیپوپروتئین (ترکیب لیپید و پروتئین) ساخته می‌شود.

گروهی از لیپوپروتئین‌ها کلسترول زیادی دارند و به آنها **لیپوپروتئین کم‌چگال (LDL)**<sup>۱</sup> می‌گویند. در گروهی دیگر، پروتئین از کلسترول بیشتر است که **لیپوپروتئین پرچگال (HDL)**<sup>۲</sup> نام دارند. زیاد بودن لیپوپروتئین پرچگال نسبت به کم‌چگال، احتمال رسوب کلسترول در دیواره سرخرگ‌ها را کاهش می‌دهد. چاقی، کم‌تحركی و مصرف بیش از حد کلسترول، میزان لیپوپروتئین‌های کم‌چگال را افزایش می‌دهد.

### فعالیت ۵

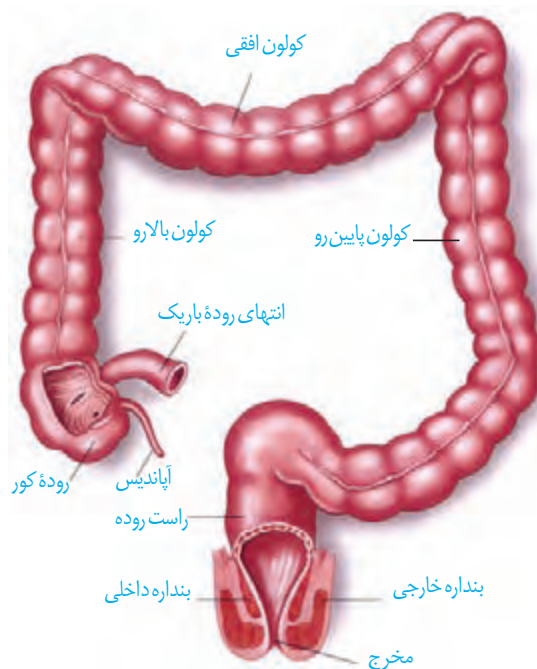
یک برگه آزمایش خون را که مواد موجود خون در آن ثبت شده است، بررسی کنید. میزان طبیعی لیپوپروتئین پرچگال (HDL)، لیپوپروتئین کم‌چگال (LDL)، نسبت HDL/LDL و تری‌گلیسرید

در خون چقدر است؟

### روده بزرگ و دفع

ابتدای روده بزرگ **روده کور** نام دارد. روده کور به آپاندیس ختم می‌شود. ادامه روده بزرگ از کولون بالارو، کولون افقی و کولون پایین‌رو، تشکیل شده است. روده بزرگ، پرز ندارد و یاخته‌های پوششی مخاط آن، ماده مخاطی ترشح می‌کنند ولی آنزیم گوارشی ترشح نمی‌کنند. بعد از روده بزرگ، راست روده قرار دارد. در انتهای راست روده، بنداره‌های داخلی (ماهیچه صاف) و خارجی (ماهیچه مخطط) قرار دارند (شکل ۱۴).

مواد جذب نشده و گوارش نیافته، یاخته‌های مرده و باقی مانده شیره‌های گوارشی، وارد روده بزرگ می‌شوند. روده بزرگ، آب و یون‌ها را جذب می‌کند؛ در نتیجه، مدفوع به شکل جامد در می‌آید. حرکات روده بزرگ، آهسته انجام می‌شوند. مدفوع به راست روده وارد و سرانجام دفع به صورت ارادی انجام می‌شود.

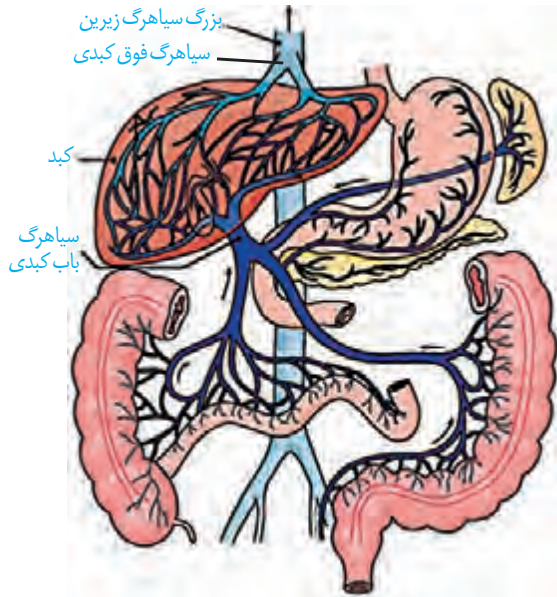


شکل ۱۴- بخش‌های انتهایی لوله گوارش

۱. LDL: Low-density Lipoproteins

۲. HDL: High-density Lipoproteins

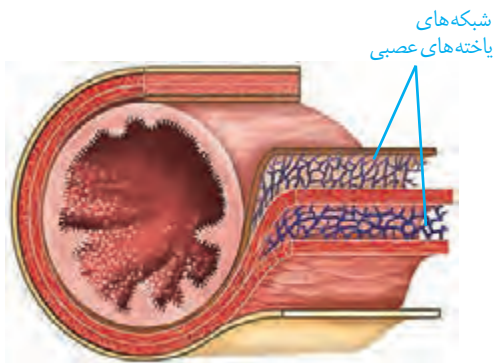
## گردش خون دستگاه گوارش



شکل ۱۵- سیاهرگ باب و فوق کبدی

خونِ بخش‌هایی از دستگاه گوارش به طور مستقیم به قلب برنمی‌گردد؛ بلکه از راه سیاهرگ باب، ابتدا به کبد و سپس از راه سیاهرگ‌های دیگر به قلب می‌رود (شکل ۱۵). پس از خوردن غذا، میزان جریان خون دستگاه گوارش افزایش می‌یابد تا نیاز آن برای فعالیت بیشتر تأمین شود و مواد مغذی جذب شده، به کبد منتقل شوند. در کبد، از مواد جذب شده، گلیکوژن و پروتئین ساخته می‌شود و موادی مانند آهن و برخی ویتامین‌ها نیز در آن ذخیره می‌شوند.

## تنظیم فرایندهای گوارشی



شکل ۱۶- شبکه‌های یاخته‌های عصبی لوله گوارش در زیر مخاط و لایه ماهیچه‌ای

دستگاه گوارش یک مرحله خاموشی نسبی (فاصله بین خوردن وعده‌های غذایی) و یک مرحله فعالیت شدید (بعد از ورود غذا) دارد. این دستگاه باید به ورود غذا پاسخ مناسبی بدهد؛ یعنی شیره‌های گوارشی به موقع و به اندازه کافی ترشح و حرکات لوله گوارش به موقع انجام شوند تا غذا را با شیره‌ها مخلوط کند و در طول لوله با سرعت مناسب حرکت دهد. فعالیت بخش‌های دیگر بدن از جمله گردش خون نیز باید با فعالیت دستگاه گوارش هماهنگ باشد. فعالیت دستگاه گوارش را مانند بخش‌های دیگر بدن، دستگاه‌های عصبی و هورمونی تنظیم می‌کنند. تنظیم عصبی دستگاه گوارش را بخشی از دستگاه عصبی به نام **دستگاه**

**عصبی خودمختار** انجام می‌دهد. فعالیت این دستگاه، ناخودآگاه است؛ مثلاً وقتی به غذا فکر می‌کنیم، بزاق ترشح می‌شود. با فعالیت دستگاه عصبی خودمختار، پیام عصبی به غده‌های بزاقی می‌رسد و بزاق ترشح می‌شود. دیدن غذا و بوی آن نیز باعث افزایش ترشح بزاق می‌شوند.

انجام فعالیت‌های گوارشی با فعالیت‌های بخش‌های دیگر بدن نیز باید هماهنگ شود. مثلاً هنگام بلع و عبور غذا از حلق، مرکز بلع در بصل‌التخاع، فعالیت مرکز تنفس را که در نزدیک آن قرار دارد، مهار می‌کند؛ در نتیجه، نای بسته و تنفس برای زمانی کوتاه، متوقف می‌شود.

همان‌طور که در ساختار لوله گوارش دیدیم، در دیواره این لوله (از مری تا مخرج) شبکه‌های یاخته‌های عصبی، وجود دارند (شکل ۱۶). این شبکه‌ها که **شبکه‌های عصبی روده‌ای** نامیده می‌شوند، تحرک و ترشح را در لوله گوارش، تنظیم می‌کنند. شبکه‌های عصبی روده‌ای می‌توانند مستقل از دستگاه عصبی خودمختار، فعالیت کنند. اما دستگاه عصبی خودمختار با آنها ارتباط دارد و بر عملکرد آنها تأثیر می‌گذارد.

## بیشتر بدانید

**سکرتین** به معنی ماده ترشح شده است. سکرتین نخستین هورمون کشف شده است.  
**گاسترین**: گاستر واژه‌ای یونانی به معنی معده است و گاسترین به معنای ماده‌ای است که معده آن را ترشح می‌کند.

در بخش‌های مختلف معده و روده، یاخته‌هایی وجود دارند که هورمون می‌سازند. این هورمون‌ها به خون می‌ریزند و همراه با دستگاه عصبی، فعالیت‌های دستگاه گوارش را تنظیم می‌کنند. **سکرتین** و **گاسترین** از این هورمون‌ها هستند. سکرتین، از دوازدهه به خون ترشح می‌شود و با اثر بر لوزالمعده موجب می‌شود ترشح بیکربنات افزایش یابد. گاسترین از معده ترشح و باعث افزایش ترشح اسید معده و پپسینوژن می‌شود.

## وزن مناسب

از دلایل چاقی در جوامع امروزی، استفاده از غذاهای پر انرژی (غذاهای پرچرب و شیرین)، عوامل روانی مانند غذا خوردن برای رهایی از تنش و شیوه زندگی کم تحرک است. البته چاقی در برخی از افراد به ژن‌ها مربوط است. چاقی، سلامت فرد را به خطر می‌اندازد و احتمال ابتلا به بیماری‌هایی مانند دیابت نوع ۲، انواعی از سرطان، تنگ شدن سرخرگ‌ها، سکته قلبی و مغزی را افزایش می‌دهد. از سوی دیگر، افرادی که کمتر از نیاز غذا می‌خورند و در نتیجه، لاغر می‌شوند؛ به علت کاهش دریافت مواد مغذی دچار مشکلاتی مانند کم‌خونی و کاهش استحکام استخوان‌ها می‌شوند. تبلیغات و فشار اجتماعی در تمایل افراد به کاهش وزن بیش از حد نقش دارد. برای تعیین وزن مناسب، از شاخص توده بدنی استفاده می‌کنند. این شاخص از رابطه زیر محاسبه می‌شود:

$$\text{شاخص توده بدنی} = \frac{\text{جرم (Kg)}}{\text{مربع قد (m}^2\text{)}}$$

شاخص توده بدنی کمتر از ۱۹، نشان‌دهنده کمبود وزن و بیشتر از ۳۰ به معنی چاقی است. اگر این شاخص بین ۱۹ تا ۲۵ باشد، نشان‌دهنده وزن مناسب و بین ۲۵ تا ۳۰ به معنی داشتن وزن اضافه است.

تعیین وزن مناسب بر اساس شاخص توده بدنی برای افراد بیشتر از بیست سال است. از آنجا که افراد کمتر از بیست سال در سن رشد قرار دارند، برای بررسی مناسب بودن وزن این افراد، شاخص توده بدنی آنها را با افراد هم سن و هم جنس، مقایسه می‌کنند. البته وزن هر فرد به تراکم استخوان، مقدار بافت ماهیچه و چربی بدن او بستگی دارد. بنابراین فقط افراد متخصص می‌توانند درباره مناسب بودن وزن فرد، قضاوت کنند.

## فعالیت ۶

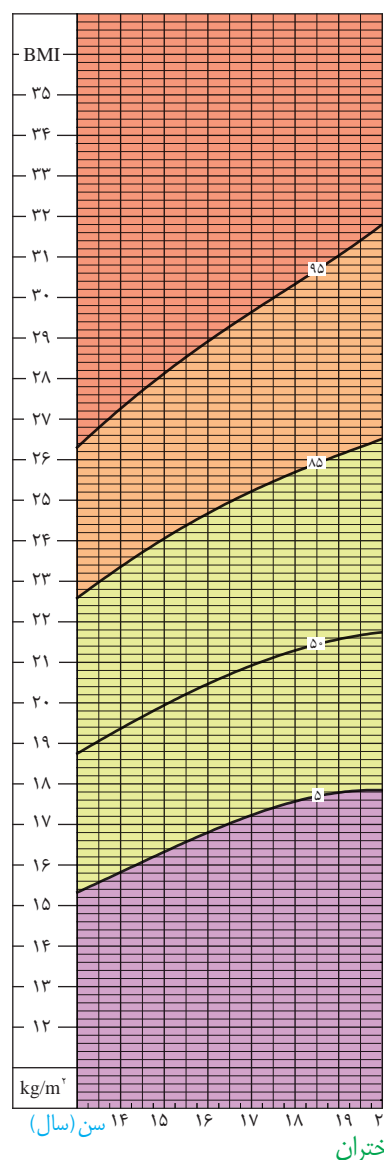
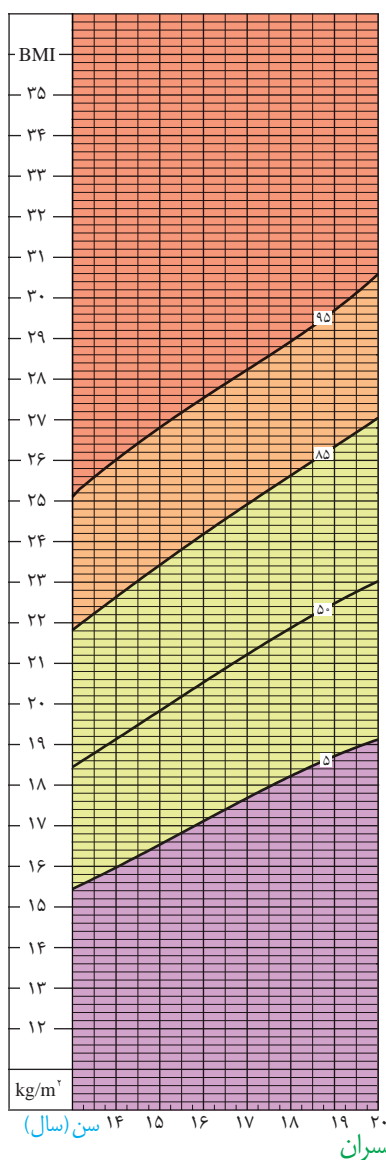
ذخیره بیش از اندازه چربی در کبد موجب بیماری «کبد چرب» می‌شود. چگونه می‌توان از این بیماری پیشگیری کرد؟ در این باره اطلاعاتی جمع‌آوری کنید و به کلاس ارائه دهید.



با استفاده از نمودارها و جدول زیر می‌توان مشخص کرد آیا افراد بین ۱۴ تا ۲۰ سال اضافه وزن یا چاقی احتمالی دارند یا نه. اما برای بررسی دقیق موضوع باید به متخصص مراجعه کرد.

جدول درصد نمایه توده بدنی برای افراد کمتر از ۲۰ سال، براساس نمودار روبه‌رو

وضعیت وزن	درصد نمایه توده بدنی
چاق	۹۵ و بیشتر از آن
اضافه وزن	۸۵ تا ۹۵
وزن طبیعی	۵ تا ۸۵
کمبود وزن	کمتر از ۵



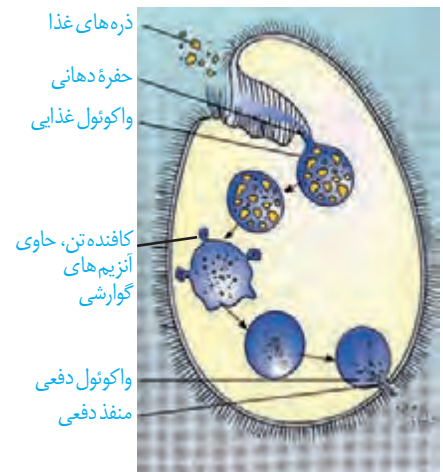
نمودار نمایه توده بدنی بر اساس سن برای دختران و پسران بین ۱۴ تا ۲۰ سال



شکل ۱۷- کرم کدو

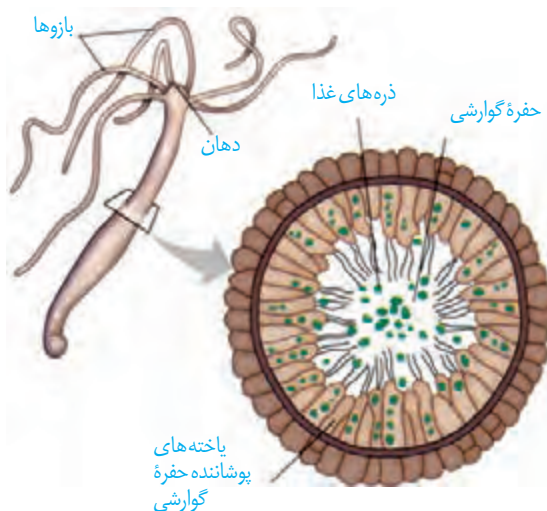
برخی جانداران، مواد مغذی را از سطح یاخته یا بدن و به طور مستقیم از محیط، دریافت می‌کنند. این محیط، آب دریا، دستگاه گوارش یا مایعات بدن جانوران میزبان است. کرم کدو که فاقد دهان و دستگاه گوارش است، مواد مغذی را از سطح بدن جذب می‌کند (شکل ۱۷).

**واکوئول گوارشی:** پارامسی از آغازیان است و با حرکت مژک‌ها غذا را از محیط به حفره دهانی منتقل می‌کند. در انتهای حفره، کیسه‌ای غشایی به نام **واکوئول غذایی** تشکیل می‌شود. واکوئول غذایی درون سیتوپلاسم حرکت می‌کند. کافنده تن (لیزوزوم) به واکوئول می‌پیوندد و آنزیم‌های خود را به درون آن آزاد می‌کند. در نتیجه، **واکوئول گوارشی** تشکیل می‌شود. مواد گوارش یافته از این واکوئول خارج می‌شوند و مواد گوارش نیافته در آن باقی می‌مانند. به این واکوئول، **واکوئول دفعی** می‌گویند. محتویات این واکوئول از راه منفذ دفعی یاخته خارج می‌شود (شکل ۱۸).



شکل ۱۸- گوارش درون یاخته‌ای در پارامسی از آغازیان

**حفره گوارشی:** گوارش در جانوری مانند هیدر در کیسه‌ای به نام **حفره گوارشی** انجام می‌شود. این حفره فقط یک سوراخ برای ورود و خروج مواد دارد. یاخته‌هایی در این حفره، آنزیم‌هایی ترشح می‌کنند که فرایند گوارش به صورت برون یاخته‌ای را آغاز می‌کنند. یاخته‌های این حفره، ذره‌های غذایی را با درون‌بری دریافت می‌کنند. سپس فرایند گوارش به صورت درون یاخته‌ای در حفره گوارشی ادامه می‌یابد (شکل ۱۹).



شکل ۱۹- حفره گوارشی در هیدر