

مجموعه، الگو و دنباله

فصل



آلا داغلار یا کوه‌های رنگی در شهرستان ماه‌نشان استان زنجان



درس اول مجموعه‌های متناهی و نامتناهی

درس دوم متمم یک مجموعه

درس سوم الگو و دنباله

درس چهارم دنباله‌های حسابی و هندسی

درس اول: مجموعه‌های متناهی و نامتناهی

مجموعه‌های اعداد

انسان در طول تاریخ برحسب نیاز خود از مجموعه‌های مختلف اعداد استفاده کرده است. برخی از این مجموعه‌ها که در سال‌های قبل با آنها آشنا شدیم، به شرح زیرند:

مجموعه اعداد طبیعی: $\mathbb{N} = \{1, 2, 3, 4, \dots\}$


مجموعه اعداد حسابی: $\mathbb{W} = \{0, 1, 2, 3, 4, \dots\}$

مجموعه اعداد صحیح: $\mathbb{Z} = \{\dots, -2, -1, 0, 1, 2, 3, \dots\}$

مجموعه اعداد گویا: $\mathbb{Q} = \left\{ \frac{m}{n} \mid m, n \in \mathbb{Z}, n \neq 0 \right\}$

مجموعه اعدادی که بتوان آنها را به صورت $\mathbb{Q}' = \mathbb{Q}$ نمایش داد. نسبت دو عدد صحیح نمایش داد.

مجموعه اعداد حقیقی: $\mathbb{R} = \mathbb{Q} \cup \mathbb{Q}'$



جورج کانتور

«مجموعه» یکی از اساسی‌ترین مفاهیم ریاضی است که بسیاری از نظریه‌های دیگر ریاضی در یک قرن اخیر بر مبنای آن پایه‌گذاری یا سازماندهی شده‌اند. مطالعات جدی دربارهٔ مجموعه‌ها با کار جورج کانتور در سال ۱۸۷۰م آغاز شده‌است.

همان‌طور که ملاحظه می‌شود رابطهٔ زیرمجموعه بودن بین این مجموعه‌ها به شکل $\mathbb{N} \subseteq \mathbb{W} \subseteq \mathbb{Z} \subseteq \mathbb{Q} \subseteq \mathbb{R}$ برقرار است. به عبارت دیگر تمام مجموعه‌های اعدادی که تاکنون با آنها آشنا شده‌ایم، زیرمجموعه‌هایی از اعداد حقیقی‌اند. در نتیجه، هر عدد دلخواهی را که در نظر بگیریم، باید جایی روی محور اعداد حقیقی داشته باشد و همچنین هر نقطه روی این محور نشان‌دهندهٔ یک عدد حقیقی مشخص است.

کاردرکلاس

الف) مجموعه $\mathbb{R} - \mathbb{Q}$ چه نام دارد؟ آن را روی شکل مقابل هاشور بزنید و دو عضو دلخواه از آن را در ناحیهٔ هاشور خورده بنویسید.

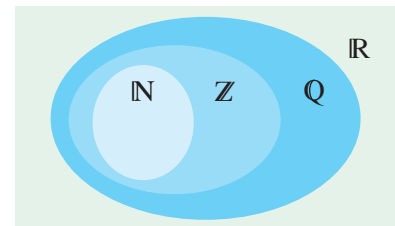
ب) دو عدد گویا مثال بزنید که عدد صحیح نباشند و آنها را روی شکل مقابل در محل مناسب بنویسید.

پ) اعداد زیر را روی شکل و در محل مناسب بنویسید.

$\sqrt{17}, 0, 200, \frac{\pi}{4}, 2/6, 2\sqrt{5}, -\frac{25}{3}, -9$

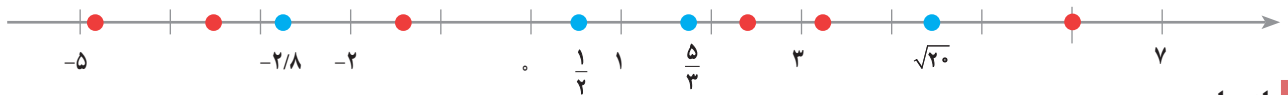
ت) مجموعه اعداد صحیح غیر حسابی را با نمایش اعضا بنویسید. $\mathbb{Z} - \mathbb{W} = \{ \dots \}$

ث) مجموعه $\mathbb{W} - \mathbb{N}$ چند عضو دارد؟




۲ هر یک از اعداد داده شده را در یکی از جاهای مشخص شده روی محور بنویسید. کدام یک از این شش عدد گنگ‌اند؟ زیر آنها خط بکشید.

$$2/45, \frac{-7}{2}, 6, -4/9, \pi, -\sqrt{2}$$



بازه‌ها

در اینجا گونه دیگری از زیرمجموعه‌های \mathbb{R} را در نظر می‌گیریم. فرض کنید A مجموعه شامل تمام اعداد حقیقی بین -2 و 1 به همراه خود این دو عدد باشد؛ یعنی $A = \{x \in \mathbb{R} \mid -2 \leq x \leq 1\}$. اعضای A را روی محور زیر، با رنگ کردن مشخص کنید. آیا می‌توان تمام اعضای A را فهرست کرد؟ آیا می‌توان اولین عدد حقیقی بعد از -2 را مشخص کرد؟



چنین زیرمجموعه‌هایی از \mathbb{R} که مشخص‌کننده یک قطعه از محور اعداد حقیقی باشد را «بازه» یا «فاصله» می‌نامیم. بازه‌ها در ریاضیات از اهمیت نسبتاً زیادی برخوردارند و ما هم در برخی از فصل‌های بعدی این کتاب به دفعات با آنها سر و کار خواهیم داشت. از این رو شایسته است که برای نشان دادن آنها از نماد ساده‌تری استفاده شود. بازه‌هایی مثل A که شامل هر دو نقطه انتهایی خود می‌باشد را **بازه بسته** از -2 تا 1 می‌نامیم و آن را با نماد $[-2, 1]$ نشان می‌دهیم. حال اگر نقاط ابتدایی و انتهایی این بازه یعنی -2 و 1 را از A حذف کنیم، آنگاه مجموعه‌ای مانند $B = \{x \in \mathbb{R} \mid -2 < x < 1\}$ به دست می‌آید که آن را **بازه باز** بین -2 و 1 می‌نامیم و با نماد $(-2, 1)$ نشان می‌دهیم. طول بازه (a, b) برابر است با $b - a$ (به عنوان مثال طول هر کدام از بازه‌های $(2, 7)$ ، $[2, 7]$ ، $(2, 7]$ و $[2, 7)$ برابر ۵ است).

به طور خلاصه:

بازه بسته بین -2 و 1 : $A = [-2, 1] = \{x \in \mathbb{R} \mid -2 \leq x \leq 1\}$

بازه باز بین -2 و 1 : $B = (-2, 1) = \{x \in \mathbb{R} \mid -2 < x < 1\}$

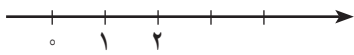
همچنین بازه‌هایی مثل $(2, 7) = \{x \in \mathbb{R} \mid 2 < x < 7\}$ که تنها شامل یکی از نقاط انتهایی خود می‌باشد را بازه‌های **نیم باز** می‌نامیم.

فعالیت

اگر a و b دو عدد حقیقی دلخواه باشند، به طوری که $a < b$ آنگاه جدول زیر را کامل کنید:

نوع بازه	بازه	نمایش مجموعه‌ای	نمایش هندسی
باز		$\{x \in \mathbb{R} \mid a < x < b\}$	
بسته			
نیم باز	$[a, b)$		
نیم باز	$(a, b]$		
		$\{x \in \mathbb{R} \mid 1 < x \leq 5\}$	

گاهی تمام اعداد حقیقی مثلاً بزرگ‌تر از ۲ مورد نظر است. به‌عنوان مثال، می‌دانیم که مجموعه جواب نامعادله $2x > 4$ به صورت $C = \{x \in \mathbb{R} \mid x > 2\}$ است. اعضای C را روی محور زیر نشان دهید.



آیا می‌توانید C را به صورت یک بازه بنویسید؟ برای اینکه این مجموعه را به شکل بازه بنویسیم، از نماد $+\infty$ (بخوانید: مثبت بی‌نهایت) استفاده می‌کنیم. مجموعه C را در قالب بازه با نماد $(2, +\infty)$ نمایش می‌دهیم که یک بازه باز محسوب می‌شود. به همین ترتیب برای مجموعه‌ای مثل $D = \{x \in \mathbb{R} \mid x \leq 1\}$ نمایش بازه‌ای به صورت $(-\infty, 1]$ خواهد بود که یک بازه نیم باز است. توجه داریم که $+\infty$ و $-\infty$ اعداد حقیقی نیستند. در سال‌های آینده با این دو نماد بیشتر آشنا خواهیم شد.

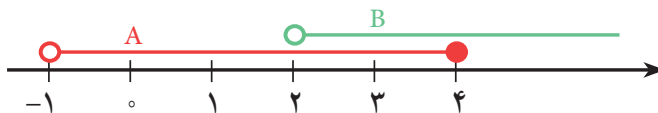
فعالیت

اگر a عدد حقیقی دلخواهی باشد، جدول زیر را کامل کنید.

نوع بازه	بازه	نمایش مجموعه‌ای	نمایش هندسی
		$\{x \in \mathbb{R} \mid x > a\}$	
نیم باز	$[a, +\infty)$		
	$(-\infty, a)$		
		\mathbb{R}	
		$\{x \in \mathbb{R} \mid x < 5\}$	

مثال

می‌خواهیم اجتماع و اشتراک دو بازه $A = (-1, 4]$ و $B = (2, +\infty)$ را به دست آوریم. نمایش هندسی هر دو بازه را مطابق شکل روی یک محور رسم می‌کنیم.



از روی شکل دیده می‌شود که $A \cup B$ برابر است با مجموعه تمام اعداد حقیقی بزرگ‌تر از -1 ، یعنی:

$$(-1, 4] \cup (2, +\infty) = (-1, +\infty)$$

همچنین با توجه به شکل ملاحظه می‌شود که $A \cap B$ برابر است با مجموعه تمام اعداد حقیقی بین ۲ و ۴ به همراه خود عدد ۴؛ یعنی:

$$(-1, 4] \cap (2, +\infty) = (2, 4]$$

توضیح دهید که چرا $2 \notin A \cap B$.

۱ درست‌ی یا نادرستی عبارت‌های زیر را مشخص کنید:

الف) $\frac{4}{3} \in [\frac{1}{4}, 2)$ ب) $-2 \in (-2, 0]$ پ) $0 \in (-2, 0]$ ت) $-2 \in \{-2, 0\}$ ث) $-1 \in \{-2, 0\}$

ج) $[-1, 2] \subseteq (-1, 2)$ چ) $\{0, 1\} \subseteq [-1, 2)$ ح) $\emptyset \subseteq (-17, 0]$ خ) $[2, 5) = (2, 5]$ د) $\sqrt{2} \in (0, 1)$

۲ هر یک از اعداد زیر عضو یک یا چند تا از بازه‌های داده شده هستند. هر عدد را به بازه یا بازه‌های نظیر آن وصل کنید.

-۲	$\sqrt{3}$	-۵۰۰	$\frac{-5}{4}$	$6/0.22 \times 10^{23}$	۰/۲
$[1, 4]$	$(-\infty, -4)$	$[-2, 0)$	$[3, +\infty)$	$(-\frac{1}{2}, \frac{1}{2}]$	$(-2, 3)$

۳ نمایش هندسی دو بازه $A = (-4, 2]$ و $B = (-1, 3]$ را روی محور زیر رسم کنید و سپس حاصل عبارت‌های زیر را بنویسید.



الف) $A \cap B$ ب) $A \cup B$ پ) $A - B$ ت) $B - A$

مجموعه‌های متناهی و نامتناهی

فعالیت

فرض کنید A مجموعه اعداد طبیعی کمتر از ۴ و B مجموعه اعداد صحیح کمتر از ۴ باشد.

الف) این دو مجموعه را با نمایش اعضای آنها مشخص کنید.

$A = \{ \quad \quad \quad \}$

$B = \{ \quad \quad \quad \}$

ب) A چند عضو دارد؟

پ) درباره تعداد اعضای B چه می‌توان گفت؟

مجموعه‌هایی مانند A را که تعداد اعضای آنها یک عدد حسابی است، **مجموعه‌های متناهی** می‌نامیم.

با توجه به مطلب فوق، B یک مجموعه متناهی نیست؛ زیرا نمی‌توان تعداد اعضای آن را با یک عدد بیان کرد. در واقع تعداد اعضای این مجموعه از هر عددی که در نظر بگیریم، بزرگ‌تر است. چنین مجموعه‌هایی را **مجموعه‌های نامتناهی** می‌نامیم.

کار در کلاس

۱ متناهی یا نامتناهی بودن هر یک از مجموعه‌های زیر را مشخص کنید. دربارهٔ مجموعه‌های متناهی سعی کنید تعداد دقیق یا تقریبی اعضای هر یک از آنها را بنویسید.

تعداد اعضا (در مورد مجموعه‌های متناهی)	متناهی	نامتناهی	مجموعه
			مجموعه اعداد اول یک رقمی
			مجموعه انسان‌های روی زمین
			مجموعه اعداد طبیعی فرد
			مجموعه سلول‌های عصبی مغز یک انسان
			مجموعه تمام دایره‌های به مرکز مبدأ مختصات
			مجموعه دانش‌آموزان مدرسه شما
			مجموعه اعداد طبیعی ده رقمی
			مجموعه درخت‌های جنگل‌های آمازون
			مجموعه کسرهای مثبت با صورت یک
			مجموعه مضرب‌های طبیعی عدد ۱۰
			بازه (۱, ۰)
			مجموعه مولکول‌های موجود در یک مول مشخص از آب

۲ دو مجموعهٔ متناهی نام ببرید.

۳ دو مجموعهٔ نامتناهی مثال بزنید که یکی از آنها زیرمجموعهٔ دیگری باشد.

۴ دو مجموعهٔ نامتناهی مثل A و B مثال بزنید که $A \subseteq B$ بوده و $B - A$ تک عضوی باشد.

تذکر: تعداد اعضای برخی از مجموعه‌های متناهی ممکن است بسیار زیاد باشد؛ با این حال با داشتن امکانات لازم و صرف وقت کافی ممکن است بتوان تعداد آنها را به دست آورد.



جنگل‌های آمازون

آمازون که به ریه‌های زمین مشهور است، جنگل بسیار بزرگی در شمال آمریکای جنوبی است و به دلیل همین وسعت، به آن **جنگل‌های آمازون** گفته می‌شود. حدود ۶۰ درصد این جنگل در خاک برزیل قرار دارد، همچنین بخش‌هایی از آن هم در کشورهای پرو، اکوادور، گویان، کلمبیا، ونزوئلا، بولیوی و سورینام واقع شده است. در واقع این جنگل بیش از سه برابر خاک کشور ما وسعت دارد. رودخانهٔ آمازون با طول حدود ۶۵۰۰ کیلومتر به عنوان پرآب‌ترین رودخانهٔ دنیا که ۵ درصد آب شیرین جهان را در خود جای می‌دهد، نیز از دل این جنگل عبور می‌کند. نتیجهٔ یک مطالعه بزرگ که مدت ۱۰ سال به طول انجامید، نشان می‌دهد که $\frac{39}{1000000000}$ اصله درخت در ۱۶۰۰۰ گونهٔ مختلف در جنگل‌های آمازون وجود دارد. با این حساب سهم هر فرد دنیا از این جنگل چند درخت می‌شود؟! با وجود این، مجموعه درخت‌های جنگل‌های آمازون یک مجموعه متناهی محسوب می‌شود یا نامتناهی؟



طرحی از سلول‌های عصبی مغز

الف) $\frac{1}{3}$ عددی بین 0° و 1° است. چهار عدد گویای دیگر از بازه $(0, 1)$ بنویسید و جواب خود را با جواب‌های دوستانتان مقایسه کنید.

ب) آیا می‌توان بین 0° و 1° به هر تعداد دلخواه عدد گویا ارائه کرد؟

پ) در مورد متناهی یا نامتناهی بودن اعداد گویای موجود در بازه $(0, 1)$ چه نتیجه‌ای می‌گیرید؟

ت) در مورد متناهی یا نامتناهی بودن Q چه می‌توان گفت؟

ث) اگر A دارای یک زیر مجموعه نامتناهی باشد، آنگاه A یک مجموعه خواهد بود.

تمرین

۱) فرض کنید U مجموعه تمام مضرب‌های طبیعی عدد ۵ باشد.

الف) U را با نمایش اعضای آن بنویسید.

ب) U متناهی است یا نامتناهی؟

پ) یک زیر مجموعه متناهی از U بنویسید.

ت) دو زیر مجموعه نامتناهی مانند C و D از U بنویسید؛ به طوری که $C \subseteq D$.

۲) متناهی یا نامتناهی بودن مجموعه‌های زیر را مشخص کنید.

الف) مجموعه اعداد طبیعی.

ب) مجموعه شمارنده‌های طبیعی عدد ۳۶.

پ) بازه $(\frac{1}{4}, \frac{1}{3})$.

ت) $A = \{x \in \mathbb{N} \mid 1 < x < 2\}$.

ث) مجموعه مضرب‌های طبیعی عدد ۱۰۰.

۳) دو مجموعه نامتناهی مثال بزنید که اشتراک آنها مجموعه‌ای متناهی باشد.

۴) حاصل هر یک از مجموعه‌های زیر را با رسم بازه‌های آنها روی یک محور به دست آورید:

الف) $(-2, 5] \cup (-3, 0)$ ب) $(-\infty, 6] \cap (2, 9)$

پ) $(3, +\infty) \cap (6, 10]$ ت) $(-\infty, 1) \cup [1, +\infty)$

ث) $(3, +\infty) - [2, 4)$ ج) $[2, 4) - (3, +\infty)$

۵) مجموعه $\mathbb{R} - \{3\}$ را روی محور نشان دهید و سپس آن را به صورت اجتماع دو بازه بنویسید.

۶) اگر $A \subseteq B$ و B مجموعه‌ای متناهی باشد، آنگاه A متناهی خواهد بود یا نامتناهی؟

عدد آووگادرو

در شیمی تعداد 6.022×10^{23} عدد از هر ذره (مولکول یا اتم) را یک مول از آن ذره می‌نامند. برای درک میزان بزرگی این عدد، فرض کنیم تعداد مولکول‌های موجود در یک مول آب را که ۱۸ گرم است، بتوانیم مولکول به مولکول بشماریم و کار شمردن هر مولکول آن هم یک ثانیه زمان ببرد. در این صورت کار شمارش نزدیک به 2° میلیون میلیارد سال به طول خواهد انجامید که این زمان حدود یک میلیون برابر عمر جهان است!

به نظر شما، مجموعه مولکول‌های یک مول مشخص از آب، یک مجموعه متناهی است یا نامتناهی؟



درس دوم: متمم یک مجموعه

مجموعه مرجع

فرض کنیم U نشان دهنده مجموعه تمام کتاب‌های کتابخانه آیت الله العظمی مرعشی نجفی (ره) و A مجموعه کتاب‌های خطی آن باشد. اگر مجموعه‌ای را که شامل کتاب‌های چاپی این کتابخانه است، با A' نشان دهیم، آنگاه می‌توانیم نمودار پایین صفحه را درباره کتاب‌های این کتابخانه رسم کنیم. در این مثال U را که شامل تمام کتاب‌های کتابخانه می‌باشد، مجموعه مرجع و A' را متمم مجموعه A می‌نامیم.



کتابخانه آیت الله العظمی مرعشی نجفی (ره)، در شهر مقدس قم یکی از بزرگ‌ترین کتابخانه‌های جهان اسلام است که کتاب‌های نفیس و قدیمی بسیاری را در موضوعات مختلف در خود جای داده است. این کتابخانه از نظر فراوانی نسخه‌های خطی، نخستین کتابخانه کشور و سومین کتابخانه جهان اسلام به‌شمار می‌رود. جدول زیر اطلاعات مختصری درباره تعداد کتاب‌های این کتابخانه در اختیار ما قرار می‌دهد.

تعداد	نوع کتاب
۴۲۰۰۰ جلد	کتاب‌های خطی
۱۰۰۰۰۰۰ جلد	کتاب‌های چاپی
۱۰۴۲۰۰۰ جلد	کل کتاب‌ها



U : مجموعه تمام کتاب‌های کتابخانه

A : کتاب‌های خطی

A' : کتاب‌های چاپی

در هر مبحث، مجموعه‌ای را که همه مجموعه‌های مورد بحث، زیرمجموعه آن باشند، **مجموعه مرجع** می‌نامیم و آن را با U نشان می‌دهیم.

هرگاه U مجموعه مرجع باشد و $A \subseteq U$ ، آنگاه مجموعه $U - A$ را **متمم** A می‌نامیم و آن را با نماد A' نشان می‌دهیم. به عبارت دیگر A' شامل عضوهای U است که در A نیستند.

فعالیت

الف دو مجموعه زیر را در نظر بگیرید و اعضای هر یک را روی محور نشان دهید.

$$A = \{x \in \mathbb{Z} \mid -3 < x \leq 2\}$$

$$B = \{x \in \mathbb{R} \mid -3 < x \leq 2\}$$

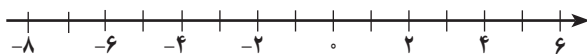
ب A را با نمایش اعضا و B را به صورت یک بازه بنویسید.

$$A = \{ \quad \quad \quad \}$$

$$B =$$

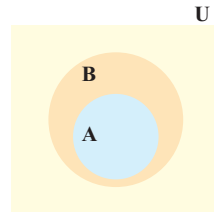
پ در مورد A ، اگر مجموعه مرجع را \mathbb{Z} در نظر بگیریم، A' را مشخص کنید.

ت در مورد B با فرض این که \mathbb{R} مجموعه مرجع باشد، B' را مشخص کنید و آن را روی محور نمایش دهید.

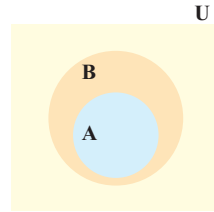


۷ الف) فرض کنیم $A \subseteq B \subseteq U$ که در آن U مجموعه مرجع است. در نمودارهای مقابل A' و B' را مشخص کنید و سپس تعیین کنید که آیا بین A' و B' هم رابطه زیر مجموعه بودن برقرار است؟ چگونه؟

ب) اگر $U = \{a, b, c, d, e\}$ مجموعه مرجع باشد و $A = \{a, b\}$ و $B = \{a, b, c\}$ ، در این صورت $A \subseteq B$ می‌باشد. با به دست آوردن A' و B' نشان دهید که بین A' و B' هم رابطه زیر مجموعه بودن برقرار است.



A' را هاشور بزنید



B' را هاشور بزنید

تعداد عضوهای اجتماع دو مجموعه

در سال گذشته دیدیم که اگر A یک مجموعه متناهی باشد، آنگاه برای نشان دادن تعداد عضوهای آن از علامت $n(A)$ استفاده می‌شود. مثلاً اگر $G = \{2, 3, 5, 7\}$ در این صورت می‌توانیم بنویسیم $n(G) = 4$. در این بخش می‌خواهیم رابطه‌ای برای $n(A \cup B)$ به دست آوریم.

فعالیت

۱ یک تیم کوه‌نوردی متشکل از ۴ دانش‌آموز و ۳ دانشجوی عضو یک مؤسسه طرفدار محیط زیست است. اعضای این تیم به طور داوطلبانه در روزهای جمعه هر هفته کوه‌های اطراف شهر خود را از وجود زباله پاک‌سازی می‌کنند. اعضای دانش‌آموز این تیم مجموعه $\{آینتا، زهرا، الناز، الهام\} = A$ و اعضای دانشجوی آن مجموعه $\{فاطمه، معصومه، فرزانه\} = B$ هستند. همان‌گونه که دیده می‌شود، این دو مجموعه هیچ عضو مشترکی ندارند؛ به عبارت دیگر $A \cap B = \emptyset$.

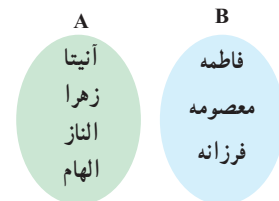


به هر دو مجموعه مثل A و B که فاقد عضو مشترک باشند، دو مجموعه جدا از هم یا مجزا می‌گوییم.

الف) اعضای $A \cup B$ را که بیانگر اعضای تیم کوه‌نوردی می‌باشد، بنویسید و جدول زیر را تکمیل کنید.

$A \cup B =$

$n(A)$	$n(B)$	$n(A \cup B)$	$n(A \cap B)$
۴			



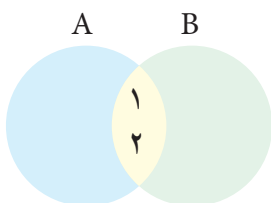
ب) تعداد عضوهای $A \cup B$ چه رابطه‌ای با $n(A)$ و $n(B)$ دارد؟ این رابطه را به صورت یک فرمول بنویسید.

ب) تحت چه شرایطی این فرمول برای دو مجموعه دلخواه A و B برقرار است؟

۲ الف) مجموعه شماره‌های طبیعی دو عدد ۲۸ و ۳۰ را به ترتیب A و B می‌نامیم. موارد خواسته شده را بنویسید.

$A = \{ \dots, \dots, \dots, \dots, \dots, \dots \} \Rightarrow n(A) = 6$
 مجموعه شماره‌های عدد ۲۸
 $B = \{ \dots, \dots, \dots, \dots, \dots, \dots \} \Rightarrow n(B) = \dots$
 مجموعه شماره‌های عدد ۳۰
 $A \cap B = \{ \dots, \dots, \dots, \dots, \dots, \dots \} \Rightarrow n(A \cap B) = \dots$
 شماره‌های مشترک ۲۸ و ۳۰
 $A \cup B = \{ \dots, \dots, \dots, \dots, \dots, \dots \} \Rightarrow n(A \cup B) = \dots$
 جدول زیر را کامل کنید.

n(A)	n(B)	n(A ∩ B)	n(A ∪ B)
۶			



پ) چرا رابطه‌ای را که در فعالیت (۱) به دست آوردید؛ یعنی $n(A \cup B) = n(A) + n(B)$ در این مثال برقرار نیست؟

ت) با تکمیل نمودار مقابل، سعی کنید رابطه درست برای $n(A \cup B)$ را حدس بزنید.

همان‌طور که دیدیم، اگر A و B دو مجموعه متناهی دلخواه باشند، داریم:

$$n(A \cup B) = n(A) + n(B) - n(A \cap B)$$

با توجه به نمودار فوق، در مورد علت درستی این رابطه با دوستان خود بحث کنید.

کاردر کلاس



۱ یک دوره جشنواره فیلم کوتاه با شرکت ۲۱ فیلم در موضوعات مختلف در حال برگزاری است که در بین آنها ۷ فیلم پویانمایی (کارتونی) و ۸ فیلم طنز وجود دارد، به طوری که ۳ تا از فیلم‌های پویانمایی با مضمون طنز می‌باشند. مطلوب است تعداد کل فیلم‌هایی که:

الف) پویانمایی یا طنزند.

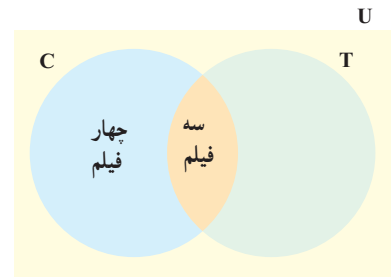
ب) غیر پویانمایی و غیر طنزند.

روش اول حل: مجموعه شامل تمام فیلم‌ها را با U، مجموعه فیلم‌های پویانمایی را با C و مجموعه فیلم‌های طنز را با T نشان می‌دهیم. جاهای خالی را پر کنید و جواب‌ها را بیابید.

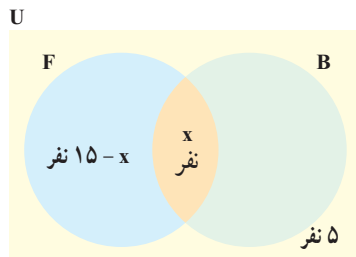
الف) $n(C \cup T) = n(C) + n(T) - n(C \cap T) = \dots + \dots - \dots = \dots$

ب) $n(C \cup T)' = n(U) - n(C \cup T) = \dots - \dots = \dots$

روش دوم حل: در نمودار ون نمایش داده شده، دو مجموعه C و T سطح درون U را به چهار ناحیه جداگانه تقسیم کرده‌اند که عدد مربوط به دوتا از نواحی نوشته شده است. با نوشتن اعداد مربوط به دو قسمت دیگر، جواب قسمت‌های (الف) و (ب) را بیابید.



۲ در یک کلاس ۲۵ نفری، تعداد ۱۵ نفر عضو تیم فوتبال و ۱۱ نفر عضو تیم بسکتبال کلاس هستند. اگر ۵ نفر از دانش‌آموزان این کلاس عضو هیچ یک از این دو تیم نباشند، مشخص کنید چند نفر از آنها عضو هر دو تیم هستند.
روش اول حل: با تکمیل نمودار زیر مقدار x را بیابید.



روش دوم حل: چون ۵ نفر عضو هیچ یک از این دو تیم نیستند، پس $n(B \cup F) = 20$. حال با نوشتن فرمول $n(B \cup F)$ می‌توان $n(B \cap F)$ را به دست آورد.

تمرین

۱ IR را به عنوان مجموعه مرجع در نظر بگیرید و سپس متمم هر یک از مجموعه‌های زیر را روی محور نشان دهید.

(الف) $A = [-2, 3)$ (ب) $B = \{0, 1, 2, 3, 4, \dots\}$ (پ) $C = (0, +\infty)$ (ت) $D = (-\infty, 1]$

۲ IN را به عنوان مجموعه مرجع در نظر بگیرید.
 الف) مجموعه‌ای نامتناهی مثل A مثال بزنید که A' هم نامتناهی باشد.
 ب) مجموعه‌ای نامتناهی مثل B مثال بزنید که B' متناهی باشد.
 پ) مجموعه‌ای متناهی مثل C مثال بزنید و C' را به دست آورید. C' متناهی است یا نامتناهی؟

۳ اگر $n(A) = 15$ ، $n(A \cap B) = 5$ و $n(A \cup B) = 30$ آنگاه $n(B)$ را محاسبه کنید.

۴ فرض کنیم A و B زیر مجموعه‌هایی از مجموعه مرجع U باشند، به طوری که $n(U) = 100$ ، $n(A) = 60$ ، $n(B) = 40$ و $n(A \cap B) = 20$ مطلوب است:

(الف) $n(A \cup B)$ (ب) $n(A \cap B')$ (پ) $n(A' \cap B)$ (ت) $n(A' \cap B')$

۵ در یک کلاس ۳۱ نفری، تعداد ۱۴ نفر از دانش‌آموزان عضو گروه سرود و ۱۹ نفر آنها عضو گروه تئاترند. اگر ۵ نفر از دانش‌آموزان این کلاس عضو هر دو گروه باشند، مطلوب است:
 الف) تعداد دانش‌آموزانی که فقط عضو گروه سرودند.
 ب) تعداد دانش‌آموزانی که عضو هیچ یک از این دو گروه نیستند.




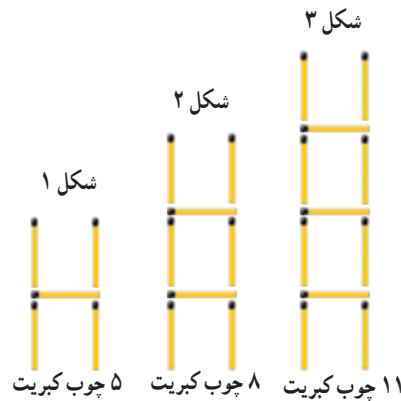
۶ در یک نظرسنجی از ۱۱۰ مشتری یک فروشگاه زنجیره‌ای، مشخص شد که ۷۰ نفر آنها در یک ماه گذشته از محصولات شرکت A و ۵۷ نفرشان از محصولات شرکت B خرید کرده‌اند. همچنین ۳۲ نفر از آنان نیز اعلام کردند که در این مدت از هر دو شرکت خرید کرده‌اند. چه تعداد از این ۱۱۰ نفر در یک ماه گذشته:
 الف) دست کم از یکی از این دو شرکت خرید کرده‌اند.
 ب) فقط از شرکت A خرید کرده‌اند.
 پ) دقیقاً از یکی از این دو شرکت خرید کرده‌اند.
 ت) از هیچ یک از این دو شرکت خرید نکرده‌اند.

درس سوم: الگو و دنباله

الگو

مثال

به شکل‌های زیر و تعداد چوب کبریت‌های به کار رفته در هر یک از آنها توجه کنید.

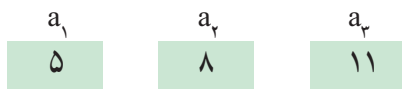


دنیای اطراف ما سرشار از الگوهای مختلفی است. به عنوان نمونه، پیدایش شبانه روز و تغییر فصول مختلف سال جلوه‌ای از الگوی حاکم بر طبیعت است. از سوی دیگر نظم و قانونمندی‌های موجود در یک الگو به خودی خود برای ما جذاب است. چه بسا ممکن است طرح‌های روی یک گل آفتابگردان، شکل‌های هندسی روی یک سطح کاشی کاری شده یا ماریچج‌های روی میوه آناناس توجه شما را به خود جلب کرده باشند. به طور کلی می‌توان گفت الگو یک ساختار منظم از اشکال، تصاویر، صداها، نمادها، وقایع یا اعداد است که ممکن است تکرار شونده یا رشد کننده یا ترکیبی از این دو باشد.

از طرف دیگر یکی از رسالت‌های مهم ریاضیات، مدل‌سازی کردن پدیده‌های طبیعی و بی‌بردن به الگوهای نهفته در آنهاست. اهمیت این موضوع به قدری است که برخی از ریاضیدانان معتقدند که ریاضی عبارت است از علم مطالعه الگوها.

شماره شکل: n	۱	۲	۳	۴	...	n	...
تعداد چوب کبریت‌ها: a_n	۵	۸	۱۱
رابطه بین n و a_n	$a_1=5$	$a_2=8$	$a_3=11$	$a_n=...$...

به عنوان مثال ملاحظه می‌شود که، «تعداد چوب کبریت‌های شکل اول برابر ۵ است» که این مطلب را به طور خلاصه به صورت $a_1=5$ نشان داده‌ایم (می‌خوانیم: a اندیس ۱ برابر ۵). عبارت‌های a_1 ، a_2 و a_3 متغیرهای اندیس دار^۱ نامیده می‌شوند که مقادیر آنها به ترتیب ۵، ۸ و ۱۱ است. به این اعداد جملات الگو هم گفته می‌شود. پس در واقع، عدد ۵ جمله اول الگو است؛ ۸ جمله دوم آن و به همین ترتیب الی آخر.



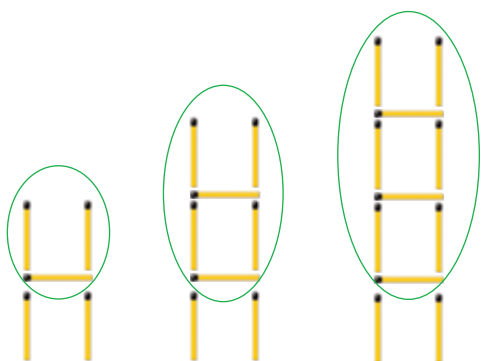
الف) با این نمادگذاری، a_n نشان دهنده چیست و مقدار آن چقدر است؟

ب) a_n به چه معناست؟

پ) آیا می‌توانید حاصل a_n را بر حسب n به دست آورید؟ برای این کار فعالیت بعد را انجام دهید.

۱- در سال‌های گذشته با متغیرهایی مثل x و y ، z سروکار داشتیم که اسم آنها تک حرفی بود؛ در حالی که نام متغیرهای اندیس دار که در اینجا به کار می‌بریم، دو بخشی است. پس تفاوت این دو نوع متغیر، تنها در شکل نام گذاری آنهاست و از نظر ماهیت، تفاوتی با هم ندارند.

۱ آیدا برای به دست آوردن حاصل a_n در مثال بالا، شکل های الگو را به صورت روبه رو در نظر گرفت. به کمک این روش، مقدار a_5 و a_n را به دست آورید.



$$a_1 = 1(2) + 2$$

$$a_2 = 2(2) + 2$$

$$a_3 = 3(2) + 2$$

$$a_4 = 4(2) + 2$$

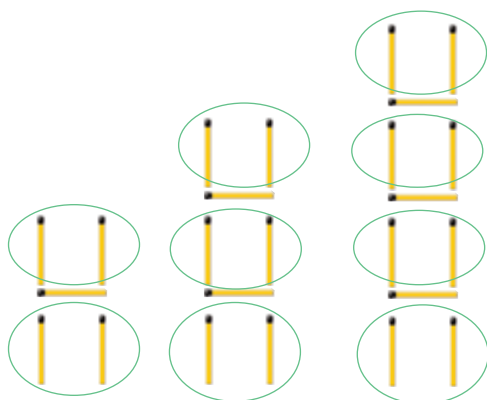
...

$$a_5 =$$

...

$$a_n =$$

۲ آيسا روش ديگري را به كار برد. او تعداد چوب کبريت های افقی و عمودی در هر شکل را به طور جداگانه مورد توجه قرار داد تا بتواند به مقدار a_n دست یابد. مقدار حاصل برای a_n از این روش را در جای مشخص شده بنویسید.



$$a_1 = 1 + 2(2)$$

$$a_2 = 2 + 3(2)$$

$$a_3 = 3 + 4(2)$$

$$a_4 = 4 + 5(2)$$

...

$$a_5 = 10 + (10 + 1)2$$

...

$$a_n =$$

چوب های عمودی چوب های افقی

۳ آیا شما راه دیگری را برای به دست آوردن حاصل a_n می دانید؟

۴ همان طور که در قسمت های (۱) و (۲) دیدیم، آیدا و آيسا مقدار a_n را به ترتیب به صورت های $a_n = 3n + 2$ و $a_n = n + (n+1)(2)$ به دست آوردند. جواب آيسا را ساده کنید تا به شکل جواب آیدا درآید.

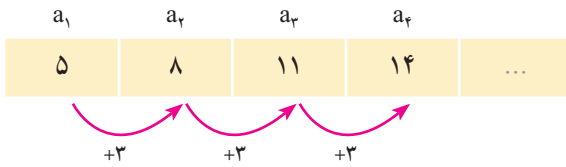
۵ به کمک رابطه $a_n = 3n + 2$ تعداد چوب کبريت های شکل بیستم را بیابید.

۶ با استفاده از رابطه $a_n = 3n + 2$ مشخص کنید که چندمین شکل در الگوی بالا دارای ۷۷ قطعه چوب کبريت است.

تذکر: در مثال بالا دیدیم که a_n بیانگر تعداد چوب کبريت های شکل n ام است. $a_n = 3n + 2$ را جمله عمومی الگو می نامیم؛ چرا که این رابطه در واقع ساختار جملات الگو را مشخص می کند و به کمک آن می توان مقدار هر جمله از الگو را به دست آورد. به عبارت دیگر، در اختیار داشتن جمله عمومی یک الگو به معنای آگاهی داشتن از تمام جملات آن الگو است.

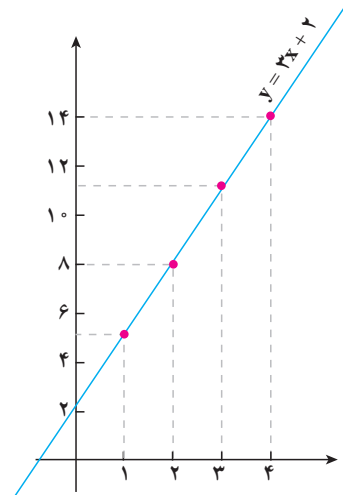
الگوی خطی

در الگوی مثال قبل دیدیم که هر جمله دقیقاً ۳ واحد بیش از جمله قبل از خودش بود.



n	a_n	(n, a_n)
۱	۵	(۱, ۵)
۲	۸	(۲, ۸)
۳	۱۱	(۳, ۱۱)
۴	۱۴	(۴, ۱۴)
.	.	.
.	.	.
.	.	.

چنین الگوهایی را که در آنها اختلاف هر دو جمله متوالی عددی ثابت است، الگوهای خطی می‌نامیم. برای بی بردن به دلیل این نام گذاری، ستون سوم جدول مقابل را در نظر می‌گیریم. اگر این نقاط را در صفحه مختصات مشخص کنیم، همگی آنها روی خط $y=3x+2$ قرار می‌گیرند. به عبارت دیگر مختصات تمام این نقاط در معادله خط گفته شده صدق می‌کند. شباهت بین معادله خط یعنی $y=3x+2$ و جمله عمومی الگو یعنی $a_n=3n+2$ اتفاقی نیست. عدد ۳ که در واقع اختلاف بین جملات متوالی الگو بود، در معادله خط به عنوان شیب خط ظاهر شده است که این مطلب همواره درست است.



به طور کلی الگوهایی را که جمله عمومی آنها به صورت $t_n = an + b$ است، الگوهای خطی می‌نامیم که در آن a و b اعداد حقیقی دلخواه و ثابت هستند.

دیدیم که در یک الگوی خطی با جمله عمومی $t_n = an + b$ ، میزان تغییر جملات متوالی برابر a بود. به عبارت دیگر، اختلاف هر دو جمله متوالی در این الگوی خطی برابر ضریب n است. به عنوان مثال در یک الگوی خطی با جمله عمومی $t_n = -4n + 15$ ، هر جمله نسبت به جمله قبل از خودش ۴ واحد کاهش می‌یابد:

۱۱, ۷, ۳, -۱, -۵, -۹, ...

مثال

در یک الگوی خطی، جملات چهارم و دهم به ترتیب ۱۷ و ۴۱ می‌باشند. جمله عمومی الگو را بیابید.

حل: فرض کنیم جمله عمومی به صورت $C_n = an + b$ باشد. پس داریم:

$$C_4 = 17 \Rightarrow a(4) + b = 17$$


$$C_{10} = 41 \Rightarrow a(10) + b = 41$$

$$\underline{\quad\quad\quad} \quad 6a = 24 \Rightarrow a = 4 \Rightarrow b = 1$$

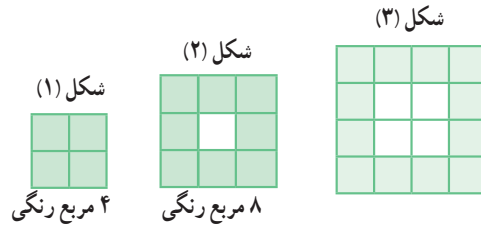
پس $C_n = 4n + 1$. بنابراین جملات الگو به صورت زیر خواهند بود:

۵, ۹, ۱۳, ۱۷, ۲۱, ۲۵, ۲۹, ۳۳, ۳۷, ۴۱, ۴۵, ...





۱ شکل بعدی را در الگوی زیر رسم و جدول را کامل کنید.



n : شماره شکل	۱	۲	۳	۴	۵
b_n : تعداد مربع های رنگی	۴	۸
رابطه بین n و b_n	$b_1 = 4$	$b_2 =$

۲ توضیح دهید که چرا این الگو یک الگوی خطی محسوب می شود.

۳ با توجه به میزان افزایش جملات الگو، مقدار a در رابطه $b_n = an + h$ را بیابید و پس از حدس زدن مقدار h، حاصل b_n را به دست آورید.

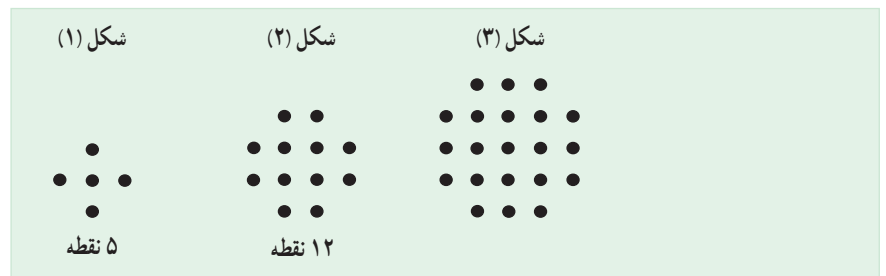
۴ شکل شماره ۲۵ دارای چند مربع رنگی است؟

۵ در چه مرحله ای از الگوی بالا، تعداد مربع های رنگی برابر ۱۴۴ است؟

الگوهای غیر خطی


فعالیت

۱ در الگوی زیر، شکل بعدی را رسم کنید و جدول را کامل نمایید.

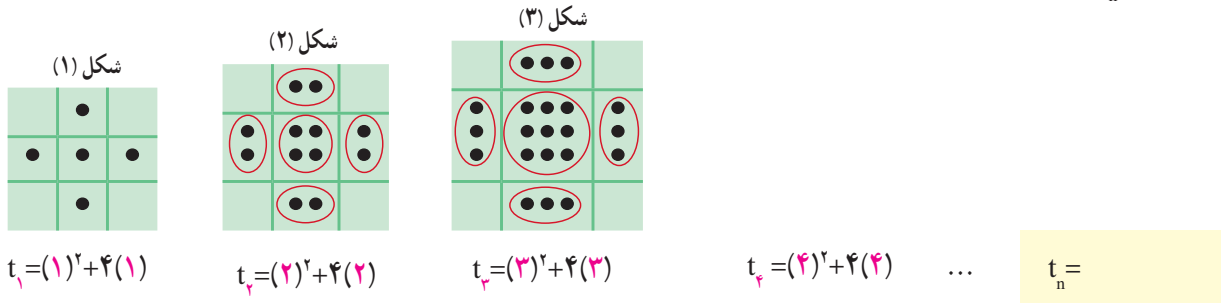


n : شماره شکل	۱	۲	۳	۴	۵
t_n : تعداد نقطه ها	۵	۱۲
رابطه بین n و t_n	$t_1 = 5$	$t_2 =$

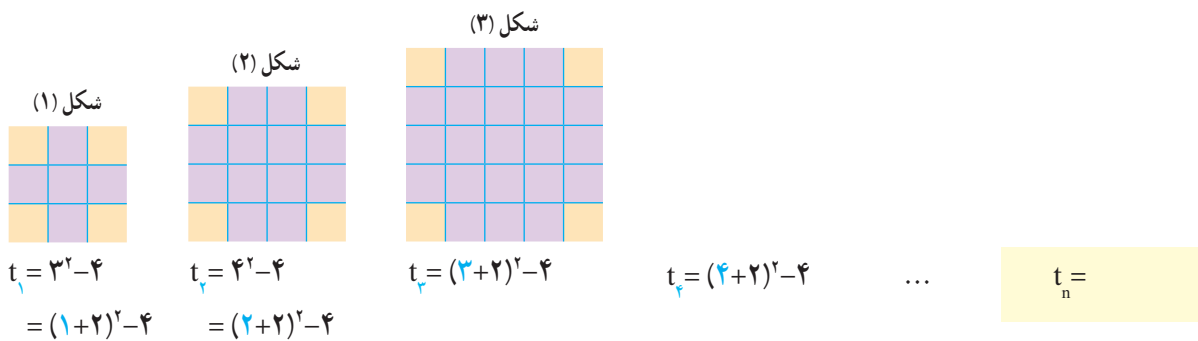
۲ آیا این الگو یک الگوی خطی است؟ چرا؟



۳ امیررضا برای یافتن جمله عمومی این الگو، مجموعه نقاط هر شکل را به صورت زیر دسته بندی کرد. از شکل های امیررضا کمک بگیرید و مقدار t_n را بیابید.



۴ امیرمحمد نگاه دیگری به مسئله داشت. او برای هر شکل این الگو، شکل دیگری را به صورت زیر نظیر کرد. با استفاده از این شکل ها مقدار t_n را بنویسید.



۵ نشان دهید که دو مقدار به دست آمده برای t_n در دو قسمت قبلی، برابرند.

۶ آیا شما روش دیگری برای یافتن t_n می شناسید؟ پاسخ خود را با جواب دوستانتان مقایسه کنید.

دنباله

در بخش قبل برای برخی الگوهای هندسی داده شده، یک الگوی عددی نظیر کردیم. به عنوان نمونه در فعالیت قبل، تعداد نقاط مربوط به شکل های متوالی الگو به صورت زیر بود:

۵, ۱۲, ۲۱, ۳۲, ۴۵,

این آرایش از اعداد، مثالی از یک دنباله است.

هر تعداد عدد را که پشت سرهم قرار می گیرند، یک دنباله می نامیم. این اعداد، جملات دنباله نامیده می شوند.

توجه داریم که ممکن است جملات یک دنباله فاقد الگو باشند. مشابه صفحات قبل، جمله اول این دنباله را با t_1 ، جمله دوم را با t_2 و به همین ترتیب جمله n ام یا جمله عمومی آن را با t_n نمایش می‌دهیم. پس:

$$t_1 = 5, t_2 = 12, t_3 = 21, \dots, t_n = n^2 + 4n, \dots$$

گفتنی است که این دنباله یک دنباله درجه ۲ نامیده می‌شود؛ زیرا جمله عمومی آن یک چند جمله‌ای درجه دوم است.

کار در کلاس

۱ دو دنباله دلخواه مثال بزنید.

۲ جمله عمومی چند دنباله داده شده است. در هر مورد، جاهای خالی را پر کنید.

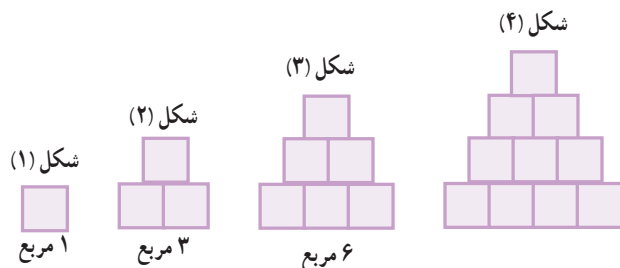
الف) $a_n = n^2 - 1$: ۰, ۳, ..., ۱۵, ۲۴

ب) $b_n = -n + 4$: ۳, ۲, ۱, ۰, ..., -۲

ج) $c_n = -13 + 2n$: -۱۱, ..., -۷, ..., -۳

۳ در هر سطر از جدول زیر یک دنباله آمده است. در هر مورد سه جمله بعدی را بنویسید. همچنین در پنج مورد اول سعی کنید یک جمله عمومی برای دنباله نیز حدس بزنید.

t_1	t_2	t_3	t_4	t_5	t_6	t_7	...	t_n	...
-۱	-۲	-۳	-۴				...	-n	...
۱	$\sqrt{3}$	$\sqrt{5}$	$\sqrt{7}$			
۱	۴	۹	۱۶			
۰/۱	۰/۰۱	۰/۰۰۱	۰/۰۰۰۱			
-۱	۸	-۲۷	۶۴			
۵	۱۸	۳۱	۴۴			
-۲	۱	$\frac{-1}{2}$	$\frac{1}{4}$			
۱	۲	۴	۷			
۳	۱	۴	۱	۵		
۱	۱	۲	۳	۵		
۲	۳	۵	۷			

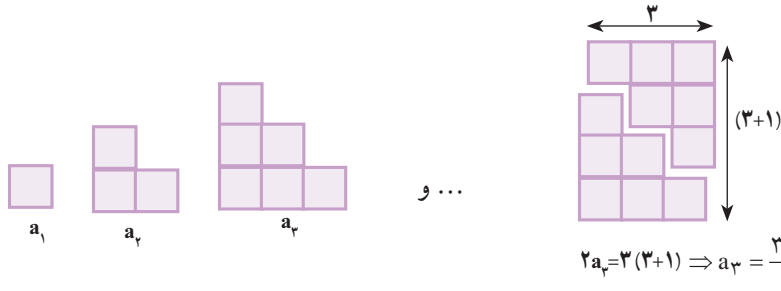


۴ الگوی مقابل را در نظر بگیرید.

الف) تعداد مربع‌ها در الگو را به صورت یک دنباله تا جمله ششم آن بنویسید.

ب) آیا دنباله حاصل یک دنباله خطی است؟ چرا؟

پ) شکل‌های الگوی صفحه قبل را به صورت زیر تبدیل می‌کنیم. با دقت در تصویر زیر سعی کنید حاصل a_n را بر حسب n به دست آورید.



ت) به کمک مرحله قبل حاصل عبارت زیر را بنویسید.

$$1 + 2 + 3 + \dots + n =$$

تمرین

۱) به الگوی روبه‌رو توجه کنید.



الف) شکل بعدی را رسم کنید و تعداد کاشی‌های تیره آن را مشخص کنید.

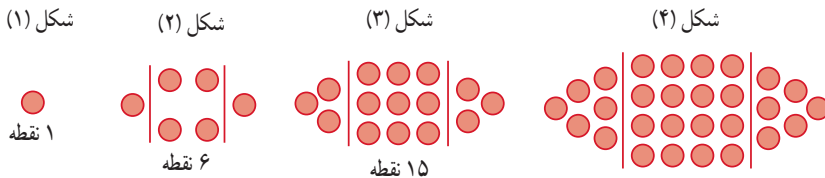
ب) تعداد کاشی‌های تیره در هر مرحله را به صورت یک دنباله تا جمله هفتم آن بنویسید.

پ) اگر n تعداد کاشی‌های سفید و t_n تعداد کاشی‌های تیره باشد، مقدار t_n را بر حسب n بنویسید.

ت) برای 100 کاشی سفید، چند کاشی تیره لازم است؟

ث) آیا در این الگو شکلی وجود دارد که شامل 50 کاشی تیره باشد؟ اگر هست، تعداد کاشی‌های سفید آن چند است؟

۲) الگوی زیر را در نظر بگیرید.



الف) شکل بعدی را رسم کنید، سپس تعداد نقاط هر مرحله را به صورت یک دنباله تا جمله ششم آن بنویسید.

ب) جمله عمومی الگو را بیابید.

پ) شکل دهم در این الگو چند نقطه دارد؟

۳) جمله عمومی چند دنباله داده شده است. در هر مورد چهار جمله اول دنباله را بنویسید و سپس به هر یک از آنها یک الگوی هندسی

نظیر کنید.

الف) $a_n = 4n$

ب) $b_n = 3n + 1$

پ) $c_n = n^2 + 2$

ت) $d_n = n^2 + n$

۴) برای هر یک از دنباله‌های درجه دو زیر جمله عمومی را به دست آورید و سپس برای هر کدام، یک الگوی هندسی نظیر کنید.

الف) $5, 8, 13, 20, 29, \dots$

ب) $5, 12, 22, 35, 51, \dots$