

فصل اول

عد و رقم



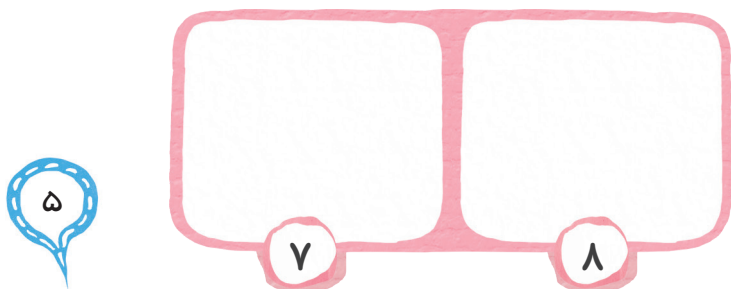
۱ مریم و رضا شکل های روی هر بادبادک را می شمارند تا به قرقره ی مناسب وصل کنند. مریم دو تا دو تا و رضا سه تا سه تا می شمارند. شکل های هر بادبادک را از هر راهی که می خواهید بشمارید و به عدد آن وصل کنید.



◀ شکل ها را چگونه شمردید؟


۳ به اندازه ی هر عدد شکل بکشید.

۲ عدد هر شکل را بنویسید.




عدد و شمارش

۴ روی هر شکل علامت بزنید، بشمارید و بنویسید.




۵ دسته‌های ده تایی جدا کنید. عدد را بنویسید.





به رقم: _____


به حروف: _____

۶ به اندازه‌ی عدد هر باغچه از گل‌های رنگ‌نشدۀ را به رقم و حروف بنویسید.





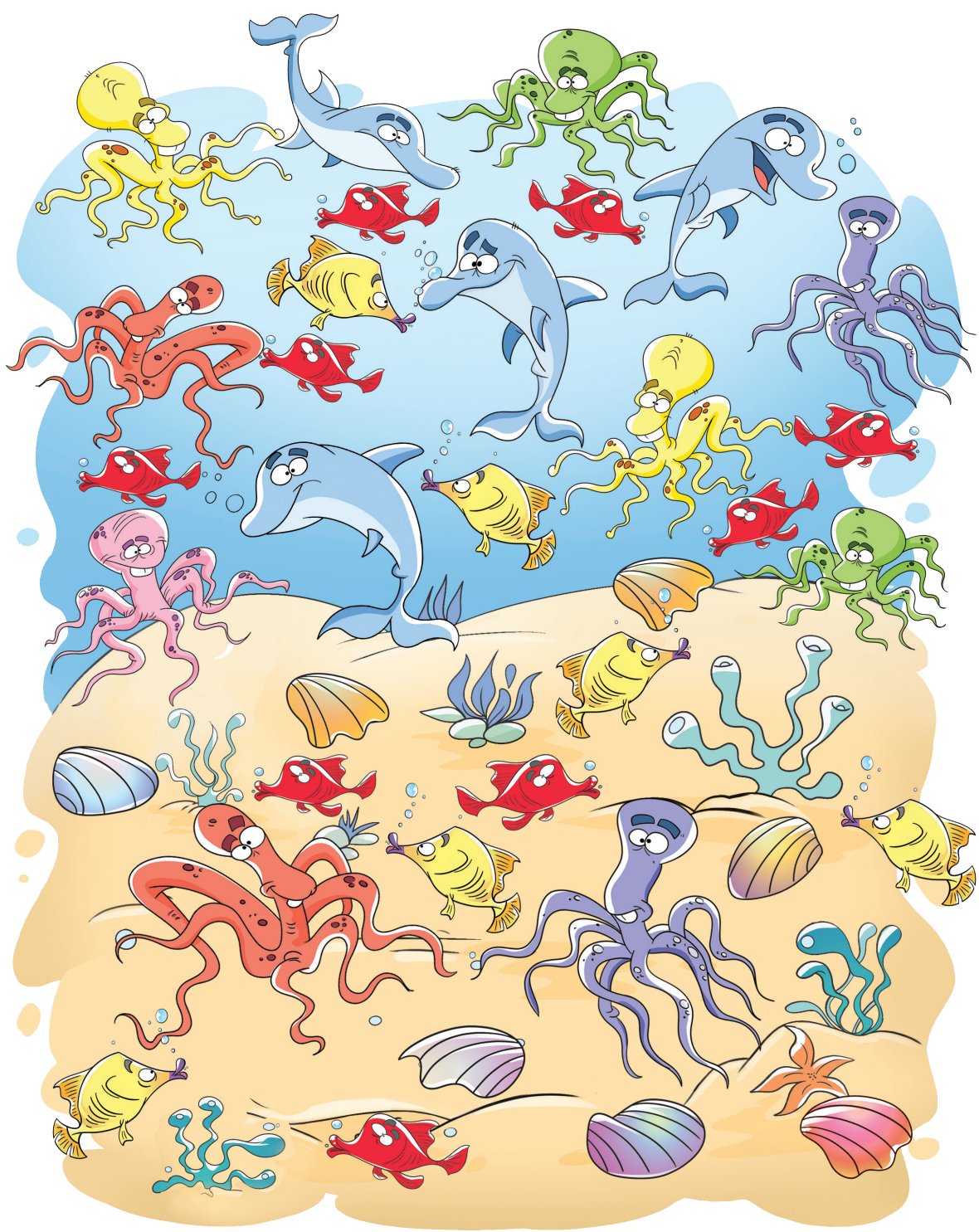






مانند نمونه هر شکل را بشمارید. با عدد و چوب خط نشان دهید.

۷



A row of five circular frames, each containing a different animal from the illustration above. Below each frame is a small white box for writing the number and a set of four horizontal lines for counting. The animals are: a blue dolphin, a yellow fish, a red clownfish, a pink octopus, and a seashell. The seashell's box contains the number '۷' and four vertical lines representing the number 7.

۳۵:




کارپوچینو • ریاضی دوم دبستان • فصل اول: عدد و رقم



۸ جدول شگفت‌انگیز را کامل کنید.

۶	۹	۱	۲	۵	۳	۴		۷
۵		۷	۶	۸	۱	۳	۲	۹
۲	۸	۳		۷	۴	۱		۵
۹	۶		۸	۲	۷	۵	۱	
	۱	۵	۴		۹	۲	۷	۸
۷		۸	۳	۱	۵		۹	۴
۸	۵	۶		۳	۲	۹		۱
	۳	۲	۱		۸	۷	۵	۶
۱	۷	۹	۵	۴		۸	۳	

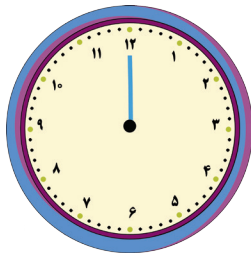
۹ به اندازه‌ی چوب‌خط‌ها شکل بکشید و عدد را بنویسید.



به رقم:

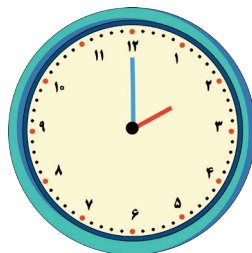
به حروف:

۱۱ ساعت چند است؟ عقربه‌ی کوچک را بکشید.

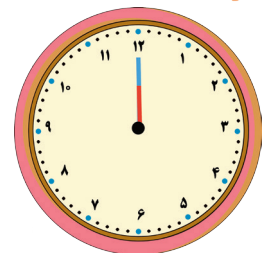


ساعت ۸

۱۰ هر شکل چه ساعتی را نشان می‌دهد؟





ساعت




ساعت



۱۲ مانند نمونه، عددهای مثل هم را به هم وصل کنید.



۱۳ با کشیدن ادامه‌ی خط، گنجشک را از مسیر ۱ تا ۱۰ به سیب برسانید. نوشتن عددها را کامل کنید.




۱ - - - ۴ - - - ۷ - - -

حدرس بزن

۱۴ تعداد شکل‌های کدام سمت بیشتر است؟ عدد آن را بنویسید و علامت کمتر - بیشتر (<) بگذارید.




۱۵ تعداد شکل‌های کدام سمت کمتر است؟ عدد آن را بنویسید و علامت کمتر - بیشتر (<) بگذارید.



دسته‌های ده‌تایی و یکی

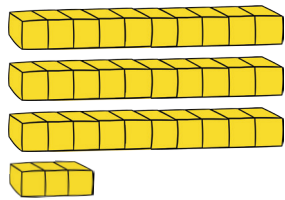
۱۶ با توجه به شکل‌ها، جدول‌ها را کامل کنید. عددها را بنویسید.



ده تایی	یکی

به رقم:

به حروف:



ده تایی	یکی

به رقم:

به حروف:

۱۷ در جای خالی عدد یکان را به دلخواه بنویسید. کامل کنید.

۶	
×	


۷	
×	

۳	
×	

۲۵	
×	

بیست و پنج

۱۸ نوشتن عددها را ادامه دهید.



۱۹ اگر هر دو کارت عدد را کنار هم بگذارید، چه عددی می‌شود؟



به رقم: به حروف:

با این کارت‌ها چه عدد دیگری می‌توانید بنویسید؟

به رقم: به حروف:



۲۰ با این دو کارت دو عدد بنویسید.



به رقم:	به حروف:
به رقم:	به حروف:

۲۱ دسته‌های ده تایی را جدا کرده و جدول را کامل کنید. جاهای خالی را تکمیل کنید.

یکی	ده تایی
.....

به رقم:

به حروف:

◀ عدد نوشته شده را بخوانید. این عدد چند رقم دارد؟
.....

◀ رقم‌های آن و هستند.


۲۲ یک عدد دو رقمی بنویسید که رقم‌های آن با هم فرق داشته باشند.
.....

◀ رقم‌های آن را بنویسید. و



◀ با این دو رقم یک عدد دو رقمی دیگر بنویسید.
.....

۲۳ یک عدد دو رقمی بنویسید که یکان آن ۷ و دهگان آن ۵ باشد.
.....

۲۴ پنج عدد دو رقمی بنویسید که رقم‌های یکان و دهگان آنها مثل هم باشند.

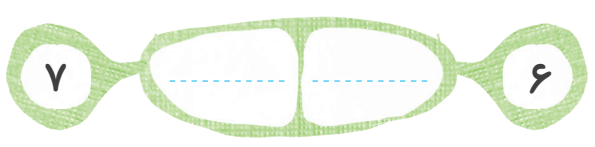
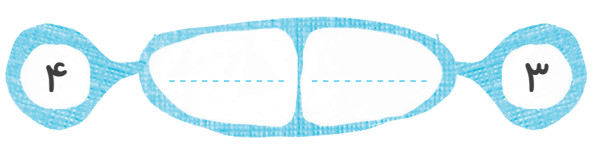


۲۵ پنج عدد دو رقمی بنویسید که رقم یکان آنها ۰ باشد.






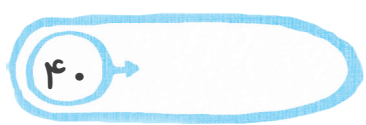




۲۶ با هر دو رقم، عددهای دو رقمی بنویسید.



۲۷ با نوشتن عددها، جاهای خالی را کامل کنید.



۲۸ از عدد ۸۱ تا ۹۰ بنویسید.

۸۱ _ _ _ _ _

۲۹ شکل‌ها را بشمارید. جاهای خالی را کامل کنید.



به رقم:

به حروف:

عدد ، رقم دارد. رقم‌های آن و هستند.

با این رقم‌ها یک عدد دو رقمی دیگر بنویسید.



۳۰ کامل کنید.

در عدد ۴۰، رقم یکان

و رقم دهگان است.

در عدد ، رقم یکان ۵

و رقم دهگان ۶ است.

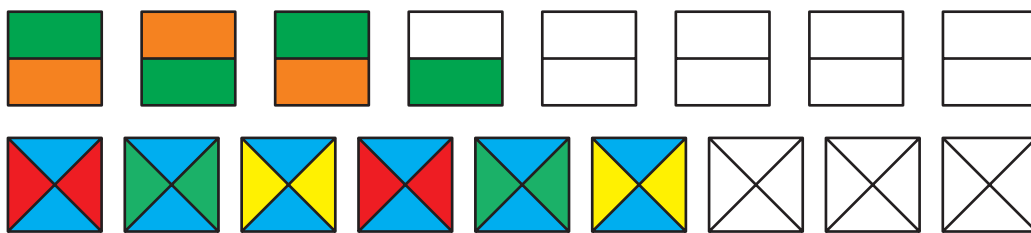
سه عدد دو رقمی بنویسید که رقم دهگان آنها ۹ باشد.



یک عدد ۲ رقمی بنویسید که یکان آن ۷ و رقم دهگان آن ۲ تا کمتر از رقم یکان باشد.




الگو را ادامه دهید.



حل مسئله

۳۴ یک نقاش از ۳۸ آجر دیواری، ۱۶ آجر را رنگ زد. چند آجر را رنگ نکرده است؟

نقاش آجر را رنگ نکرده است.



۳۵ مادر علی ۱۹ دکمه خرید. ۱۳ دکمه قرمز و بقیه آبی بودند. مادر علی چند دکمه آبی خریده است؟

مادر علی دکمه آبی خریده است.

