

درک مطلب

در بامداد، مردی تنومند و بلند قامت از خانه‌ای بیرون آمد. از میان کوچه‌های تنگ و دیوارهای کوتاه و بلند شهر گذشت و به مسجد آن شهر نزدیک شد. صدای اذان صبح از **گلدسته‌ها** به گوش می‌رسید. مرد وضو گرفت و با خدای خود به راز و نیاز پرداخت. هنوز چیزی نگذشته بود که از پشت یکی از ستون‌های مسجد صدای گریه‌ی پیرزنی را شنید که به درگاه خدا التماس می‌کرد.

مرد بی‌تاب شد. با خود اندیشید حتماً این زن، **تنگ‌دست** و نیازمند است. آرام به پیرزن نزدیک شد. با مهربانی پرسید: «مادر چه می‌خواهی؟»

پیرزن آرام شد و گفت: «ای جوانمرد! برای پسرم دعا کن. پسری دارم زورمند و دلاور که در شهرمان **پراوازه** است. هر جا نام و نشان پهلوانی را می‌شنود، تصمیم می‌گیرد با **وی** کشتی بگیرد. تا امروز هیچ‌کس نتوانسته است پشت او را به خاک برساند. اکنون پهلوانی به شهر ما وارد شده و **قصد** دارد با پسر من مبارزه کند. می‌ترسم پسرم مغلوب شود و روی بازگشت به خانه را نداشته باشد.»

مرد گفت: «به لطف خدا امیدوار باش مادر! **یقین بدان** خداوند دعای مادران را برآورده می‌کند.» این را گفت و با حالتی پریشان، از پیرزن دور شد و از مسجد بیرون رفت.

مرد می‌دانست قهرمان واقعی کسی است که نفس سرکش خود را مهار کند.

روز موعود فرا رسید. مرد خیلی قوی‌تر از کشتی‌گیر شهر بود. **او** می‌توانست پشت حریف را به خاک برساند؛ اما عهد خود را به یاد آورد. مدتی با او دست و پنجه نرم کرد و طوری رفتار کرد که دیگران احساس کنند **حریف** وی قوی‌تر است.

پس از مدتی **پهلوان** نام‌آور بر زمین افتاد و حریف روی سینه‌اش نشست. بازوبند پهلوانی به مرد جوان داده شد.

اما ماجرای فداکاری این پهلوان در همه‌ی شهرها پیچید. از آن پس، همگان از پوریای ولی به عنوان یکی از جوانمردان و اولیای خدا یاد می‌کنند.

❏ چرا پیرزن به درگاه خدا التماس می‌کرد؟

.....

❏ پوریای ولی در مسابقه با آن جوان چگونه رفتار کرد؟

.....

❏ پوریای ولی چگونه انسانی بود؟

.....



۱۵ جمله‌های سمت راست را به تصویر مناسب در سمت چپ وصل کن.



مصرف زیاد آن‌ها برای بدن ضرر دارد.



محل نگهداری آن‌ها در فریزر است.



بیشتر در زمان صبحانه خورده می‌شوند.



محل نگهداری آن‌ها جای خشک و خنک است.

۱۶ پدر کارن می‌خواهد فردا به کوه‌نوردی برود. خوردن چه غذاهایی را برای شام امشب به او پیشنهاد می‌دهی؟ با کشیدن خط آن‌ها را به پدر وصل کن.



۱۷ نوید و دوستش برای خرید به سوپرمارکت رفتند. آن‌ها یک خوراکی برداشتند و برای اطمینان از مفید یا مضر بودن آن سراغ برچسب سیب سلامت رفتند. جاهای خالی را پر کن و با توجه به تصویر، به پرسش قسمت «ب» پاسخ بده.

الف نوید گفت: «خانم معلم به ما گفتند اگر برچسب سیب سلامت یک خوراکی، یک سطر به رنگ یا دو سطر به رنگ داشته باشد، یعنی باید در مصرف آن خوراکی احتیاط کرد.»

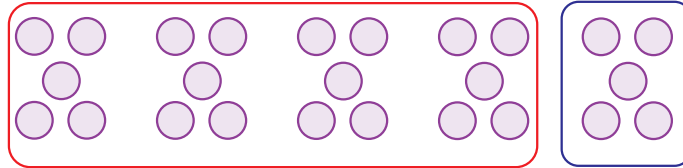
ب به نظر شما این خوراکی مناسب و سالم است؟

به نظر من ؛ چون

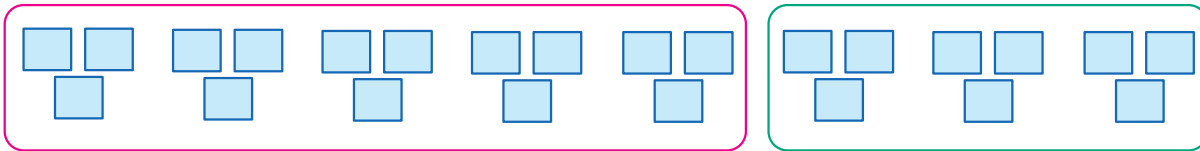
فقد
چربی
نمک
اندک ● متوسط ● زیاد ●



۸ تساوی مربوط به هر شکل را کامل کن.



الف $(\dots \times \dots) + (\dots \times \dots) = \dots + \dots = \boxed{}$



ب $(\dots \times \dots) + (\dots \times \dots) = \dots + \dots = \boxed{}$



۹ جاهای خالی را با عددهای مناسب پر کن.

الف $(5 \times 4) + (\dots \times 4) = 6 \times 4$

ب $(\dots \times 4) + (1 \times 4) = 3 \times \dots$

ج $\dots \times \dots = (3 \times 8) + (2 \times 8)$

د $9 \times 6 = (4 \times \dots) + (\dots \times 6)$



۱۰ حاصل عبارت‌ها را پیدا کن.

الف $(8 \times 2) - (3 \times 3) = \dots - \dots = \boxed{}$

ب $(4 + 2) \times (8 - 5) = \dots \times \dots = \boxed{}$

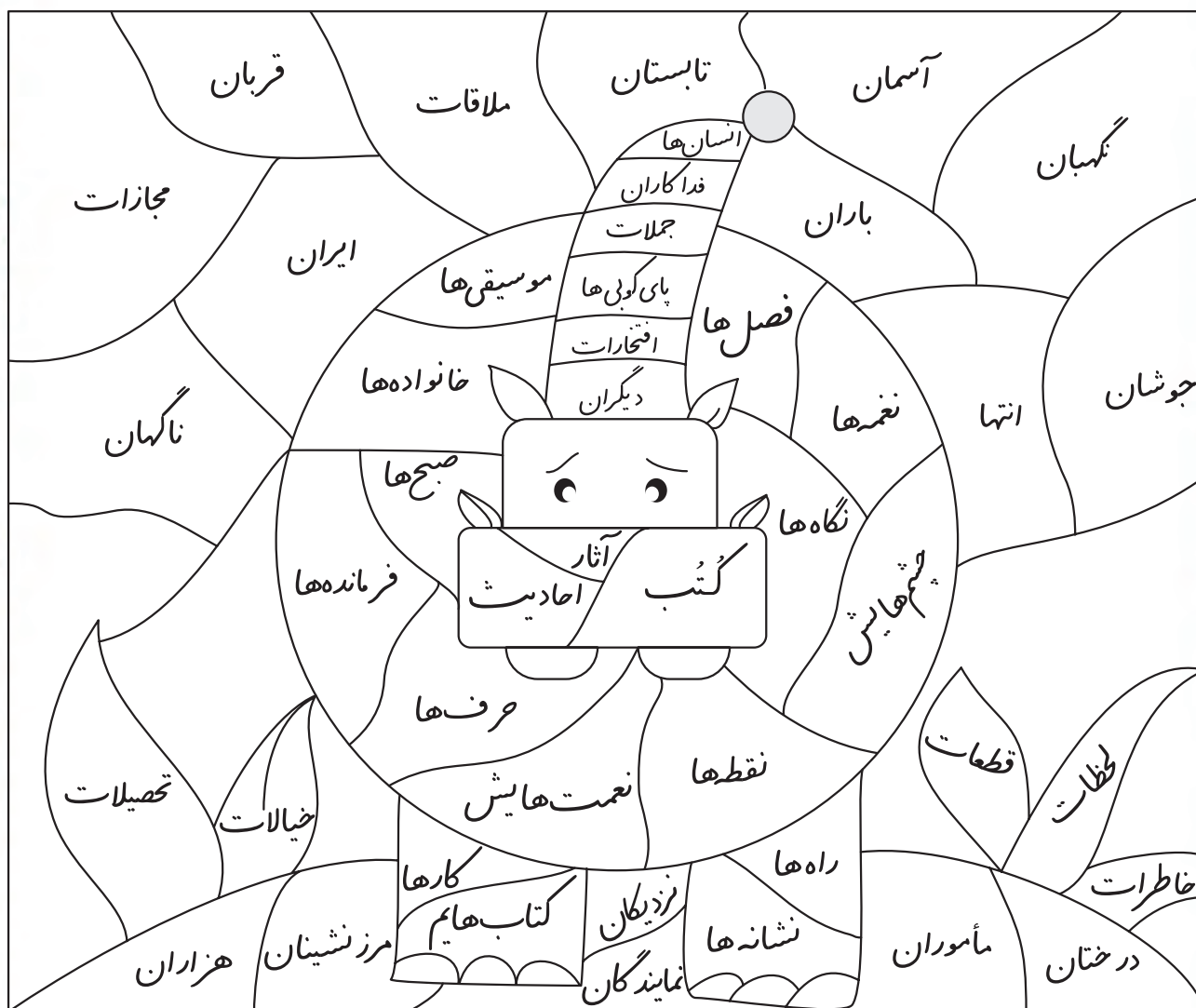
ج $(6 \times 2) + (3 \times 3) = \dots + \dots = \boxed{}$

د $(8 - 5) \times (7 + 2) = \dots \times \dots = \boxed{}$

ه $(9 \times 1) \times (2 \times 4) = \dots \times \dots = \boxed{}$



۴ شکل را با توجه به هر دستور، کلمه‌ها را از داخل شکل پیدا کن و رنگ بزن.



الف کلمه‌هایی را که با نشانه‌ی «ات» جمع بسته شده‌اند، رنگ سبز بزن.

ب کلمه‌هایی را که با نشانه‌ی «ها» جمع بسته شده‌اند، رنگ خاکستری بزن.

ج کلمه‌هایی را که با نشانه‌ی «ان» جمع بسته شده‌اند، رنگ قهوه‌ای بزن.

د کلمه‌هایی را که جمع نیستند، رنگ آبی بزن.

ه کلمه‌هایی جمعی را که نشانه‌ی جمع ندارند، رنگ زرد بزن.



۵ کلمه‌هایی بنویس که با پسوند «اند» ساخته شده باشند.





۲۲ نوید از مقابل یک مرکز پزشکی عبور می‌کرد. با تعجب دید روی بدنه‌ی آمبولانس کلمه‌ی آمبولانس برعکس نوشته شده است. دلیل آن را از مادرش پرسید. مادر یک آینه به نوید داد و گفت: «از توی آینه به نوشته‌ی روی آمبولانس نگاه کن.»

الف نوشته‌ی روی آمبولانس از داخل آینه چگونه خوانده می‌شود؟


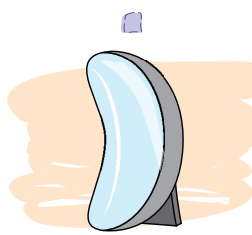
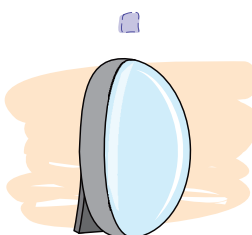
ب دلیل اینکه کلمه‌ی آمبولانس روی بدنه‌ی آن برعکس نوشته می‌شود چیست؟

۲۳ هر جمله را به تصویر مناسب خودش وصل کن.

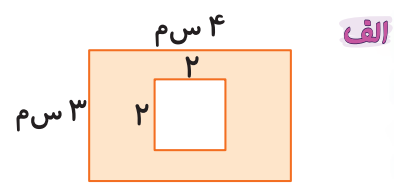
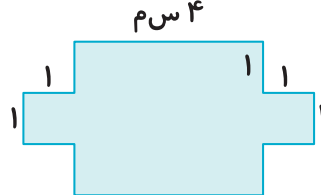
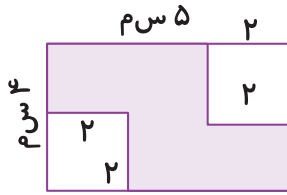


- نور را مانند آینه بازتابش می‌کند.
- بزرگ‌ترین منبع نور در زندگی ما است.
- نور را به طور نامنظم بازتابش می‌کند.

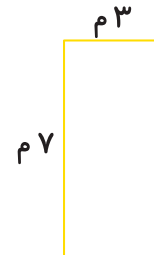
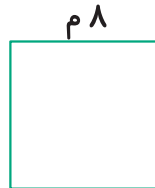
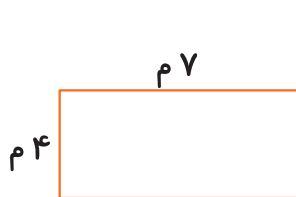
۲۴ کاربرد هر آینه را به تصویر آن وصل کن.





مساحت قسمت‌های رنگ‌شده را به دست بیاور.




می‌خواهیم استخری به طول ۵ متر و عرض ۳ متر را در یکی از زمین‌های زیر بسازیم، به طوری که مساحت بیشتری از زمین باقی بماند. کدام یک از زمین‌های زیر مناسب‌تر است؟



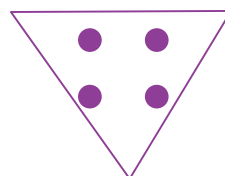
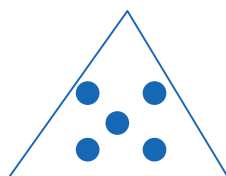
قطرهای هر کدام از شکل‌های زیر را رسم کن.



شکل بعدی الگوی زیر کدام است؟



?



۱۴ حاصل هر دسته از ضرب‌های زیر را بنویس.

الف $۵ \times ۱ = \dots\dots\dots$

ب $۸ \times ۱ = \dots\dots\dots$

$۵ \times ۱۰ = \dots\dots\dots$

$۸ \times ۱۰ = \dots\dots\dots$

$۵ \times ۱۰۰ = \dots\dots\dots$

$۸ \times ۱۰۰ = \dots\dots\dots$

$۵ \times ۱۰۰۰ = \dots\dots\dots$

$۸ \times ۱۰۰۰ = \dots\dots\dots$

۱۵ حاصل ضرب‌های زیر را به دست بیاور.

الف $۳۰ \times ۴۰ = \dots\dots\dots$

ب $۲۰ \times ۷۰ = \dots\dots\dots$

ج $۹۰ \times ۷۰ = \dots\dots\dots$

د $۵۰ \times ۴۰ = \dots\dots\dots$

ه $۳۰۰ \times ۲۰ = \dots\dots\dots$

و $۴۰۰ \times ۳۰ = \dots\dots\dots$

۱۶ الف رضا روزانه از پدرش ۵۰۰ تومان پول توجیبی می‌گیرد. رضا در یک هفته چند تومان از پدرش پول توجیبی می‌گیرد؟

ب مقدار پولی را که رضا در ماه اسفند از پدرش گرفته است حساب کن.

۱۷ در جاهای خالی، عددهای مناسب بنویس.

الف $۱۰ \times \dots\dots\dots = ۳۰$

ب $\dots\dots\dots \times ۱ = ۱۵$

ج $۲۰۰ \times \dots\dots\dots = ۲۰۰۰$

د $۱۰ \times \dots\dots\dots = ۴۰۰$

ه $۶ \times \dots\dots\dots = ۶$

و $۷ \times \dots\dots\dots = ۰$

ز $۵۰۰۰ \times \dots\dots\dots = ۰$

ح $۴۵ \times \dots\dots\dots = ۴۵۰۰$

ط $۱۰ \times ۱۰ \times ۱۰ = \dots\dots\dots$

ی $۲۰ \times ۱۰ \times ۱۰ = \dots\dots\dots$

ک $۴۰۰ \times ۲۰۰ \times ۰ = \dots\dots\dots$

ل $۵ \times ۱۰ \times ۲۰ = \dots\dots\dots$

۱۸ با استفاده از شکل  برای عبارت‌های ضرب داده‌شده، شکل بکش.

الف

۵×۱

ب

۵×۰

🎁 برای هر جفت از عددهای زیر یک ضرب و یک تقسیم بنویس.

الف ۴,۱۳

.....
.....
.....

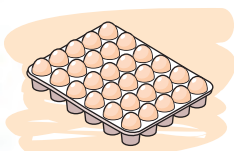
ب ۸,۴۷

.....
.....
.....

ج ۵,۲۴

.....
.....
.....

🎁 اگر جرم یک تخم مرغ به طور تقریبی ۴۰ گرم باشد، جرم یک شانه تخم مرغ چند گرم می شود؟



.....
.....

🎁 برای ضرب و تقسیم زیر یک مسئله بنویس و آن را حل کن.

الف

$$6 \times 200 = \bigcirc$$

ب

$$48 \div 6 = \bigcirc$$

🎁 زهرا تعدادی شکلات را بین دو نفر از دوستانش تقسیم کرد. اگر به هر کدام ۷ شکلات برسد و یکی هم برای خودش باقی بماند، تعداد شکلات های زهرا، چند تا بوده است؟

.....
.....