



۱۹۹ چهار روز قبل از دو روز بعد از دوشنبه، چندشنبه است؟

۱ یکشنبه

۲ سه‌شنبه

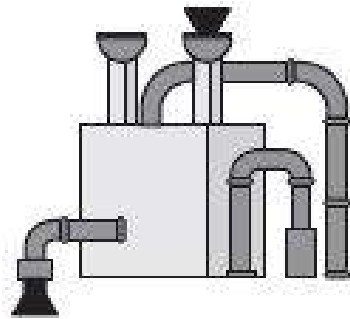
۳ جمعه

۴ شنبه

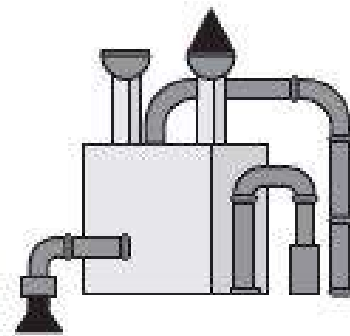


- ۵ ۱
- ۷ ۲
- ۱۱ ۳
- ۱۰ ۴

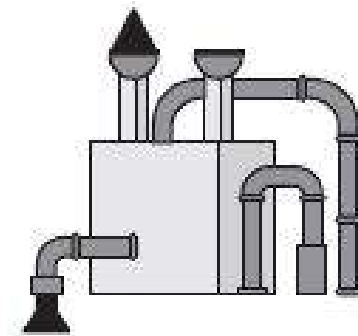
* با توجه به الگوهای زیر که دستور کار سه نوع ماشین ورودی و خروجی عدد هستند، به پنج سؤال بعدی پاسخ دهید.



(ج)



(ب)



(الف)

ماشین الف) عدد ورودی را سه برابر کرده و دو تا از آن کم می‌کند.

ماشین ب) عدد ورودی را در دو برابر خودش ضرب می‌کند و سه تا کم می‌کند.

ماشین ج) عدد ورودی را با عدد پنج تا کمتر از بیست جمع می‌کند.

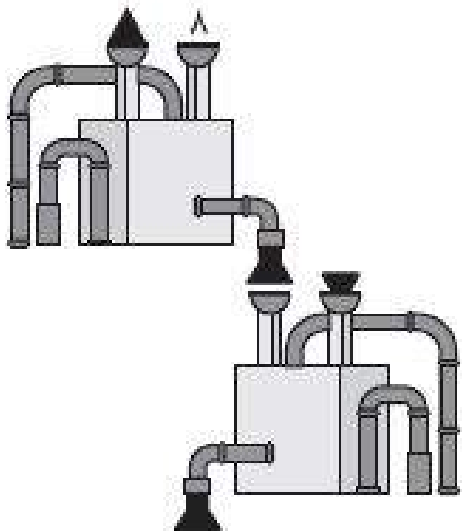
۲۶۶ خروجی ماشین مقابل، کدام است؟

۸۰ ۱

۱۴۶ ۲

۱۴۰ ۳

۷۶ ۴



* در هر یک از پنج سؤال بعدی، گزینه‌ای را که تعداد حرف مشترک در آن صحیح عنوان شده است، مشخص نمایید.


- ۱ شهر سوخته / آسمان تهران (۵ حرف مشترک)
- ۲ زیبای خفته / سن پترزبورگ (۳ حرف مشترک)
- ۳ شمش طلای مادر بزرگ / گوهر کمیاب خاتم (۵ حرف مشترک)
- ۴ سیب زمینی / بادام تلخ روستایی (۵ حرف مشترک)

* در چهار سؤال بعدی، گزینه‌ای را انتخاب کنید که هر دو سوی آن یکسان باشد.



- ۱
- ۲
- ۳
- ۴





۵۱ کدام مورد را می توان در تصویر مقابل یافت؟

- ۱ خرس پاندا
- ۲ سرنگ آمپول
- ۳ پزشک
- ۴ آمبولانس

در مجموعه‌ی زیر، چند عدد وجود دارد که اختلاف یکان و دهگان با نصف صدگان برابر باشد؟

«۶۸۵، ۸۱۵، ۷۳۶، ۳۹۳، ۸۲۶، ۴۱۵، ۴۱۶، ۲۰۱، ۲۱۱، ۸۲۴، ۶۳۶»

۲ تا ۶

۴ تا ۴

۱ تا ۵

۳ تا ۷